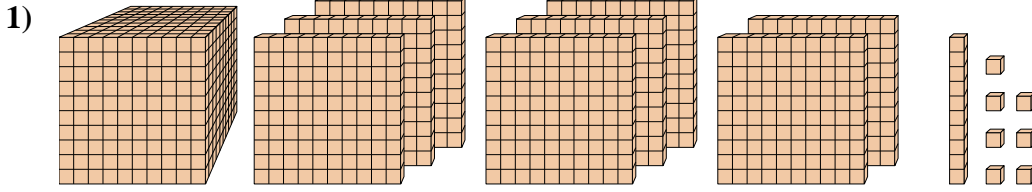




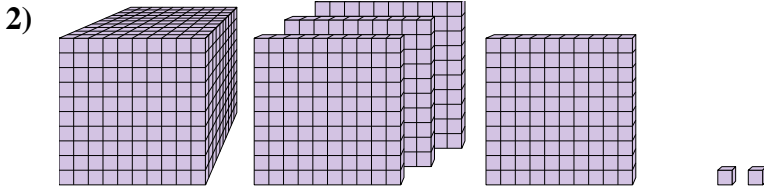
Résoudre chaque problème.

Réponses



Quel est le chiffre positionné à la dizaines place du nombre ci-dessus?

1. \_\_\_\_\_



Quel est le chiffre positionné à la centaines place du nombre ci-dessus?

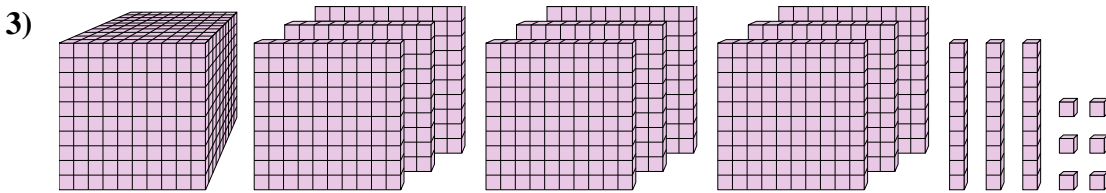
2. \_\_\_\_\_

3. \_\_\_\_\_

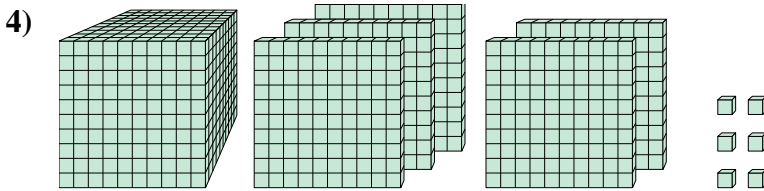
4. \_\_\_\_\_

5. \_\_\_\_\_

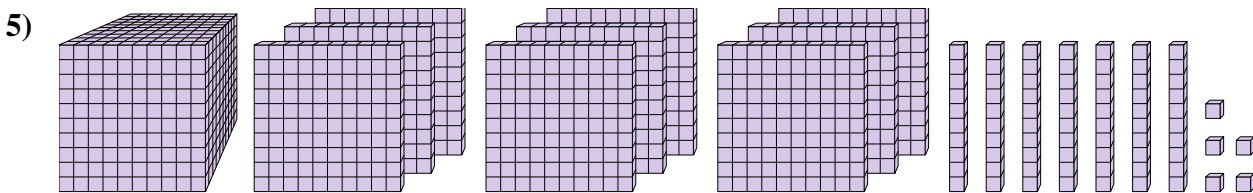
6. \_\_\_\_\_



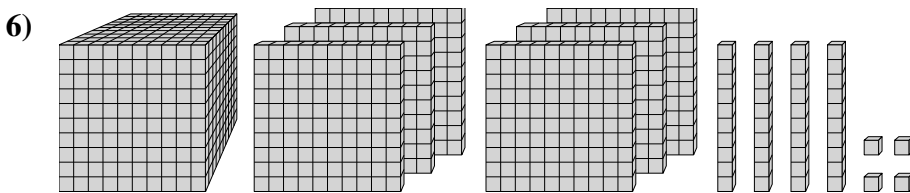
Quel est le chiffre positionné à la centaines place du nombre ci-dessus?



Quel est le chiffre positionné à la centaines place du nombre ci-dessus?



Quel est le chiffre positionné à la billions place du nombre ci-dessus?

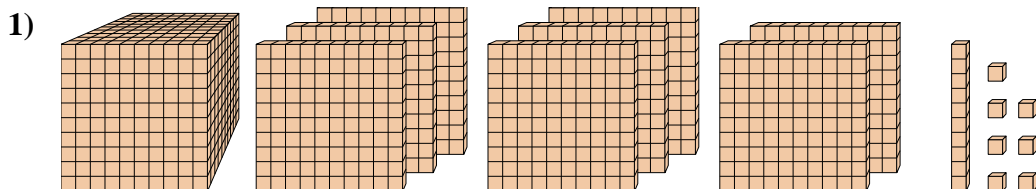


Quel est le chiffre positionné à la unités place du nombre ci-dessus?



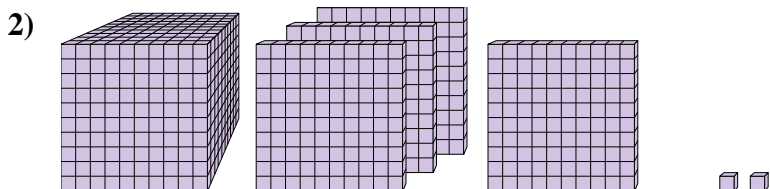
Résoudre chaque problème.

**Réponses**



Quel est le chiffre positionné à la dizaines place du nombre ci-dessus?

1. 1



Quel est le chiffre positionné à la centaines place du nombre ci-dessus?

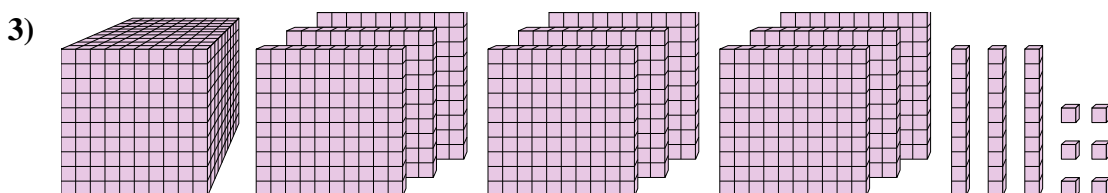
2. 1

3. 1

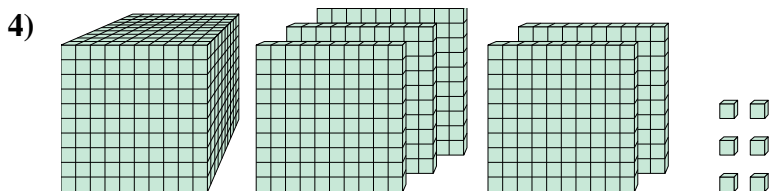
4. 1

5. 9

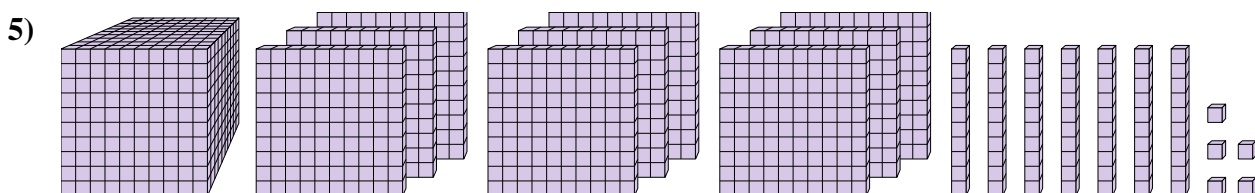
6. 4



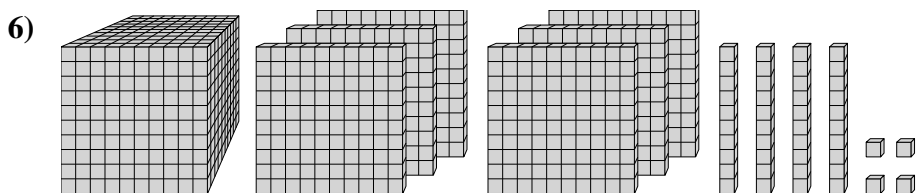
Quel est le chiffre positionné à la centaines place du nombre ci-dessus?



Quel est le chiffre positionné à la centaines place du nombre ci-dessus?



Quel est le chiffre positionné à la billions place du nombre ci-dessus?



Quel est le chiffre positionné à la unités place du nombre ci-dessus?