

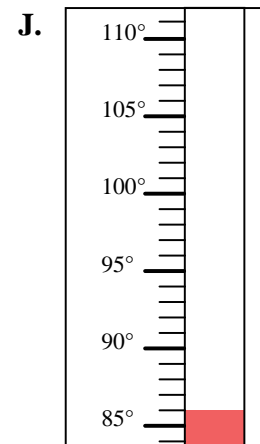
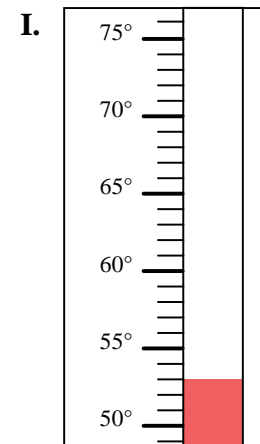
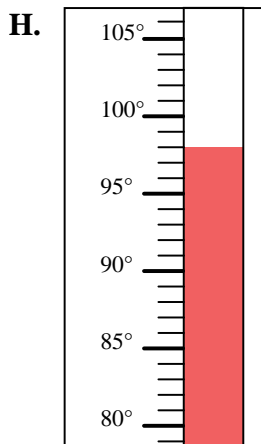
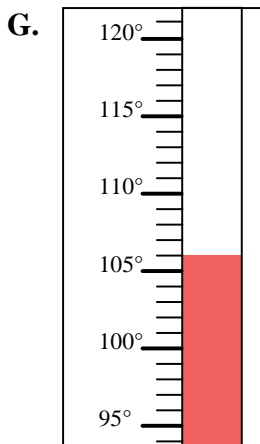
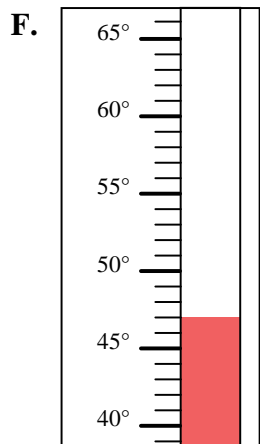
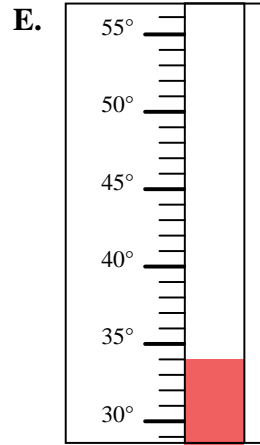
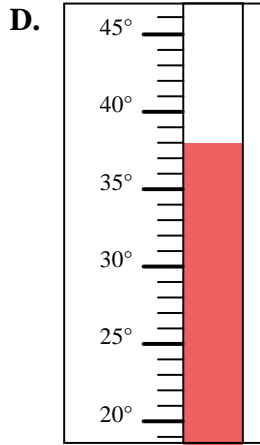
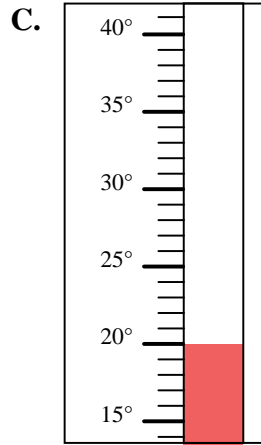
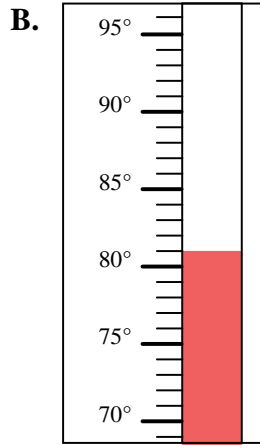
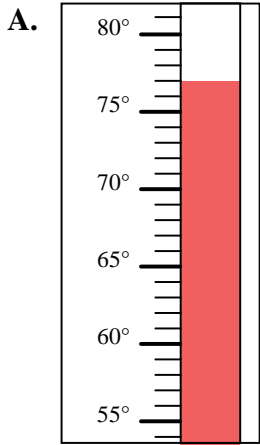


Déterminez quelle lettre répond le mieux à chaque question.

Réponses

- 1) Quelle thermomètre représente le mieux la température de 53°?
- 2) Quelle thermomètre représente le mieux la température de 98°?
- 3) Quelle thermomètre représente le mieux la température de 77°?
- 4) Quelle thermomètre représente le mieux la température de 106°?
- 5) Quelle thermomètre représente le mieux la température de 47°?
- 6) Quelle thermomètre représente le mieux la température de 86°?
- 7) Quelle thermomètre représente le mieux la température de 34°?
- 8) Quelle thermomètre représente le mieux la température de 81°?
- 9) Quelle thermomètre représente le mieux la température de 20°?
- 10) Quelle thermomètre représente le mieux la température de 38°?

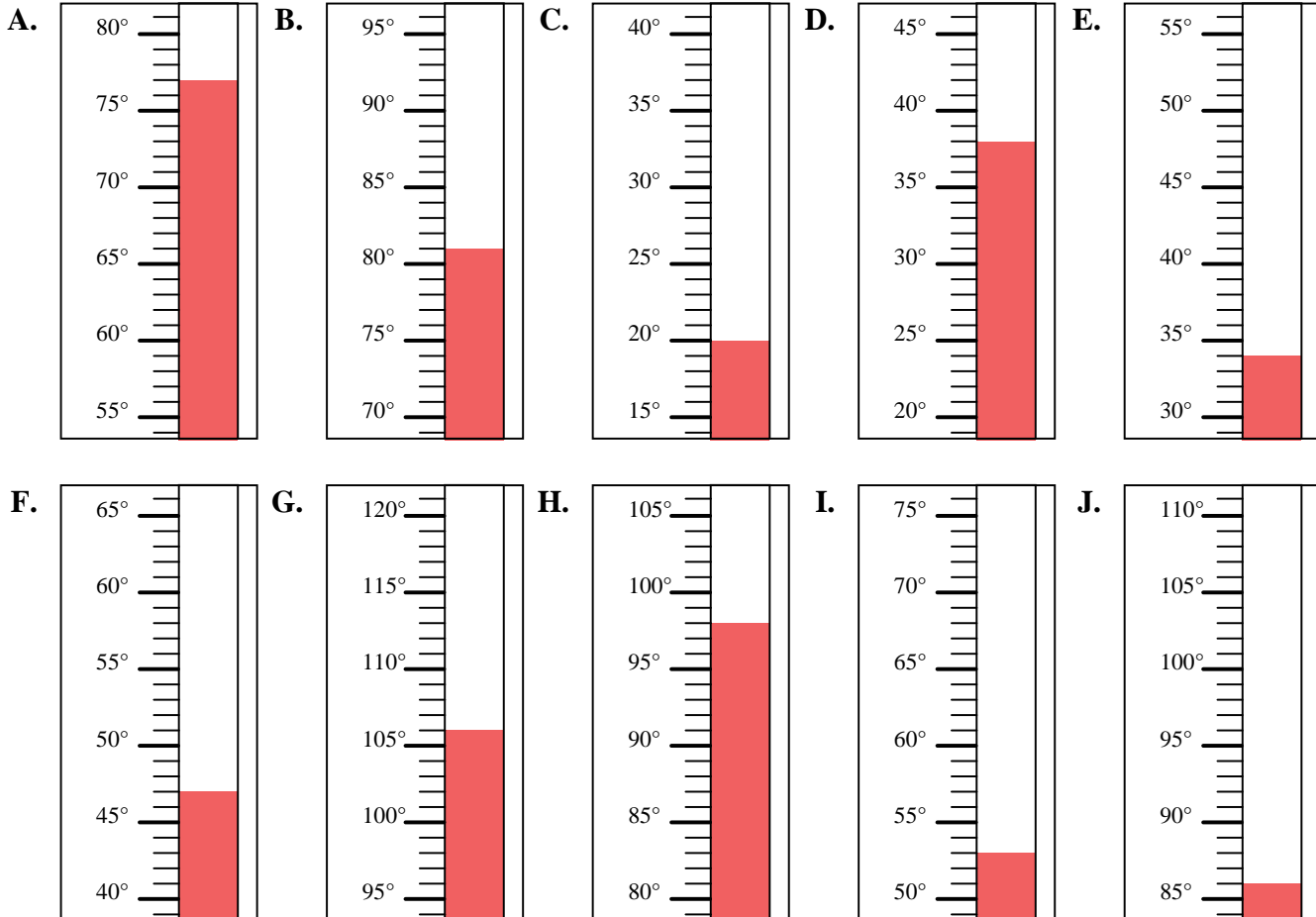
1. _____
2. _____
3. _____
4. _____
5. _____
6. _____
7. _____
8. _____
9. _____
10. _____





Déterminez quelle lettre répond le mieux à chaque question.

- 1) Quelle thermomètre représente le mieux la température de 53°?
- 2) Quelle thermomètre représente le mieux la température de 98°?
- 3) Quelle thermomètre représente le mieux la température de 77°?
- 4) Quelle thermomètre représente le mieux la température de 106°?
- 5) Quelle thermomètre représente le mieux la température de 47°?
- 6) Quelle thermomètre représente le mieux la température de 86°?
- 7) Quelle thermomètre représente le mieux la température de 34°?
- 8) Quelle thermomètre représente le mieux la température de 81°?
- 9) Quelle thermomètre représente le mieux la température de 20°?
- 10) Quelle thermomètre représente le mieux la température de 38°?

Réponses1. **I**2. **H**3. **A**4. **G**5. **F**6. **J**7. **E**8. **B**9. **C**10. **D**

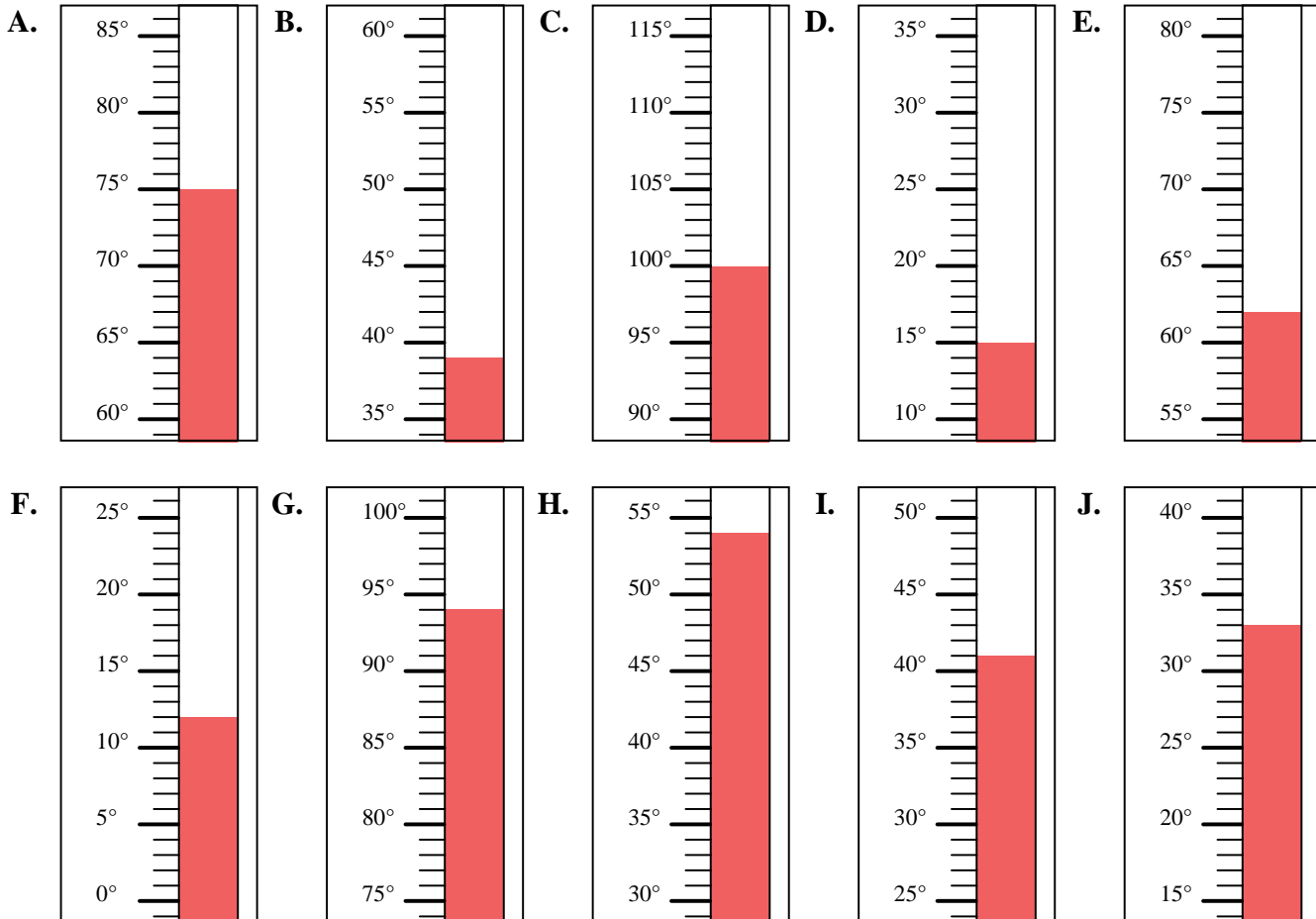


Déterminez quelle lettre répond le mieux à chaque question.

Réponses

- 1) Quelle thermomètre représente le mieux la température de 39°?
- 2) Quelle thermomètre représente le mieux la température de 12°?
- 3) Quelle thermomètre représente le mieux la température de 75°?
- 4) Quelle thermomètre représente le mieux la température de 100°?
- 5) Quelle thermomètre représente le mieux la température de 33°?
- 6) Quelle thermomètre représente le mieux la température de 15°?
- 7) Quelle thermomètre représente le mieux la température de 94°?
- 8) Quelle thermomètre représente le mieux la température de 54°?
- 9) Quelle thermomètre représente le mieux la température de 62°?
- 10) Quelle thermomètre représente le mieux la température de 41°?

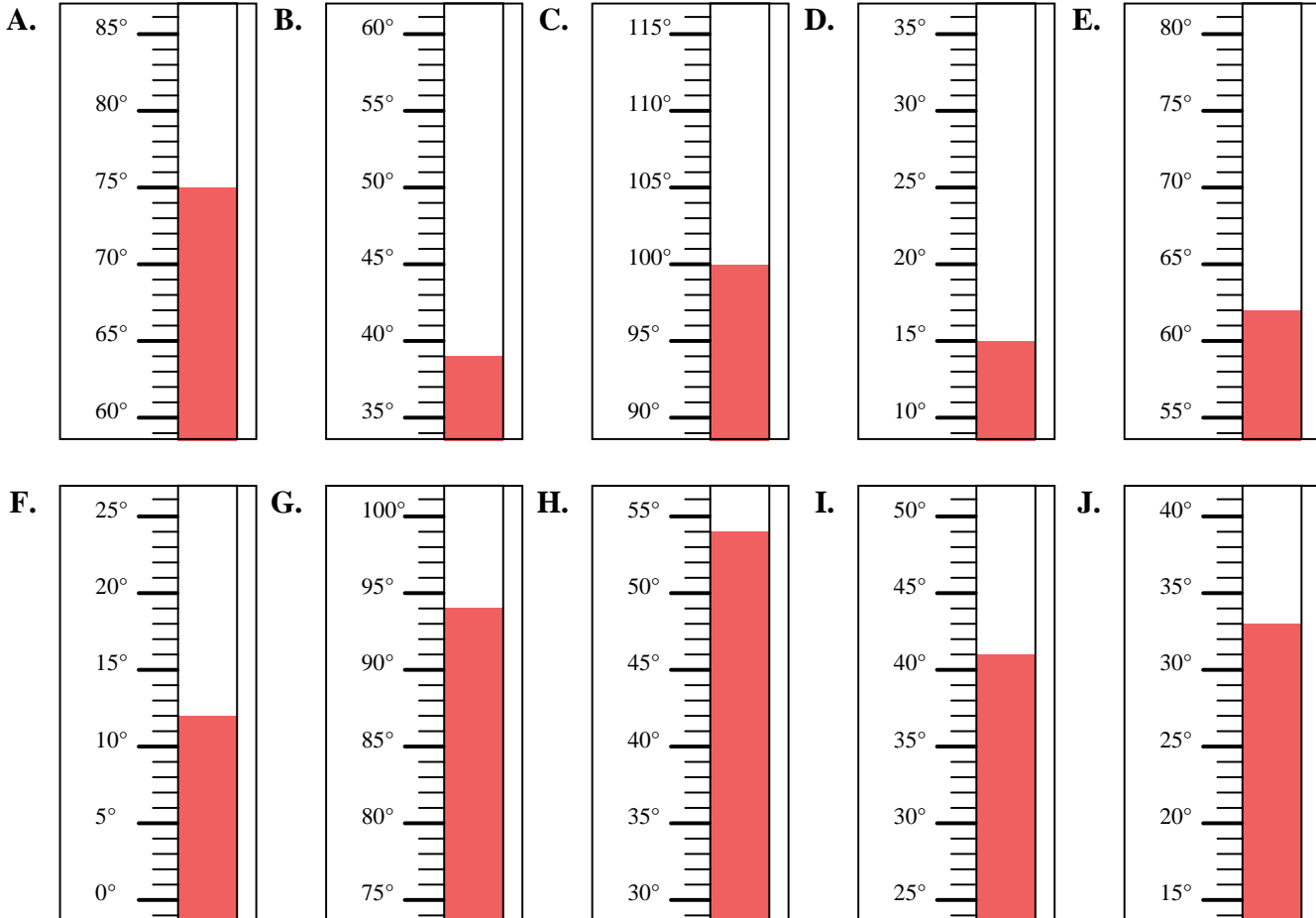
1. _____
2. _____
3. _____
4. _____
5. _____
6. _____
7. _____
8. _____
9. _____
10. _____





Déterminez quelle lettre répond le mieux à chaque question.

- 1) Quelle thermomètre représente le mieux la température de 39°?
- 2) Quelle thermomètre représente le mieux la température de 12°?
- 3) Quelle thermomètre représente le mieux la température de 75°?
- 4) Quelle thermomètre représente le mieux la température de 100°?
- 5) Quelle thermomètre représente le mieux la température de 33°?
- 6) Quelle thermomètre représente le mieux la température de 15°?
- 7) Quelle thermomètre représente le mieux la température de 94°?
- 8) Quelle thermomètre représente le mieux la température de 54°?
- 9) Quelle thermomètre représente le mieux la température de 62°?
- 10) Quelle thermomètre représente le mieux la température de 41°?

Réponses1. **B**2. **F**3. **A**4. **C**5. **J**6. **D**7. **G**8. **H**9. **E**10. **I**

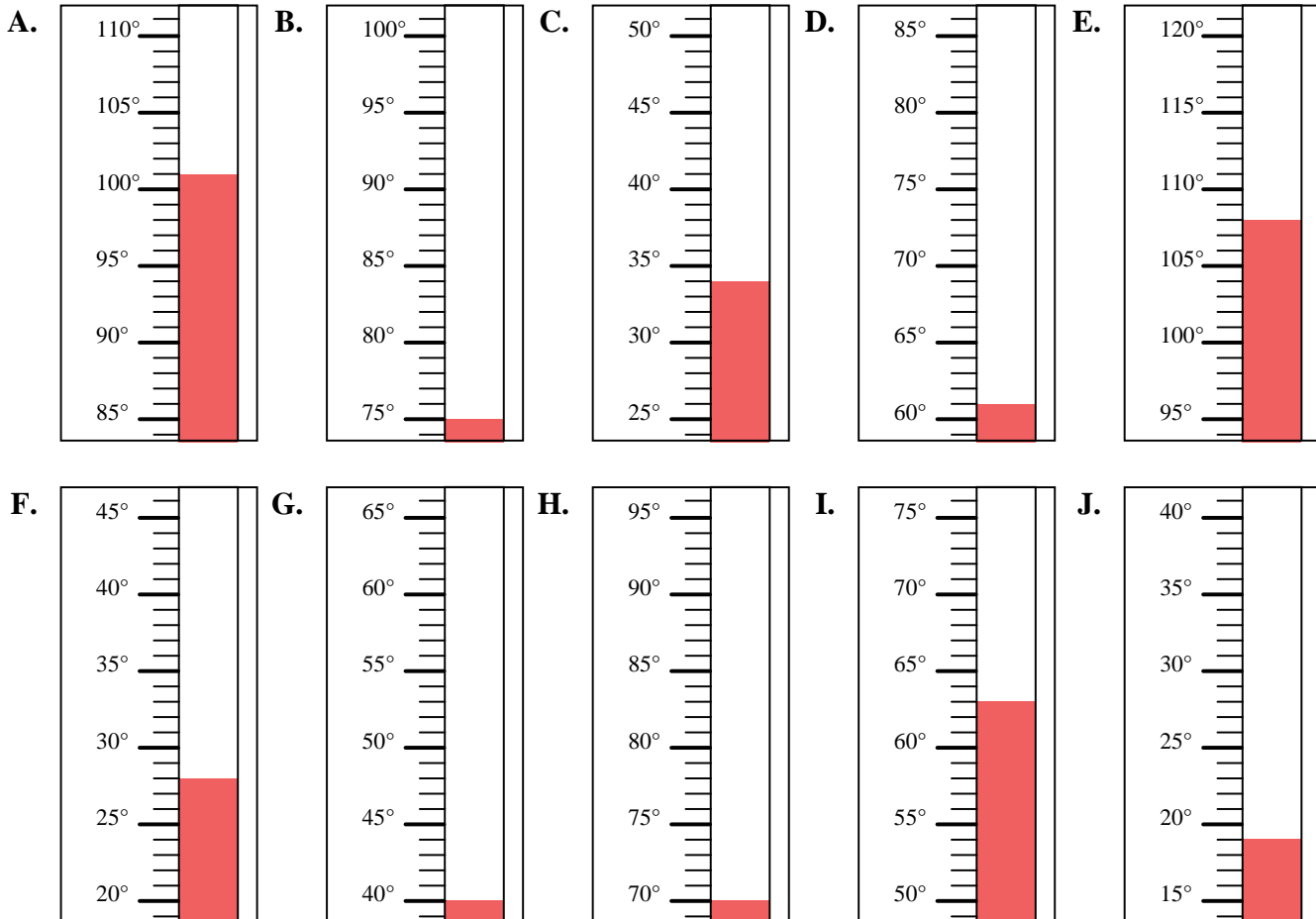


Déterminez quelle lettre répond le mieux à chaque question.

Réponses

- 1) Quelle thermomètre représente le mieux la température de 101° ?
- 2) Quelle thermomètre représente le mieux la température de 34° ?
- 3) Quelle thermomètre représente le mieux la température de 63° ?
- 4) Quelle thermomètre représente le mieux la température de 108° ?
- 5) Quelle thermomètre représente le mieux la température de 61° ?
- 6) Quelle thermomètre représente le mieux la température de 75° ?
- 7) Quelle thermomètre représente le mieux la température de 40° ?
- 8) Quelle thermomètre représente le mieux la température de 28° ?
- 9) Quelle thermomètre représente le mieux la température de 70° ?
- 10) Quelle thermomètre représente le mieux la température de 19° ?

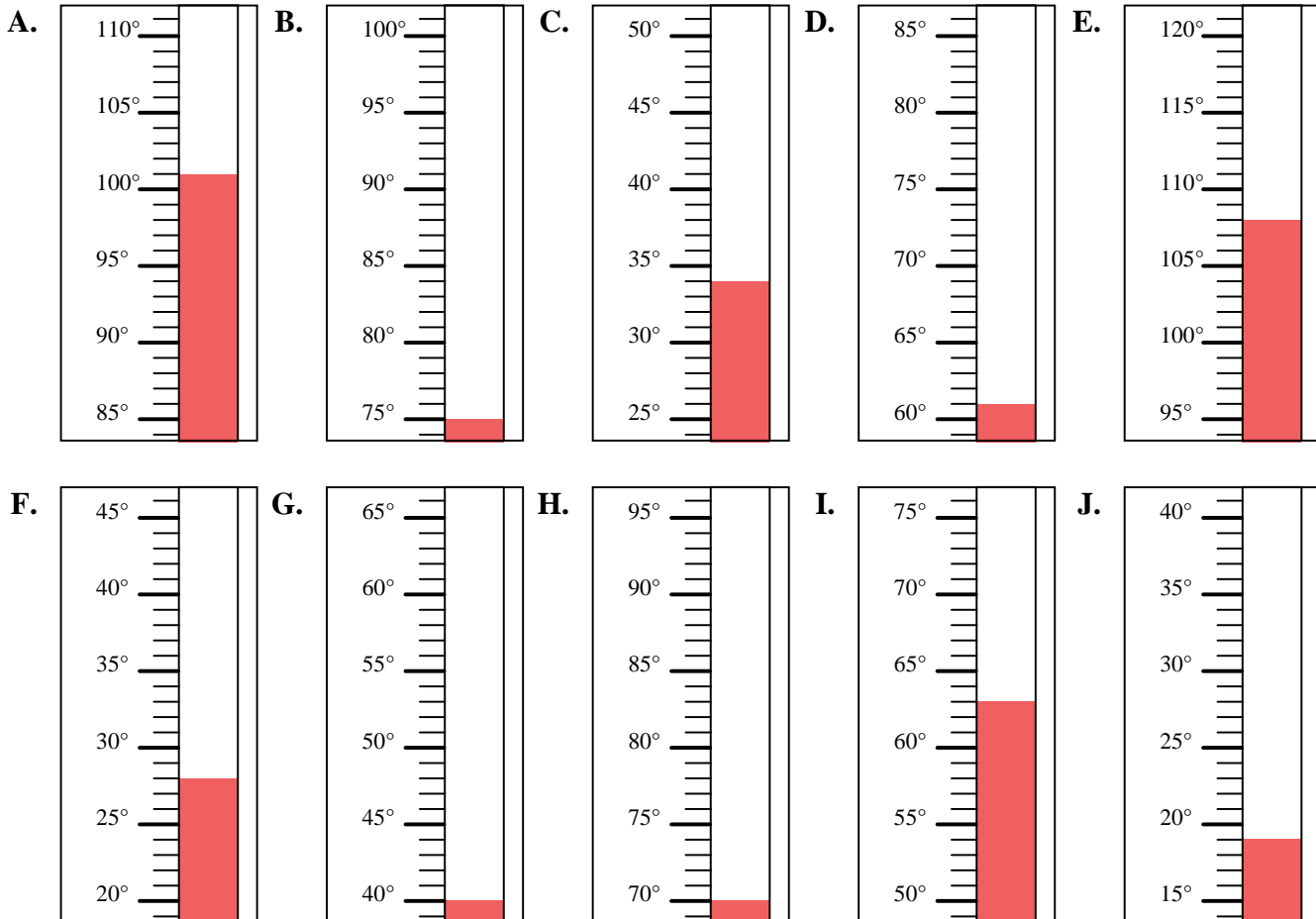
1. _____
2. _____
3. _____
4. _____
5. _____
6. _____
7. _____
8. _____
9. _____
10. _____





Déterminez quelle lettre répond le mieux à chaque question.

- 1) Quelle thermomètre représente le mieux la température de 101°?
- 2) Quelle thermomètre représente le mieux la température de 34°?
- 3) Quelle thermomètre représente le mieux la température de 63°?
- 4) Quelle thermomètre représente le mieux la température de 108°?
- 5) Quelle thermomètre représente le mieux la température de 61°?
- 6) Quelle thermomètre représente le mieux la température de 75°?
- 7) Quelle thermomètre représente le mieux la température de 40°?
- 8) Quelle thermomètre représente le mieux la température de 28°?
- 9) Quelle thermomètre représente le mieux la température de 70°?
- 10) Quelle thermomètre représente le mieux la température de 19°?

Réponses1. **A**2. **C**3. **I**4. **E**5. **D**6. **B**7. **G**8. **F**9. **H**10. **J**

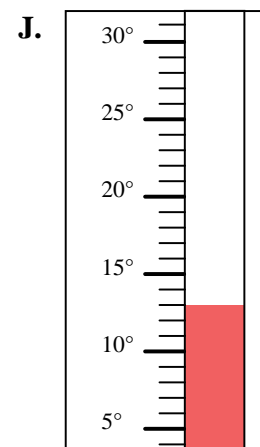
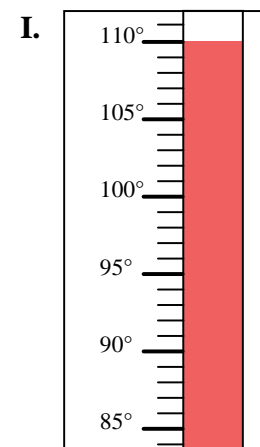
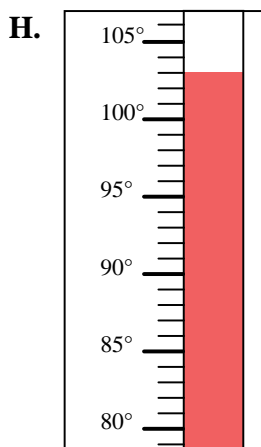
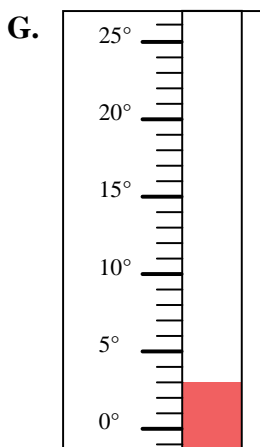
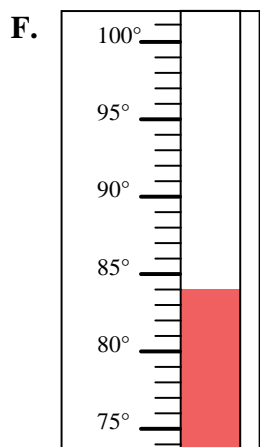
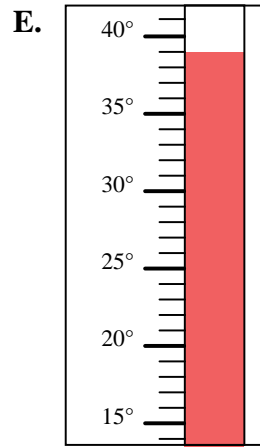
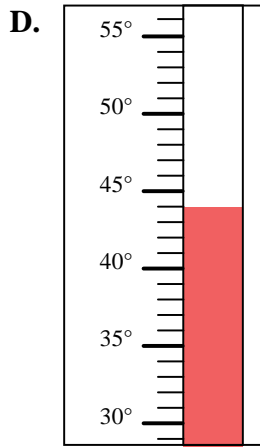
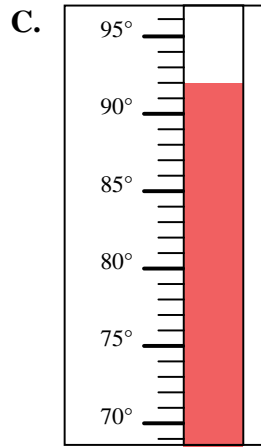
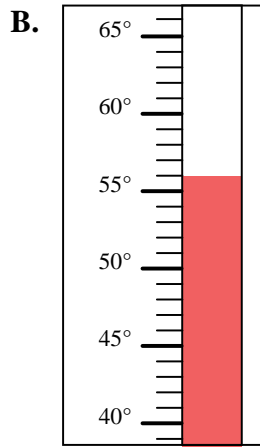
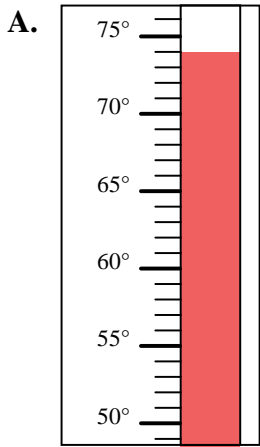


Déterminez quelle lettre répond le mieux à chaque question.

Réponses

- 1) Quelle thermomètre représente le mieux la température de 92°?
- 2) Quelle thermomètre représente le mieux la température de 84°?
- 3) Quelle thermomètre représente le mieux la température de 56°?
- 4) Quelle thermomètre représente le mieux la température de 110°?
- 5) Quelle thermomètre représente le mieux la température de 13°?
- 6) Quelle thermomètre représente le mieux la température de 39°?
- 7) Quelle thermomètre représente le mieux la température de 3°?
- 8) Quelle thermomètre représente le mieux la température de 44°?
- 9) Quelle thermomètre représente le mieux la température de 74°?
- 10) Quelle thermomètre représente le mieux la température de 103°?

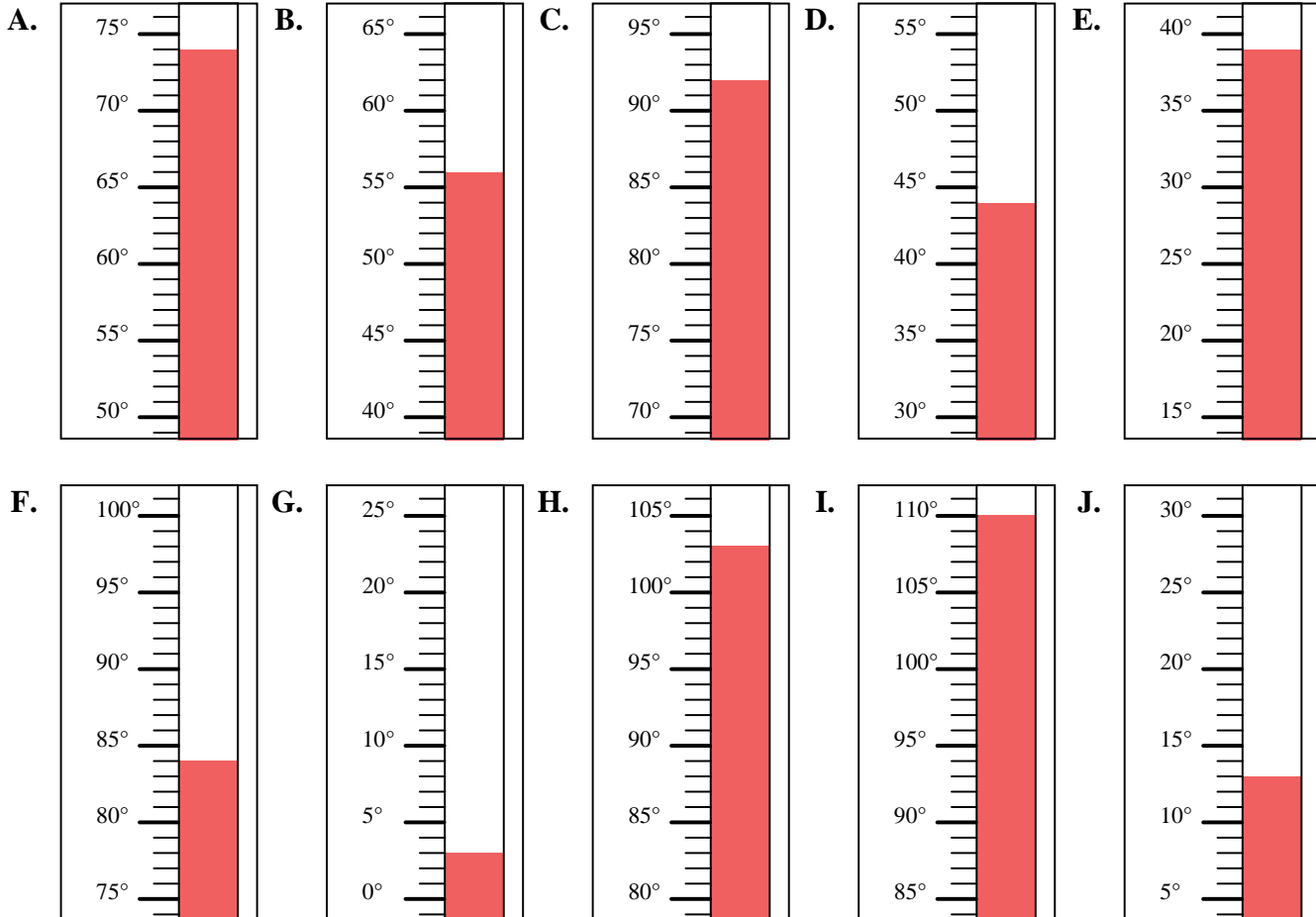
1. _____
2. _____
3. _____
4. _____
5. _____
6. _____
7. _____
8. _____
9. _____
10. _____





Déterminez quelle lettre répond le mieux à chaque question.

- 1) Quelle thermomètre représente le mieux la température de 92°?
- 2) Quelle thermomètre représente le mieux la température de 84°?
- 3) Quelle thermomètre représente le mieux la température de 56°?
- 4) Quelle thermomètre représente le mieux la température de 110°?
- 5) Quelle thermomètre représente le mieux la température de 13°?
- 6) Quelle thermomètre représente le mieux la température de 39°?
- 7) Quelle thermomètre représente le mieux la température de 3°?
- 8) Quelle thermomètre représente le mieux la température de 44°?
- 9) Quelle thermomètre représente le mieux la température de 74°?
- 10) Quelle thermomètre représente le mieux la température de 103°?

Réponses1. **C**2. **F**3. **B**4. **I**5. **J**6. **E**7. **G**8. **D**9. **A**10. **H**

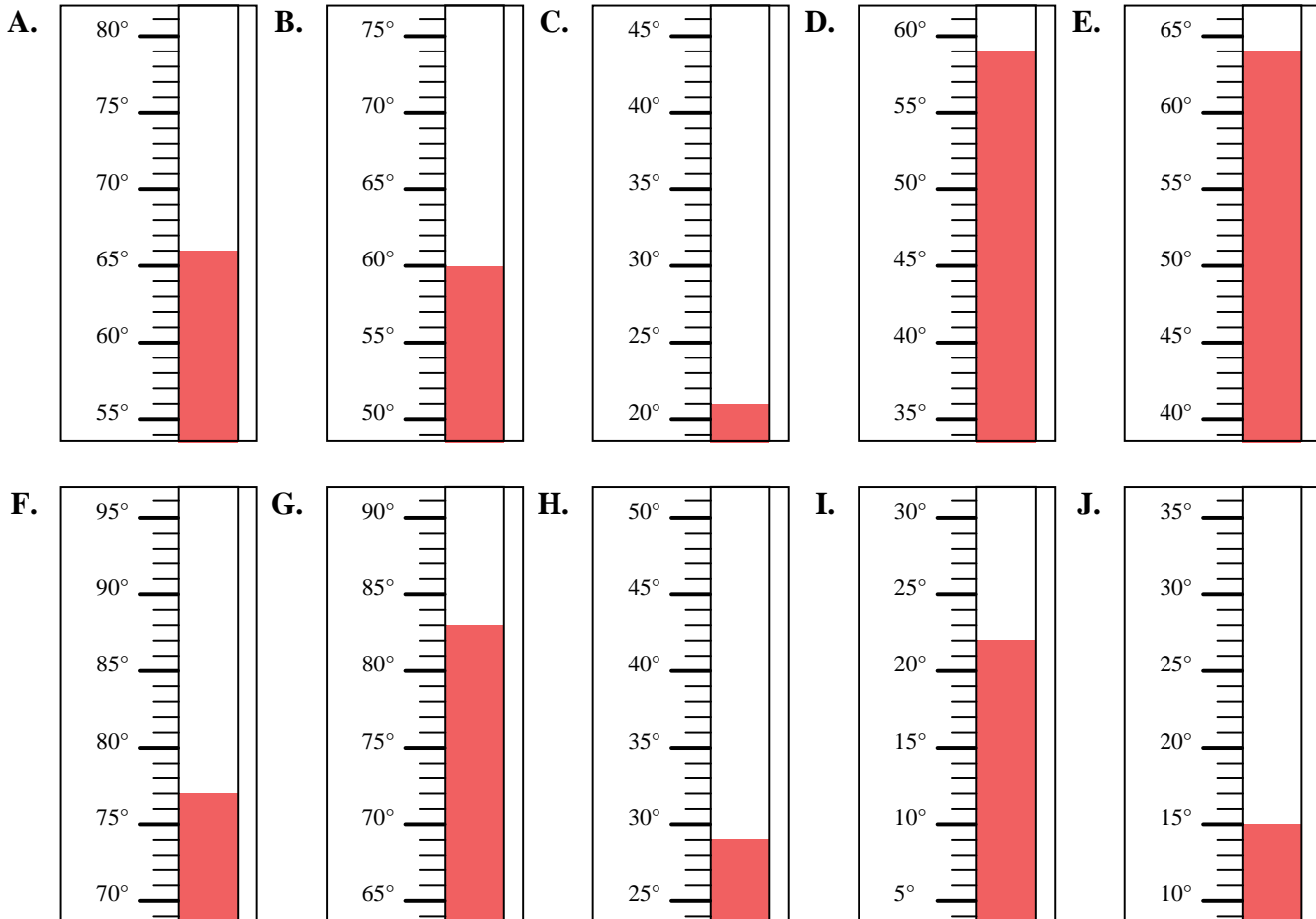


Déterminez quelle lettre répond le mieux à chaque question.

Réponses

- 1) Quelle thermomètre représente le mieux la température de 22°?
- 2) Quelle thermomètre représente le mieux la température de 66°?
- 3) Quelle thermomètre représente le mieux la température de 15°?
- 4) Quelle thermomètre représente le mieux la température de 83°?
- 5) Quelle thermomètre représente le mieux la température de 21°?
- 6) Quelle thermomètre représente le mieux la température de 59°?
- 7) Quelle thermomètre représente le mieux la température de 60°?
- 8) Quelle thermomètre représente le mieux la température de 77°?
- 9) Quelle thermomètre représente le mieux la température de 64°?
- 10) Quelle thermomètre représente le mieux la température de 29°?

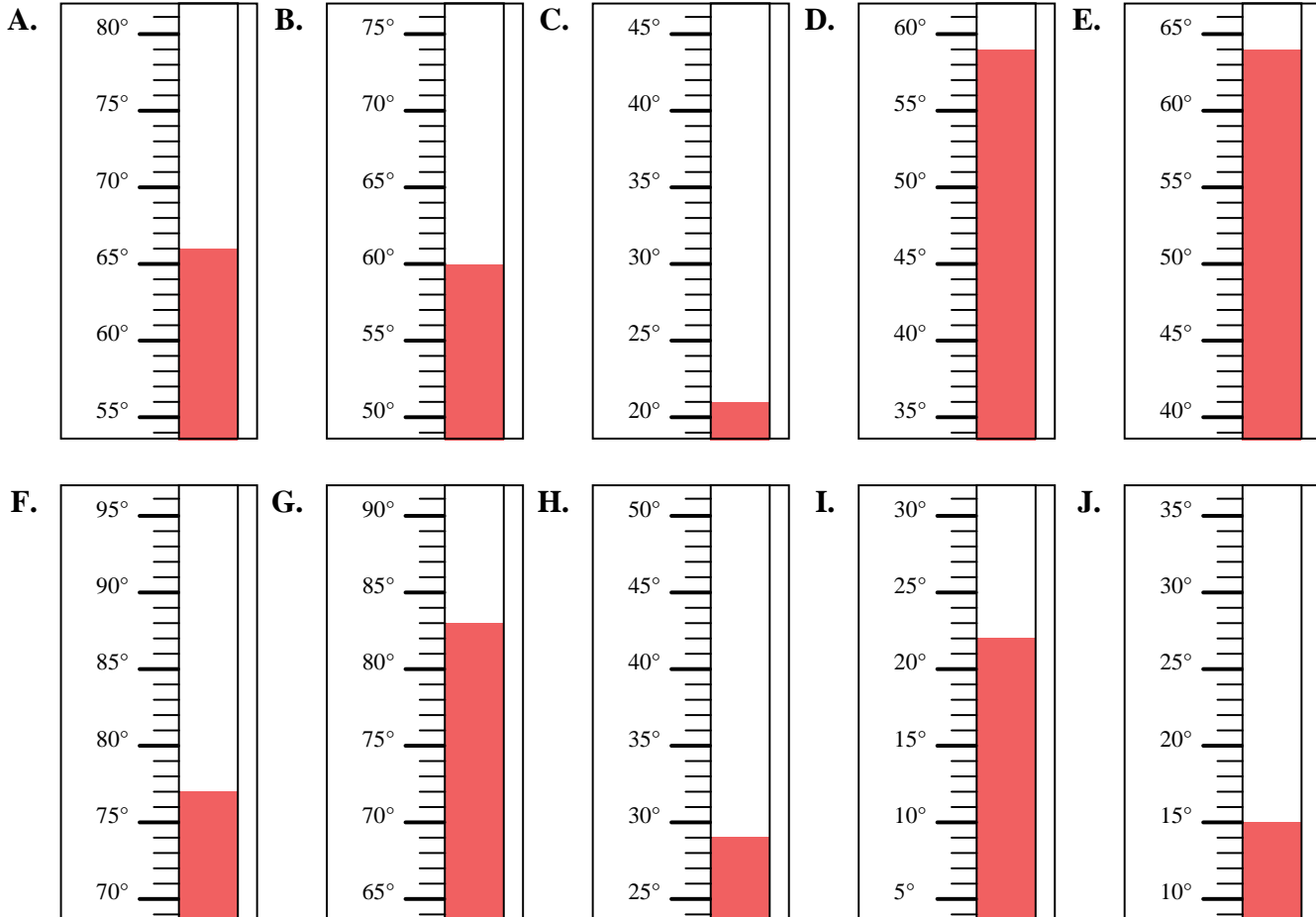
1. _____
2. _____
3. _____
4. _____
5. _____
6. _____
7. _____
8. _____
9. _____
10. _____





Déterminez quelle lettre répond le mieux à chaque question.

- 1) Quelle thermomètre représente le mieux la température de 22°?
- 2) Quelle thermomètre représente le mieux la température de 66°?
- 3) Quelle thermomètre représente le mieux la température de 15°?
- 4) Quelle thermomètre représente le mieux la température de 83°?
- 5) Quelle thermomètre représente le mieux la température de 21°?
- 6) Quelle thermomètre représente le mieux la température de 59°?
- 7) Quelle thermomètre représente le mieux la température de 60°?
- 8) Quelle thermomètre représente le mieux la température de 77°?
- 9) Quelle thermomètre représente le mieux la température de 64°?
- 10) Quelle thermomètre représente le mieux la température de 29°?

Réponses1. **I**2. **A**3. **J**4. **G**5. **C**6. **D**7. **B**8. **F**9. **E**10. **H**

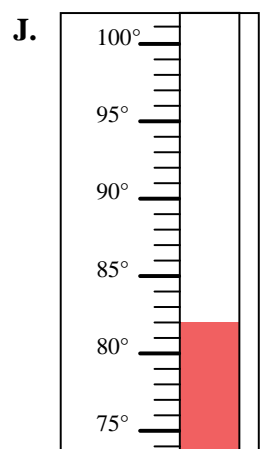
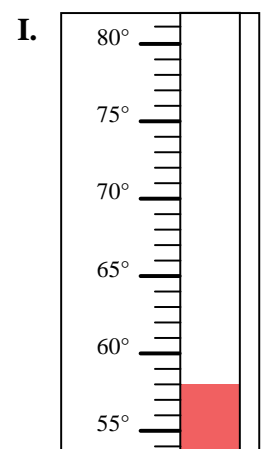
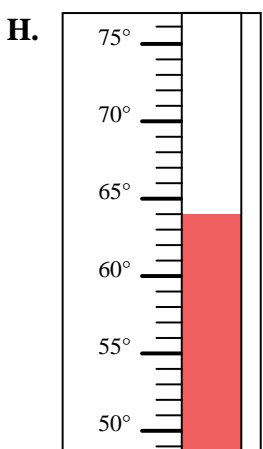
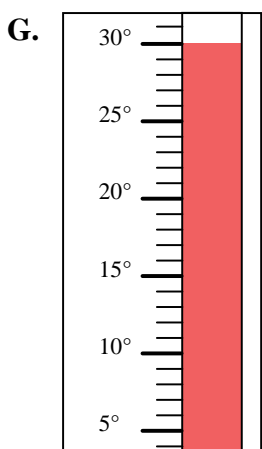
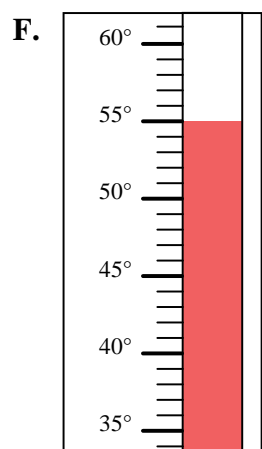
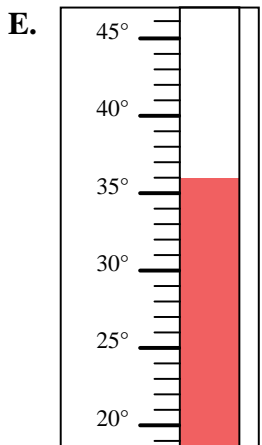
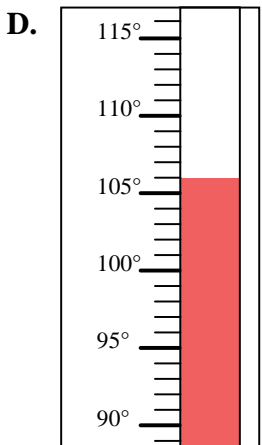
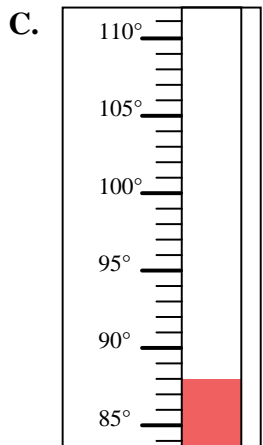
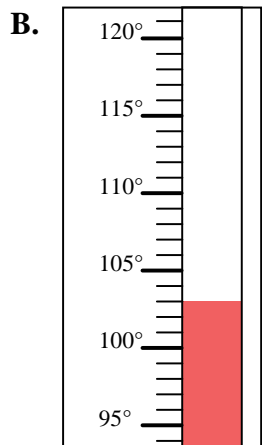
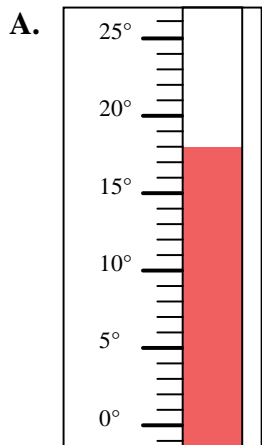


Déterminez quelle lettre répond le mieux à chaque question.

Réponses

- 1) Quelle thermomètre représente le mieux la température de 82°?
- 2) Quelle thermomètre représente le mieux la température de 64°?
- 3) Quelle thermomètre représente le mieux la température de 58°?
- 4) Quelle thermomètre représente le mieux la température de 106°?
- 5) Quelle thermomètre représente le mieux la température de 88°?
- 6) Quelle thermomètre représente le mieux la température de 36°?
- 7) Quelle thermomètre représente le mieux la température de 18°?
- 8) Quelle thermomètre représente le mieux la température de 30°?
- 9) Quelle thermomètre représente le mieux la température de 55°?
- 10) Quelle thermomètre représente le mieux la température de 103°?

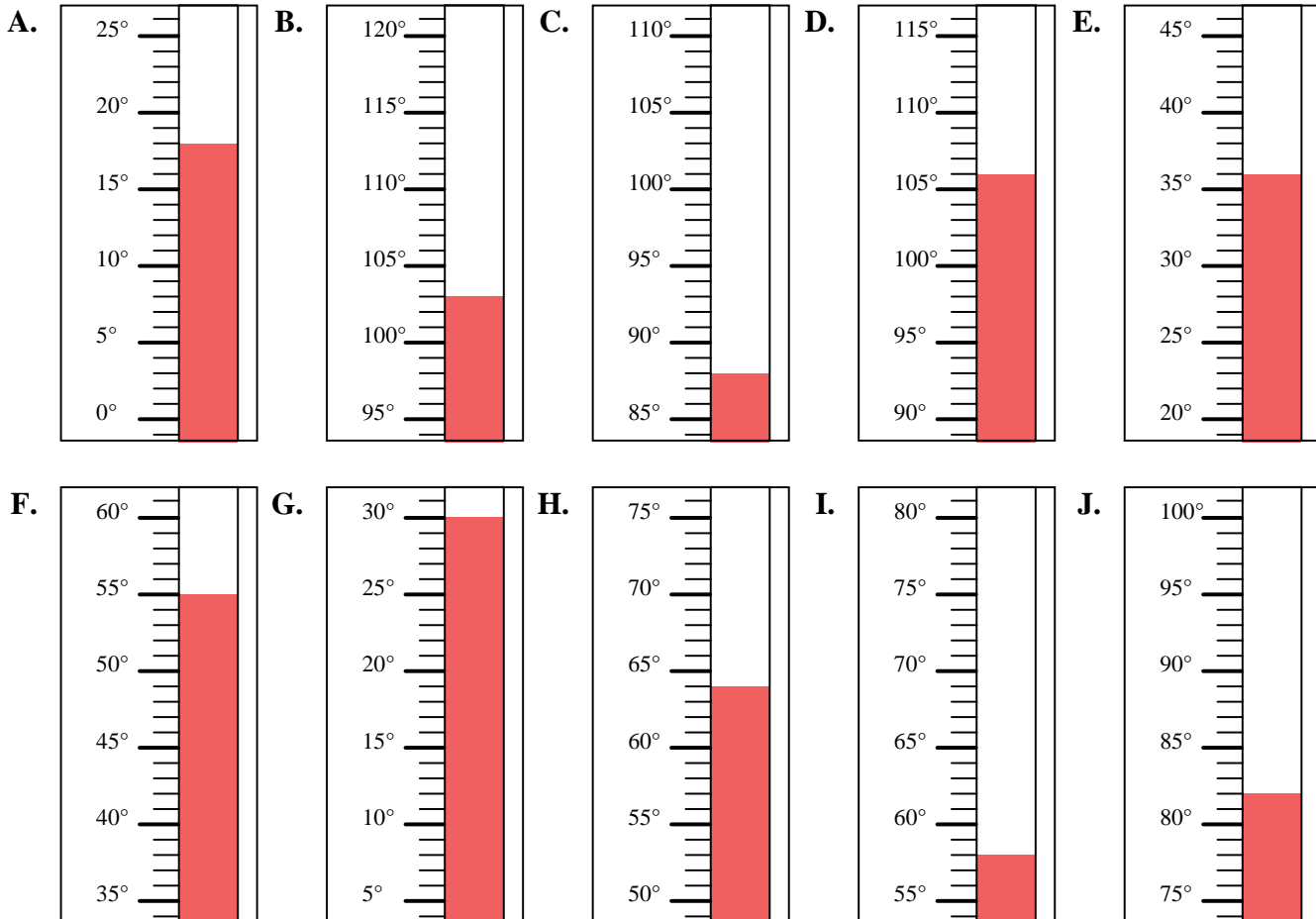
1. _____
2. _____
3. _____
4. _____
5. _____
6. _____
7. _____
8. _____
9. _____
10. _____





Déterminez quelle lettre répond le mieux à chaque question.

- 1) Quelle thermomètre représente le mieux la température de 82°?
- 2) Quelle thermomètre représente le mieux la température de 64°?
- 3) Quelle thermomètre représente le mieux la température de 58°?
- 4) Quelle thermomètre représente le mieux la température de 106°?
- 5) Quelle thermomètre représente le mieux la température de 88°?
- 6) Quelle thermomètre représente le mieux la température de 36°?
- 7) Quelle thermomètre représente le mieux la température de 18°?
- 8) Quelle thermomètre représente le mieux la température de 30°?
- 9) Quelle thermomètre représente le mieux la température de 55°?
- 10) Quelle thermomètre représente le mieux la température de 103°?

Réponses1. **J**2. **H**3. **I**4. **D**5. **C**6. **E**7. **A**8. **G**9. **F**10. **B**

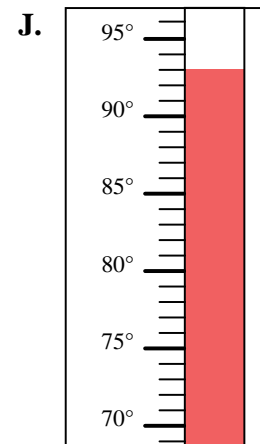
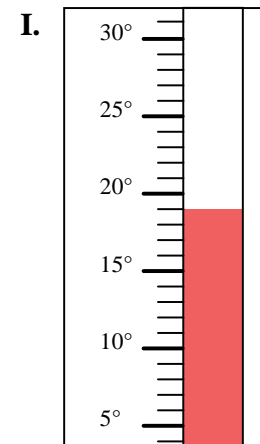
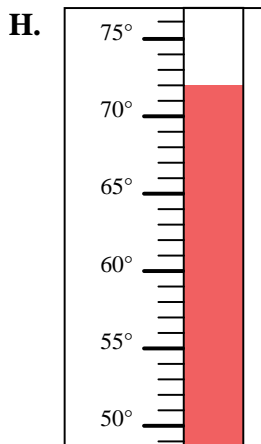
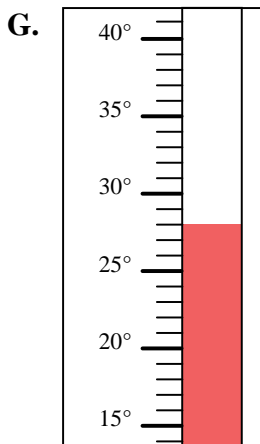
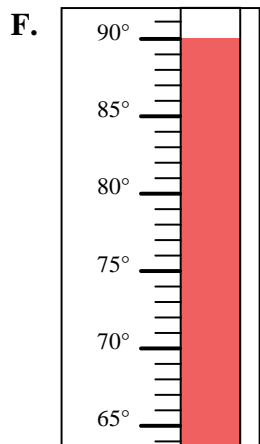
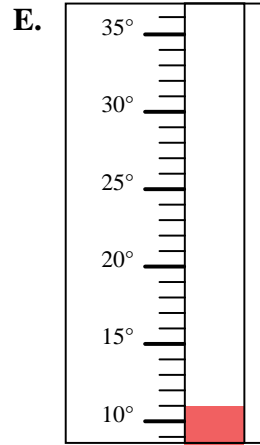
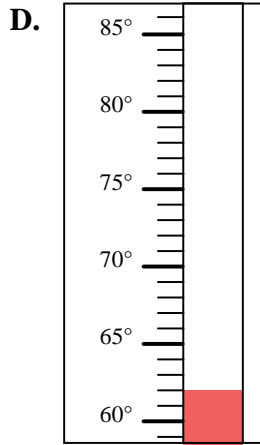
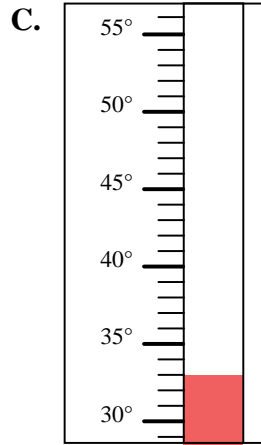
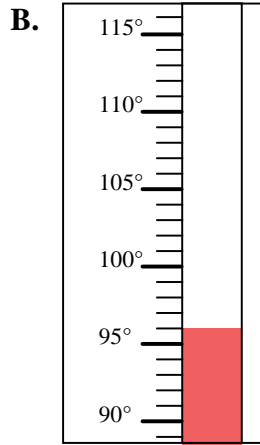
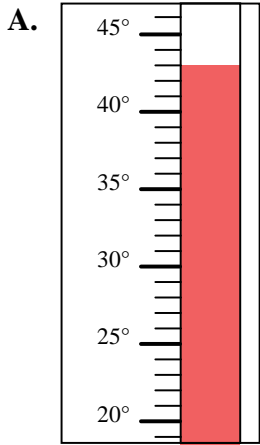


Déterminez quelle lettre répond le mieux à chaque question.

Réponses

- 1) Quelle thermomètre représente le mieux la température de 62°?
- 2) Quelle thermomètre représente le mieux la température de 43°?
- 3) Quelle thermomètre représente le mieux la température de 72°?
- 4) Quelle thermomètre représente le mieux la température de 33°?
- 5) Quelle thermomètre représente le mieux la température de 11°?
- 6) Quelle thermomètre représente le mieux la température de 93°?
- 7) Quelle thermomètre représente le mieux la température de 96°?
- 8) Quelle thermomètre représente le mieux la température de 19°?
- 9) Quelle thermomètre représente le mieux la température de 28°?
- 10) Quelle thermomètre représente le mieux la température de 90°?

1. _____
2. _____
3. _____
4. _____
5. _____
6. _____
7. _____
8. _____
9. _____
10. _____



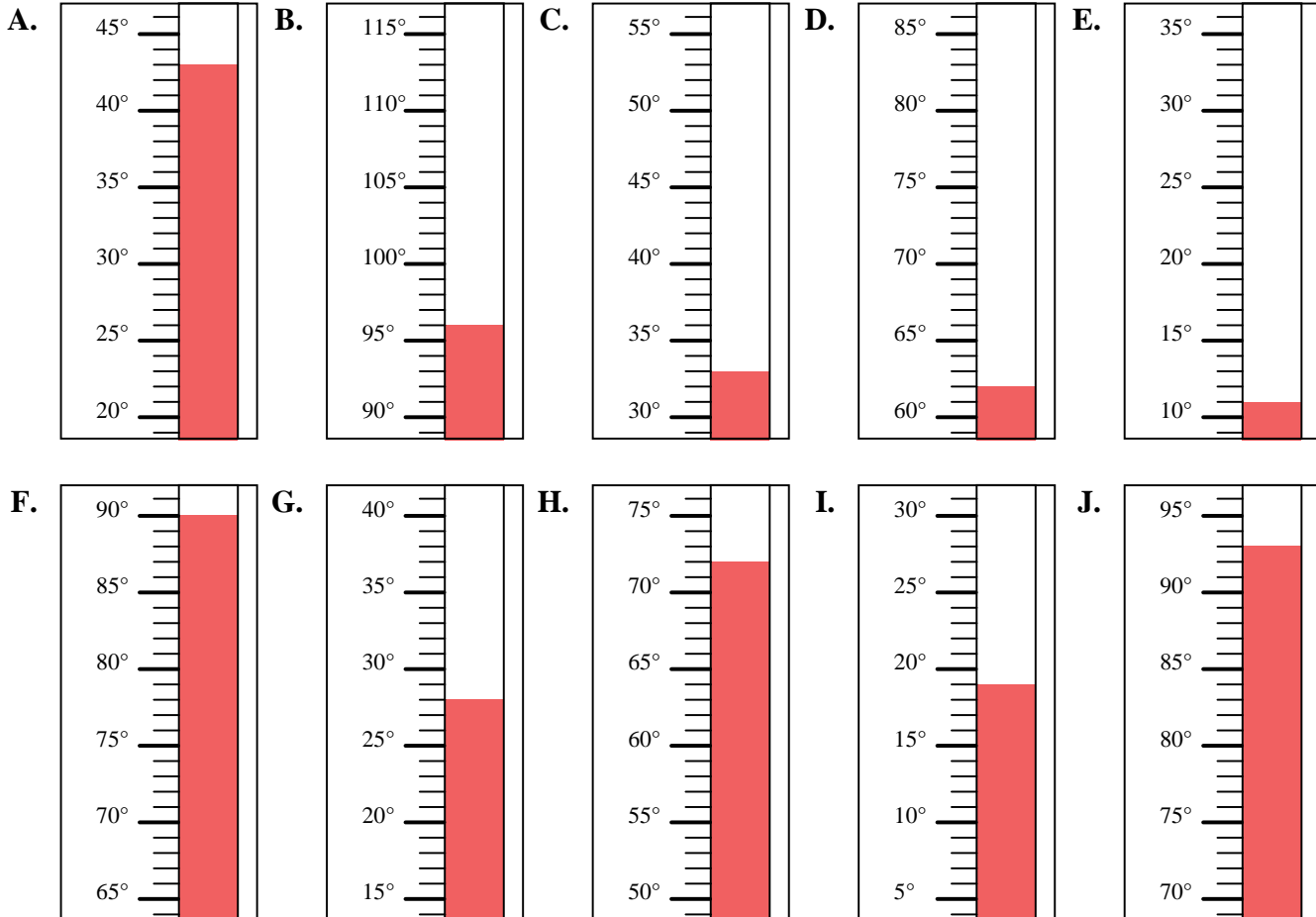


Déterminez quelle lettre répond le mieux à chaque question.

- 1) Quelle thermomètre représente le mieux la température de 62°?
- 2) Quelle thermomètre représente le mieux la température de 43°?
- 3) Quelle thermomètre représente le mieux la température de 72°?
- 4) Quelle thermomètre représente le mieux la température de 33°?
- 5) Quelle thermomètre représente le mieux la température de 11°?
- 6) Quelle thermomètre représente le mieux la température de 93°?
- 7) Quelle thermomètre représente le mieux la température de 96°?
- 8) Quelle thermomètre représente le mieux la température de 19°?
- 9) Quelle thermomètre représente le mieux la température de 28°?
- 10) Quelle thermomètre représente le mieux la température de 90°?

Réponses

1. **D**
2. **A**
3. **H**
4. **C**
5. **E**
6. **J**
7. **B**
8. **I**
9. **G**
10. **F**



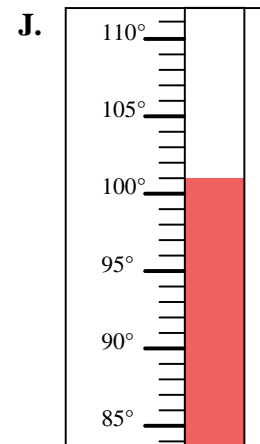
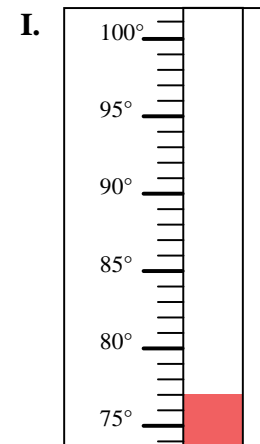
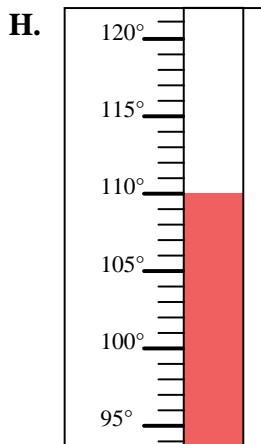
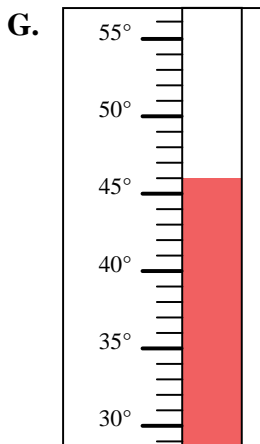
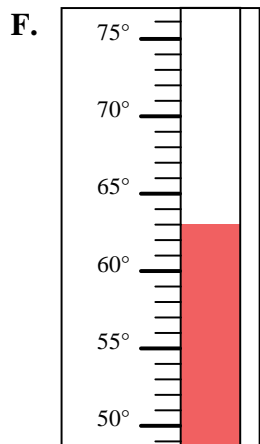
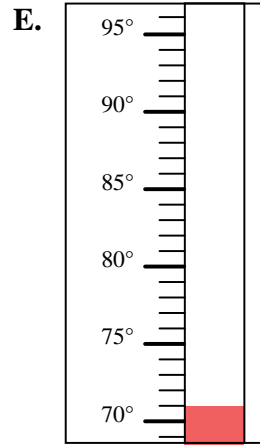
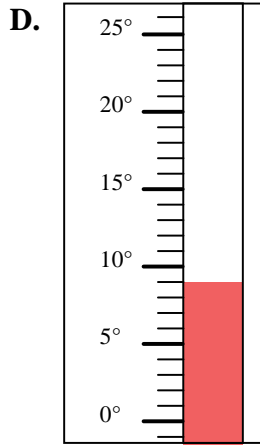
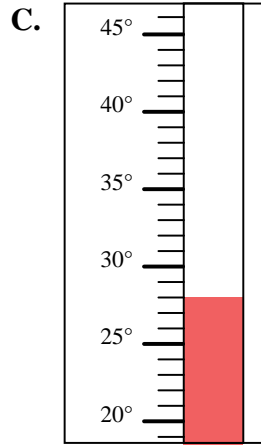
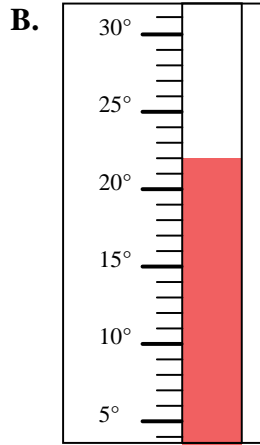
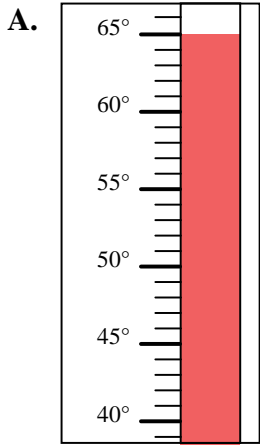


Déterminez quelle lettre répond le mieux à chaque question.

Réponses

- 1) Quelle thermomètre représente le mieux la température de 63°?
- 2) Quelle thermomètre représente le mieux la température de 46°?
- 3) Quelle thermomètre représente le mieux la température de 65°?
- 4) Quelle thermomètre représente le mieux la température de 110°?
- 5) Quelle thermomètre représente le mieux la température de 77°?
- 6) Quelle thermomètre représente le mieux la température de 22°?
- 7) Quelle thermomètre représente le mieux la température de 71°?
- 8) Quelle thermomètre représente le mieux la température de 28°?
- 9) Quelle thermomètre représente le mieux la température de 9°?
- 10) Quelle thermomètre représente le mieux la température de 101°?

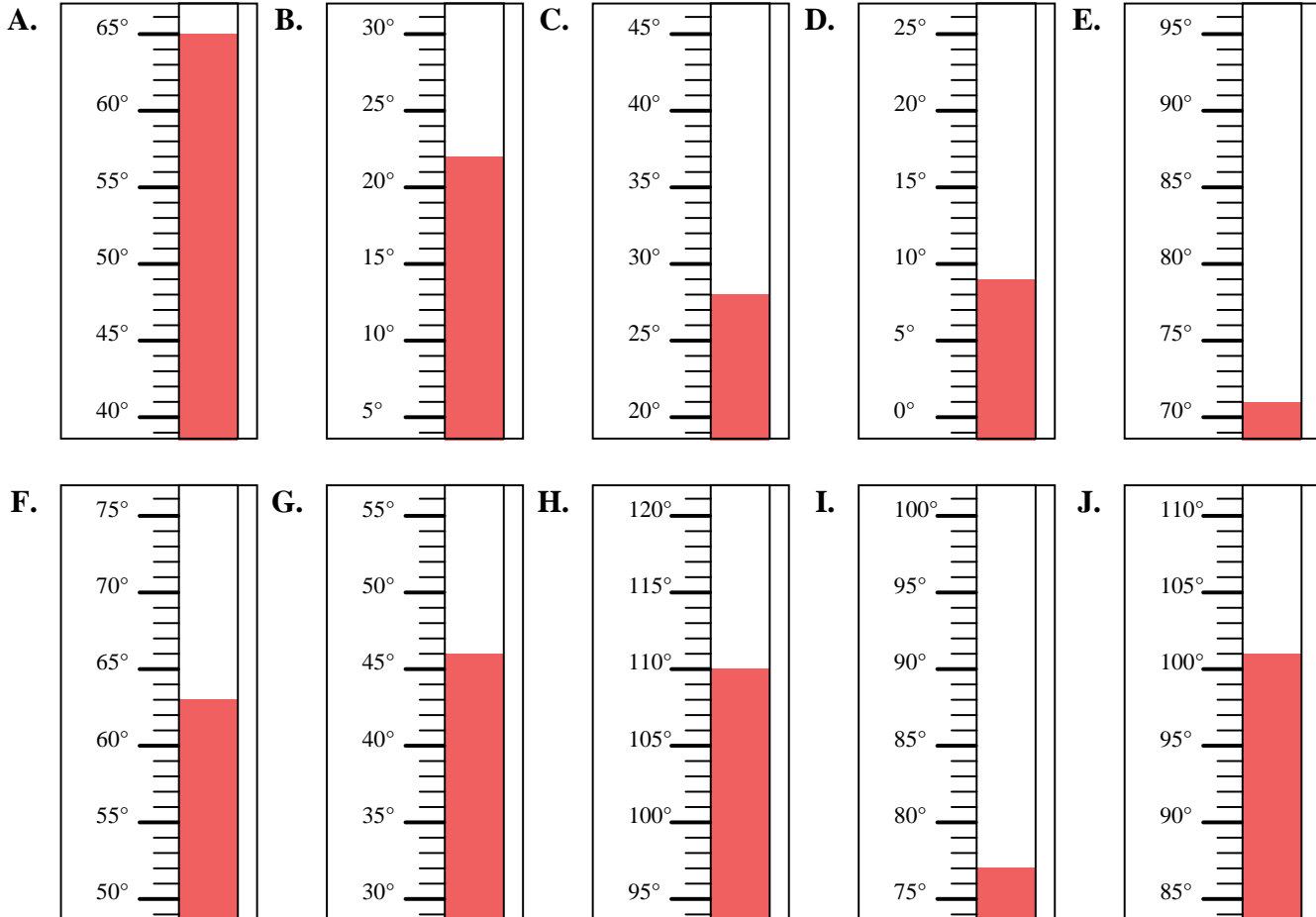
1. _____
2. _____
3. _____
4. _____
5. _____
6. _____
7. _____
8. _____
9. _____
10. _____





Déterminez quelle lettre répond le mieux à chaque question.

- 1) Quelle thermomètre représente le mieux la température de 63° ?
- 2) Quelle thermomètre représente le mieux la température de 46° ?
- 3) Quelle thermomètre représente le mieux la température de 65° ?
- 4) Quelle thermomètre représente le mieux la température de 110° ?
- 5) Quelle thermomètre représente le mieux la température de 77° ?
- 6) Quelle thermomètre représente le mieux la température de 22° ?
- 7) Quelle thermomètre représente le mieux la température de 71° ?
- 8) Quelle thermomètre représente le mieux la température de 28° ?
- 9) Quelle thermomètre représente le mieux la température de 9° ?
- 10) Quelle thermomètre représente le mieux la température de 101° ?

Réponses1. **F**2. **G**3. **A**4. **H**5. **I**6. **B**7. **E**8. **C**9. **D**10. **J**

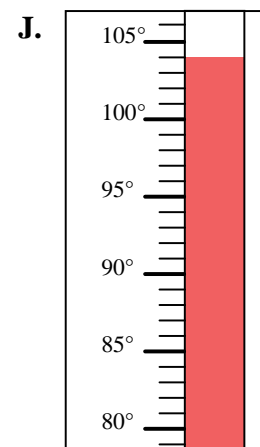
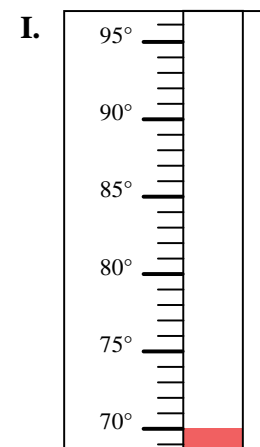
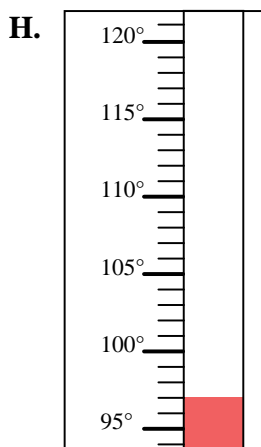
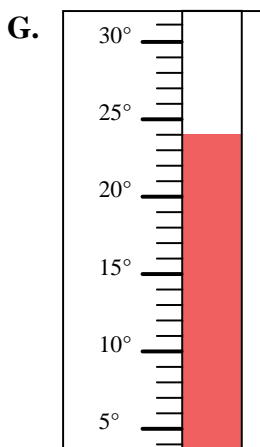
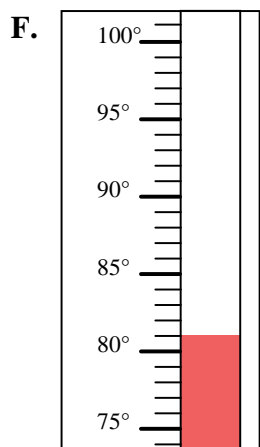
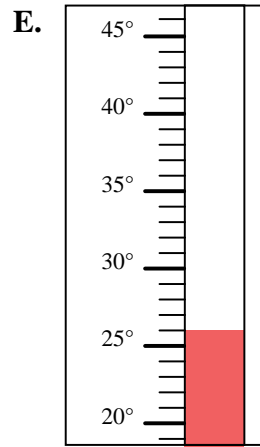
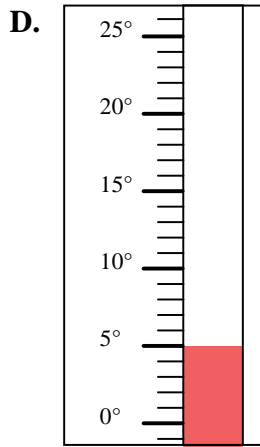
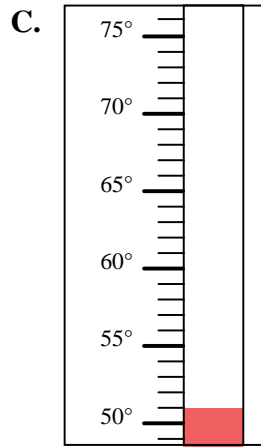
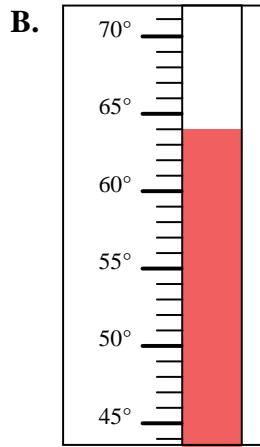
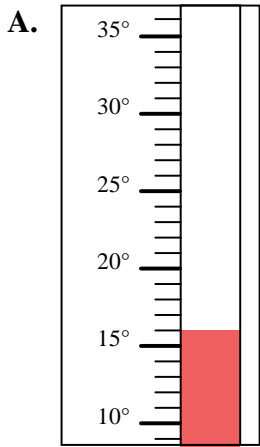


Déterminez quelle lettre répond le mieux à chaque question.

Réponses

- 1) Quelle thermomètre représente le mieux la température de 70°?
- 2) Quelle thermomètre représente le mieux la température de 51°?
- 3) Quelle thermomètre représente le mieux la température de 64°?
- 4) Quelle thermomètre représente le mieux la température de 26°?
- 5) Quelle thermomètre représente le mieux la température de 104°?
- 6) Quelle thermomètre représente le mieux la température de 97°?
- 7) Quelle thermomètre représente le mieux la température de 5°?
- 8) Quelle thermomètre représente le mieux la température de 81°?
- 9) Quelle thermomètre représente le mieux la température de 16°?
- 10) Quelle thermomètre représente le mieux la température de 24°?

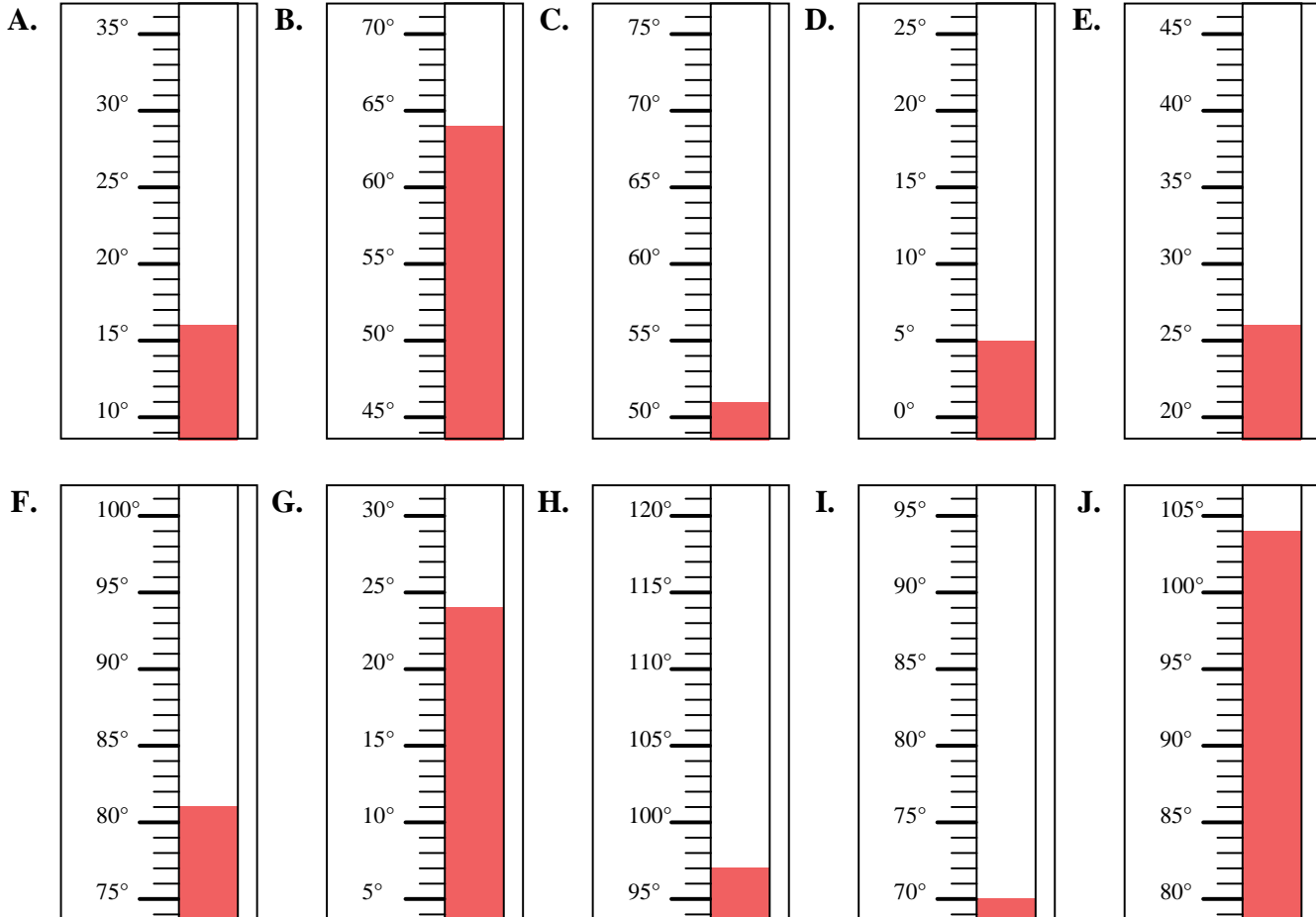
1. _____
2. _____
3. _____
4. _____
5. _____
6. _____
7. _____
8. _____
9. _____
10. _____





Déterminez quelle lettre répond le mieux à chaque question.

- 1) Quelle thermomètre représente le mieux la température de 70°?
- 2) Quelle thermomètre représente le mieux la température de 51°?
- 3) Quelle thermomètre représente le mieux la température de 64°?
- 4) Quelle thermomètre représente le mieux la température de 26°?
- 5) Quelle thermomètre représente le mieux la température de 104°?
- 6) Quelle thermomètre représente le mieux la température de 97°?
- 7) Quelle thermomètre représente le mieux la température de 5°?
- 8) Quelle thermomètre représente le mieux la température de 81°?
- 9) Quelle thermomètre représente le mieux la température de 16°?
- 10) Quelle thermomètre représente le mieux la température de 24°?

Réponses1. **I**2. **C**3. **B**4. **E**5. **J**6. **H**7. **D**8. **F**9. **A**10. **G**

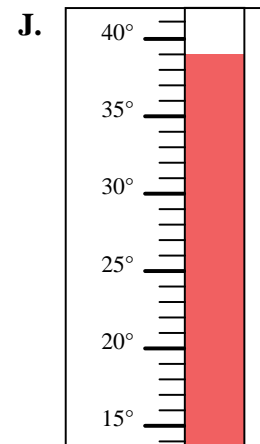
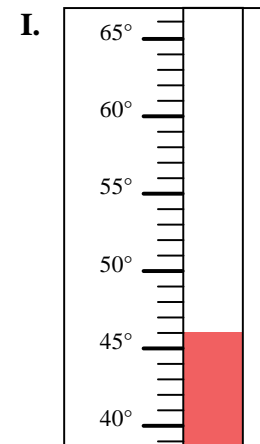
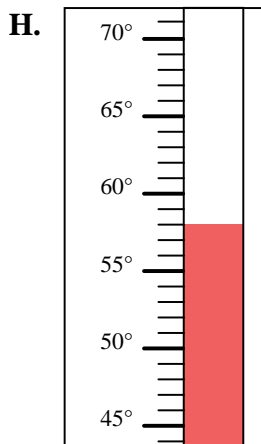
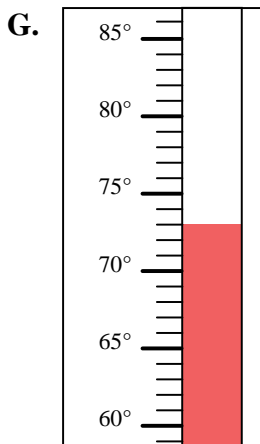
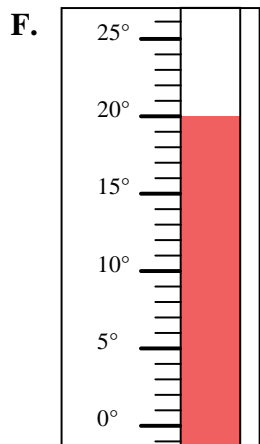
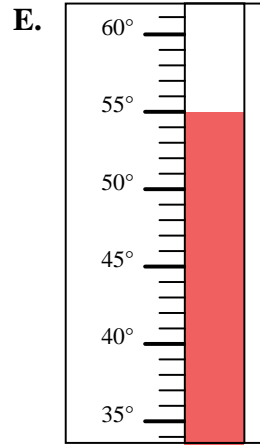
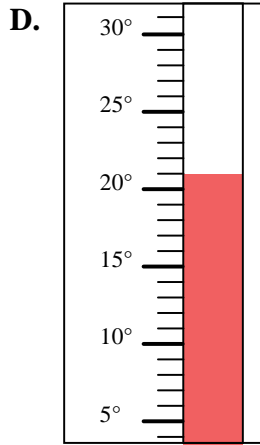
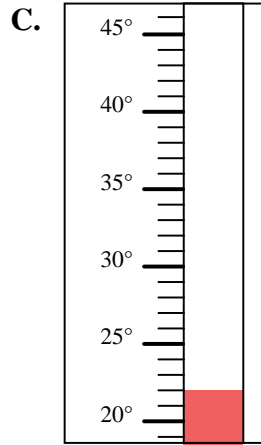
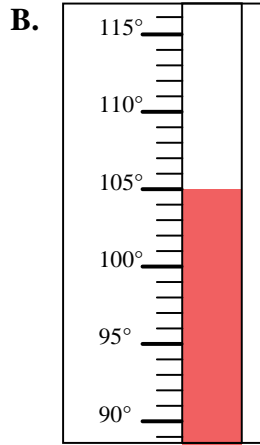
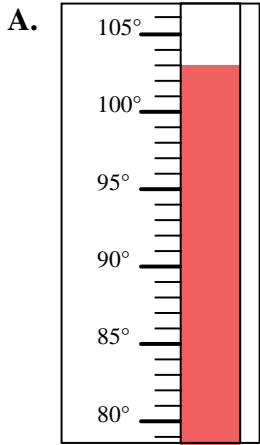


Déterminez quelle lettre répond le mieux à chaque question.

Réponses

- 1) Quelle thermomètre représente le mieux la température de 103°?
- 2) Quelle thermomètre représente le mieux la température de 73°?
- 3) Quelle thermomètre représente le mieux la température de 22°?
- 4) Quelle thermomètre représente le mieux la température de 21°?
- 5) Quelle thermomètre représente le mieux la température de 46°?
- 6) Quelle thermomètre représente le mieux la température de 20°?
- 7) Quelle thermomètre représente le mieux la température de 39°?
- 8) Quelle thermomètre représente le mieux la température de 55°?
- 9) Quelle thermomètre représente le mieux la température de 105°?
- 10) Quelle thermomètre représente le mieux la température de 58°?

1. _____
2. _____
3. _____
4. _____
5. _____
6. _____
7. _____
8. _____
9. _____
10. _____





Déterminez quelle lettre répond le mieux à chaque question.

- 1) Quelle thermomètre représente le mieux la température de 103°?
- 2) Quelle thermomètre représente le mieux la température de 73°?
- 3) Quelle thermomètre représente le mieux la température de 22°?
- 4) Quelle thermomètre représente le mieux la température de 21°?
- 5) Quelle thermomètre représente le mieux la température de 46°?
- 6) Quelle thermomètre représente le mieux la température de 20°?
- 7) Quelle thermomètre représente le mieux la température de 39°?
- 8) Quelle thermomètre représente le mieux la température de 55°?
- 9) Quelle thermomètre représente le mieux la température de 105°?
- 10) Quelle thermomètre représente le mieux la température de 58°?

Réponses1. **A** 2. **G** 3. **C** 4. **D** 5. **I** 6. **F** 7. **J** 8. **E** 9. **B** 10. **H** 