

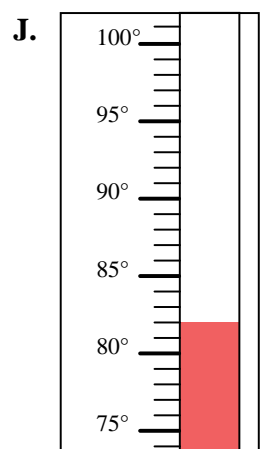
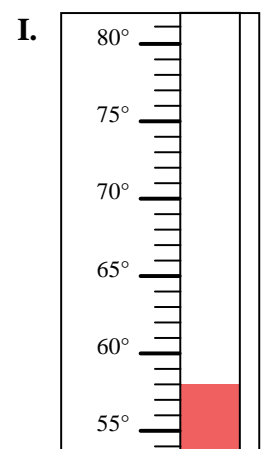
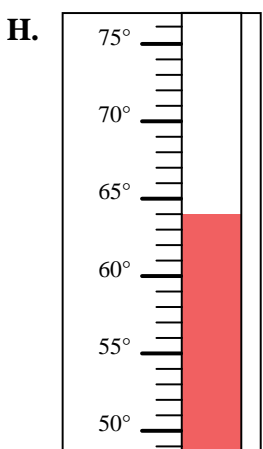
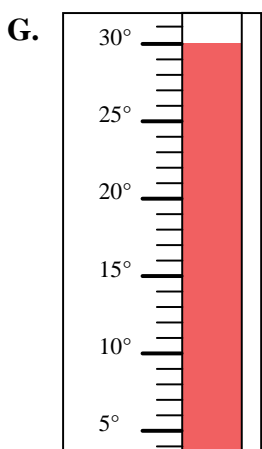
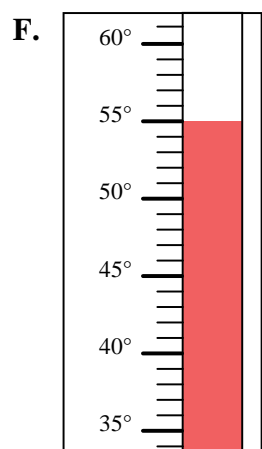
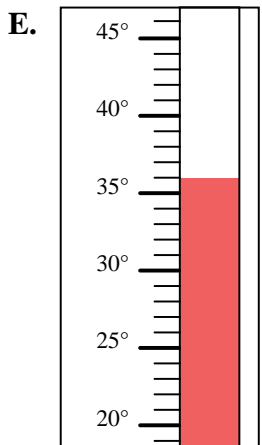
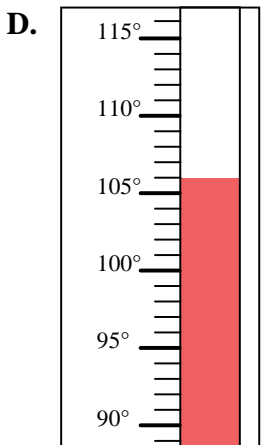
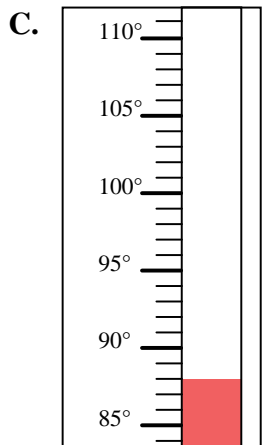
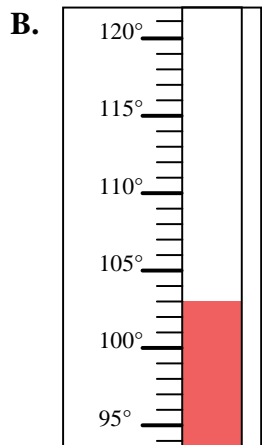
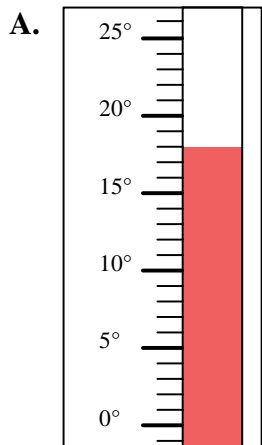


Déterminez quelle lettre répond le mieux à chaque question.

Réponses

- 1) Quelle thermomètre représente le mieux la température de 82°?
- 2) Quelle thermomètre représente le mieux la température de 64°?
- 3) Quelle thermomètre représente le mieux la température de 58°?
- 4) Quelle thermomètre représente le mieux la température de 106°?
- 5) Quelle thermomètre représente le mieux la température de 88°?
- 6) Quelle thermomètre représente le mieux la température de 36°?
- 7) Quelle thermomètre représente le mieux la température de 18°?
- 8) Quelle thermomètre représente le mieux la température de 30°?
- 9) Quelle thermomètre représente le mieux la température de 55°?
- 10) Quelle thermomètre représente le mieux la température de 103°?

1. _____
2. _____
3. _____
4. _____
5. _____
6. _____
7. _____
8. _____
9. _____
10. _____





Déterminez quelle lettre répond le mieux à chaque question.

- 1) Quelle thermomètre représente le mieux la température de 82°?
- 2) Quelle thermomètre représente le mieux la température de 64°?
- 3) Quelle thermomètre représente le mieux la température de 58°?
- 4) Quelle thermomètre représente le mieux la température de 106°?
- 5) Quelle thermomètre représente le mieux la température de 88°?
- 6) Quelle thermomètre représente le mieux la température de 36°?
- 7) Quelle thermomètre représente le mieux la température de 18°?
- 8) Quelle thermomètre représente le mieux la température de 30°?
- 9) Quelle thermomètre représente le mieux la température de 55°?
- 10) Quelle thermomètre représente le mieux la température de 103°?

Réponses1. **J**2. **H**3. **I**4. **D**5. **C**6. **E**7. **A**8. **G**9. **F**10. **B**