

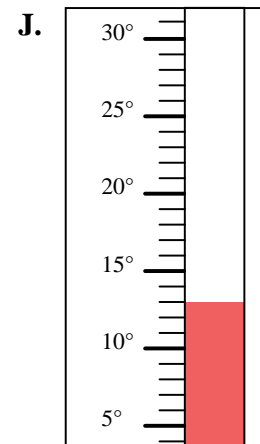
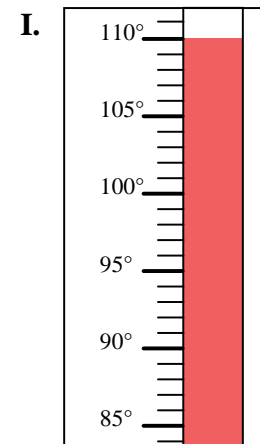
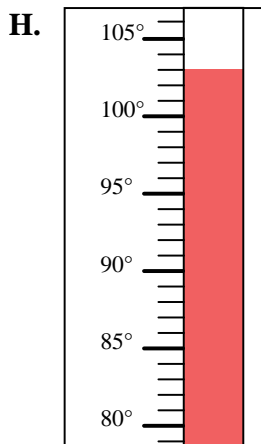
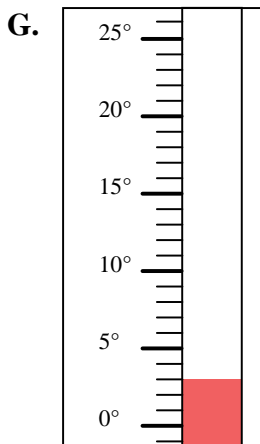
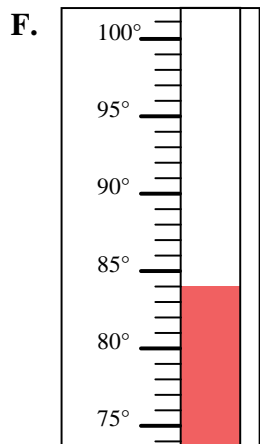
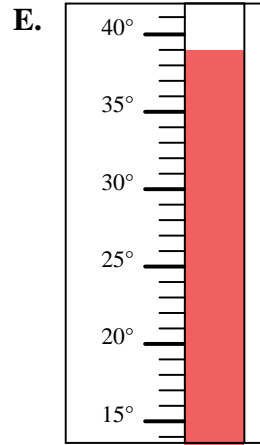
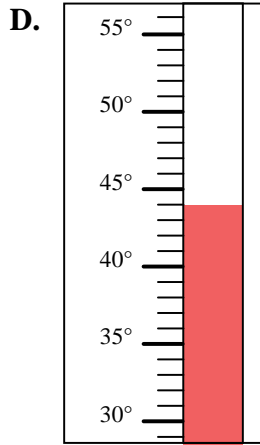
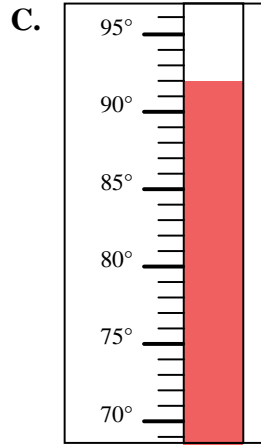
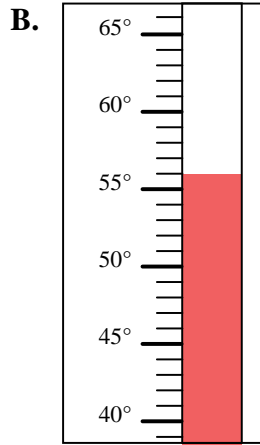
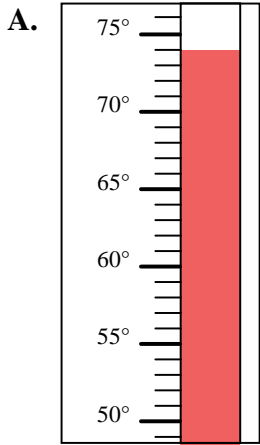


Déterminez quelle lettre répond le mieux à chaque question.

Réponses

- 1) Quelle thermomètre représente le mieux la température de 92°?
- 2) Quelle thermomètre représente le mieux la température de 84°?
- 3) Quelle thermomètre représente le mieux la température de 56°?
- 4) Quelle thermomètre représente le mieux la température de 110°?
- 5) Quelle thermomètre représente le mieux la température de 13°?
- 6) Quelle thermomètre représente le mieux la température de 39°?
- 7) Quelle thermomètre représente le mieux la température de 3°?
- 8) Quelle thermomètre représente le mieux la température de 44°?
- 9) Quelle thermomètre représente le mieux la température de 74°?
- 10) Quelle thermomètre représente le mieux la température de 103°?

1. _____
2. _____
3. _____
4. _____
5. _____
6. _____
7. _____
8. _____
9. _____
10. _____





Déterminez quelle lettre répond le mieux à chaque question.

- 1) Quelle thermomètre représente le mieux la température de 92°?
- 2) Quelle thermomètre représente le mieux la température de 84°?
- 3) Quelle thermomètre représente le mieux la température de 56°?
- 4) Quelle thermomètre représente le mieux la température de 110°?
- 5) Quelle thermomètre représente le mieux la température de 13°?
- 6) Quelle thermomètre représente le mieux la température de 39°?
- 7) Quelle thermomètre représente le mieux la température de 3°?
- 8) Quelle thermomètre représente le mieux la température de 44°?
- 9) Quelle thermomètre représente le mieux la température de 74°?
- 10) Quelle thermomètre représente le mieux la température de 103°?

Réponses1. **C**2. **F**3. **B**4. **I**5. **J**6. **E**7. **G**8. **D**9. **A**10. **H**