



Déterminez quelle lettre répond le mieux à chaque question.

Réponses

- 1) Quelle thermomètre représente le mieux la température de 39°?
- 2) Quelle thermomètre représente le mieux la température de 12°?
- 3) Quelle thermomètre représente le mieux la température de 75°?
- 4) Quelle thermomètre représente le mieux la température de 100°?
- 5) Quelle thermomètre représente le mieux la température de 33°?
- 6) Quelle thermomètre représente le mieux la température de 15°?
- 7) Quelle thermomètre représente le mieux la température de 94°?
- 8) Quelle thermomètre représente le mieux la température de 54°?
- 9) Quelle thermomètre représente le mieux la température de 62°?
- 10) Quelle thermomètre représente le mieux la température de 41°?

1. _____

2. _____

3. _____

4. _____

5. _____

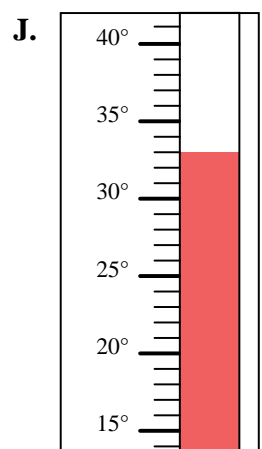
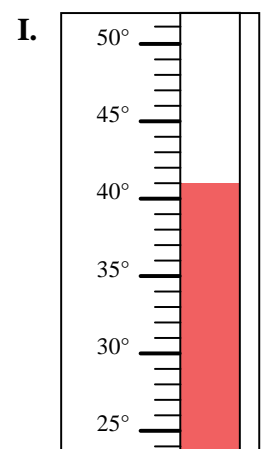
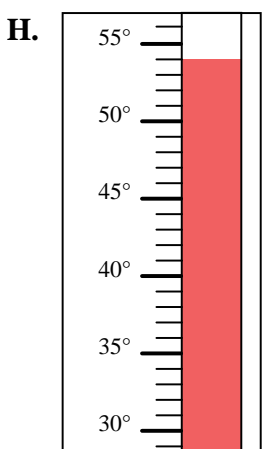
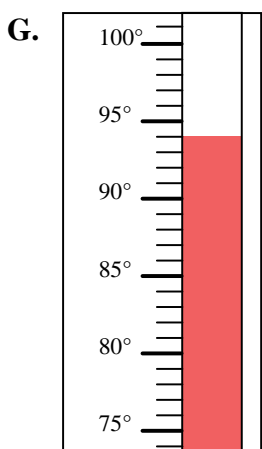
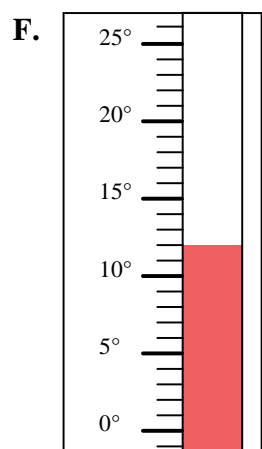
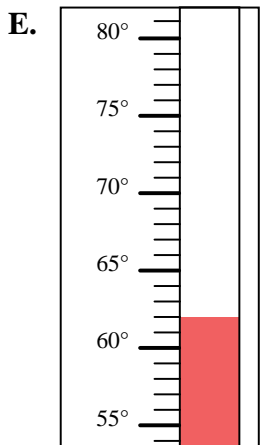
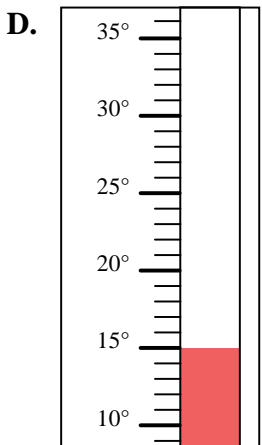
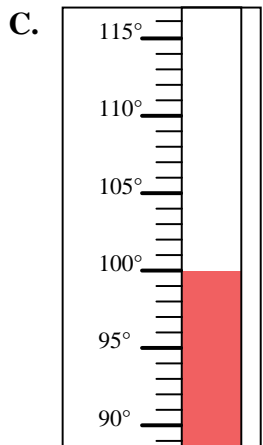
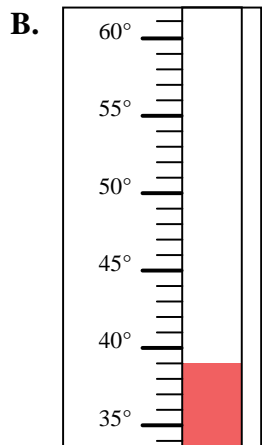
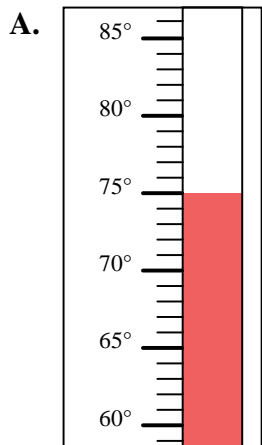
6. _____

7. _____

8. _____

9. _____

10. _____





Déterminez quelle lettre répond le mieux à chaque question.

- 1) Quelle thermomètre représente le mieux la température de 39°?
- 2) Quelle thermomètre représente le mieux la température de 12°?
- 3) Quelle thermomètre représente le mieux la température de 75°?
- 4) Quelle thermomètre représente le mieux la température de 100°?
- 5) Quelle thermomètre représente le mieux la température de 33°?
- 6) Quelle thermomètre représente le mieux la température de 15°?
- 7) Quelle thermomètre représente le mieux la température de 94°?
- 8) Quelle thermomètre représente le mieux la température de 54°?
- 9) Quelle thermomètre représente le mieux la température de 62°?
- 10) Quelle thermomètre représente le mieux la température de 41°?

Réponses1. **B**2. **F**3. **A**4. **C**5. **J**6. **D**7. **G**8. **H**9. **E**10. **I**