

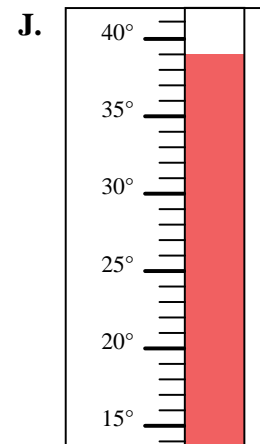
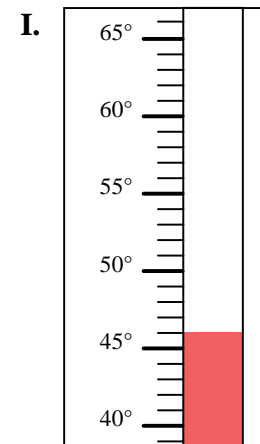
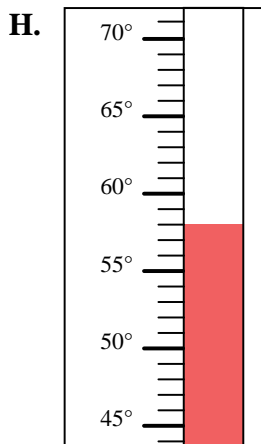
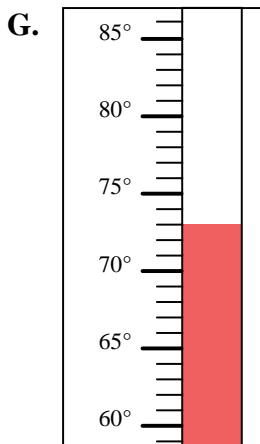
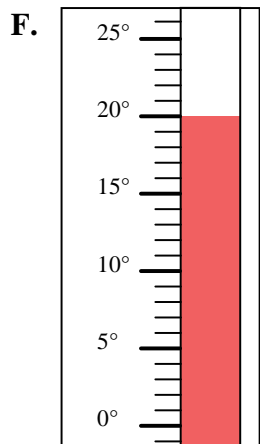
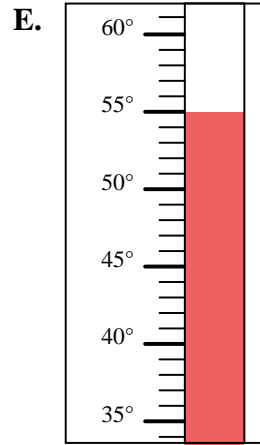
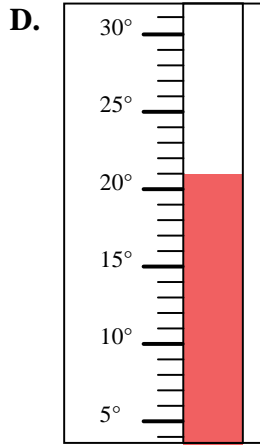
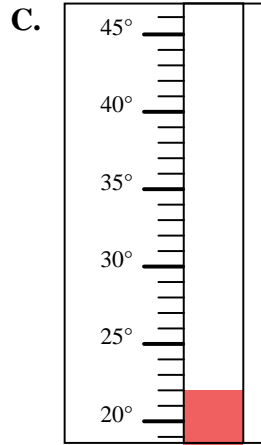
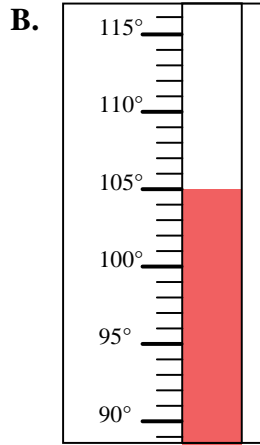
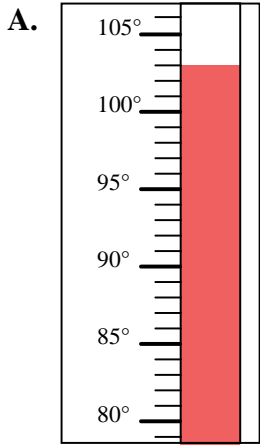


Déterminez quelle lettre répond le mieux à chaque question.

Réponses

- 1) Quelle thermomètre représente le mieux la température de 103°?
- 2) Quelle thermomètre représente le mieux la température de 73°?
- 3) Quelle thermomètre représente le mieux la température de 22°?
- 4) Quelle thermomètre représente le mieux la température de 21°?
- 5) Quelle thermomètre représente le mieux la température de 46°?
- 6) Quelle thermomètre représente le mieux la température de 20°?
- 7) Quelle thermomètre représente le mieux la température de 39°?
- 8) Quelle thermomètre représente le mieux la température de 55°?
- 9) Quelle thermomètre représente le mieux la température de 105°?
- 10) Quelle thermomètre représente le mieux la température de 58°?

1. _____
2. _____
3. _____
4. _____
5. _____
6. _____
7. _____
8. _____
9. _____
10. _____





Déterminez quelle lettre répond le mieux à chaque question.

- 1) Quelle thermomètre représente le mieux la température de 103°?
- 2) Quelle thermomètre représente le mieux la température de 73°?
- 3) Quelle thermomètre représente le mieux la température de 22°?
- 4) Quelle thermomètre représente le mieux la température de 21°?
- 5) Quelle thermomètre représente le mieux la température de 46°?
- 6) Quelle thermomètre représente le mieux la température de 20°?
- 7) Quelle thermomètre représente le mieux la température de 39°?
- 8) Quelle thermomètre représente le mieux la température de 55°?
- 9) Quelle thermomètre représente le mieux la température de 105°?
- 10) Quelle thermomètre représente le mieux la température de 58°?

Réponses1. **A**2. **G**3. **C**4. **D**5. **I**6. **F**7. **J**8. **E**9. **B**10. **H**