

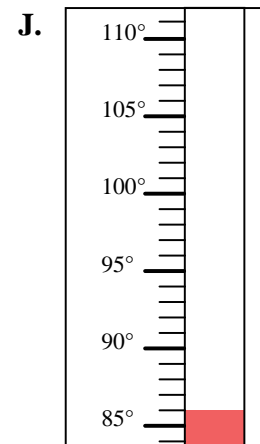
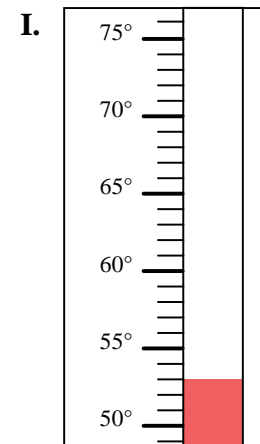
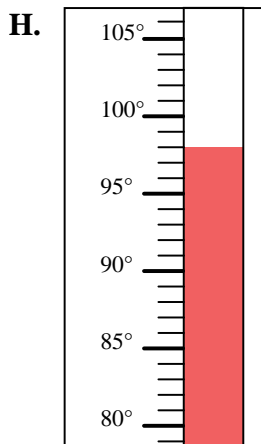
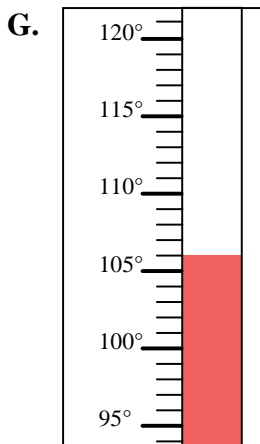
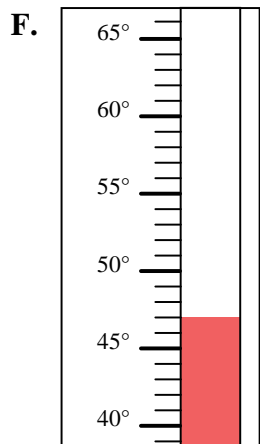
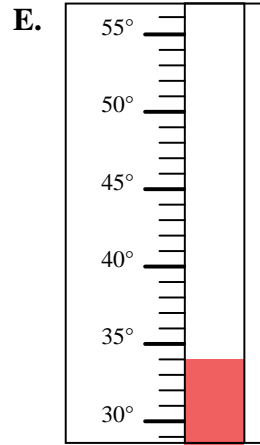
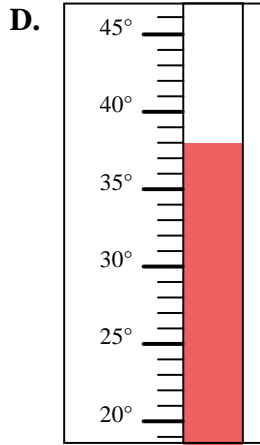
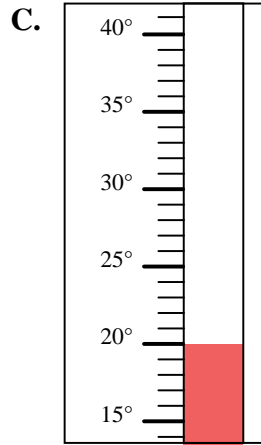
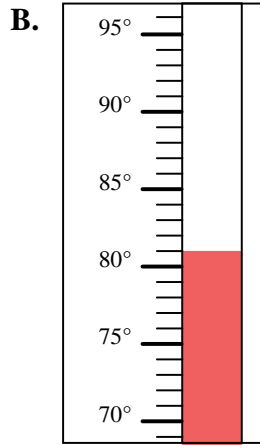
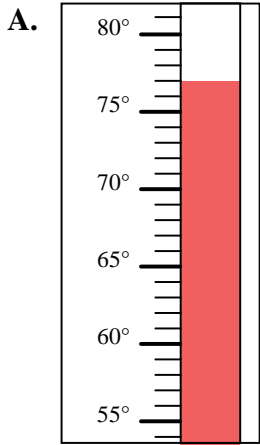


Déterminez quelle lettre répond le mieux à chaque question.

Réponses

- 1) Quelle thermomètre représente le mieux la température de 53°?
- 2) Quelle thermomètre représente le mieux la température de 98°?
- 3) Quelle thermomètre représente le mieux la température de 77°?
- 4) Quelle thermomètre représente le mieux la température de 106°?
- 5) Quelle thermomètre représente le mieux la température de 47°?
- 6) Quelle thermomètre représente le mieux la température de 86°?
- 7) Quelle thermomètre représente le mieux la température de 34°?
- 8) Quelle thermomètre représente le mieux la température de 81°?
- 9) Quelle thermomètre représente le mieux la température de 20°?
- 10) Quelle thermomètre représente le mieux la température de 38°?

1. _____
2. _____
3. _____
4. _____
5. _____
6. _____
7. _____
8. _____
9. _____
10. _____





Déterminez quelle lettre répond le mieux à chaque question.

- 1) Quelle thermomètre représente le mieux la température de 53°?
- 2) Quelle thermomètre représente le mieux la température de 98°?
- 3) Quelle thermomètre représente le mieux la température de 77°?
- 4) Quelle thermomètre représente le mieux la température de 106°?
- 5) Quelle thermomètre représente le mieux la température de 47°?
- 6) Quelle thermomètre représente le mieux la température de 86°?
- 7) Quelle thermomètre représente le mieux la température de 34°?
- 8) Quelle thermomètre représente le mieux la température de 81°?
- 9) Quelle thermomètre représente le mieux la température de 20°?
- 10) Quelle thermomètre représente le mieux la température de 38°?

Réponses1. **I**2. **H**3. **A**4. **G**5. **F**6. **J**7. **E**8. **B**9. **C**10. **D**