




Résoudre chaque problème.

Réponses

Ex) Quel est le ration de étoiles par rapport à pentagone?



1) Quel est le ration de pentagone par rapport à étoiles?



Ex. **15:10**

2) Quel est le ration de hearts par rapport à carrés?



3) Quel est le ration de pentagone par rapport à étoiles?



1. _____

2. _____

3. _____

4. _____

5. _____

6. _____

7. _____


8. _____

9. _____

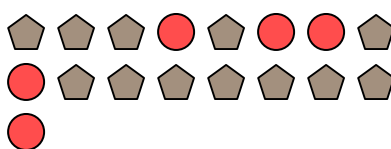
10. _____

11. _____


4) Quel est le ration de étoiles par rapport à cercles?



5) Quel est le ration de cercles par rapport à pentagone?



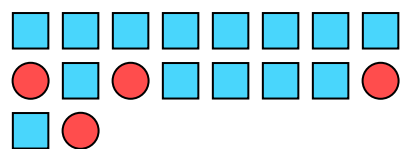
6) Quel est le ration de pentagone par rapport à hearts?



7) Quel est le ration de triangles par rapport à pentagone?



8) Quel est le ration de carrés par rapport à cercles?



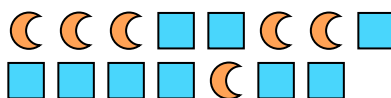
9) Quel est le ration de étoiles par rapport à pentagone?



10) Quel est le ration de moons par rapport à hearts?




11) Quel est le ration de moons par rapport à carrés?





Résoudre chaque problème.

Ex) Quel est le ration de étoiles par rapport à pentagone?



1) Quel est le ration de pentagone par rapport à étoiles?




2) Quel est le ration de hearts par rapport à carrés?



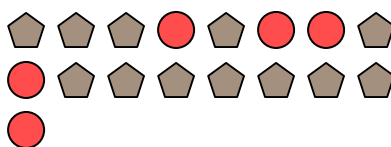
3) Quel est le ration de pentagone par rapport à étoiles?




4) Quel est le ration de étoiles par rapport à cercles?



5) Quel est le ration de cercles par rapport à pentagone?



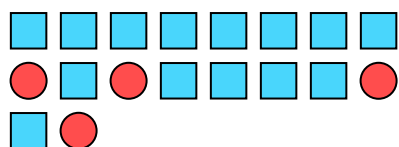
6) Quel est le ration de pentagone par rapport à hearts?



7) Quel est le ration de triangles par rapport à pentagone?



8) Quel est le ration de carrés par rapport à cercles?



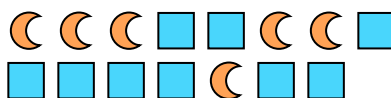
9) Quel est le ration de étoiles par rapport à pentagone?



10) Quel est le ration de moons par rapport à hearts?



11) Quel est le ration de moons par rapport à carrés?



Réponses

Ex. 15:10

1. 8:12

2. 10:2

3. 11:5

4. 3:10

5. 5:12

6. 14:15

7. 8:6

8. 14:4

9. 7:5

10. 8:5

11. 6:9