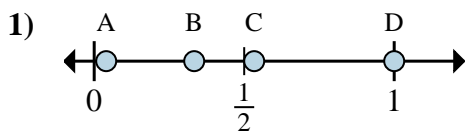


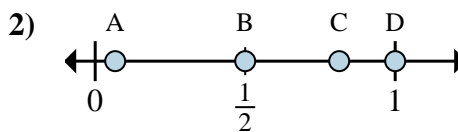


Déterminez quelle lettre représente la situation de la fraction sur la droite numérique.

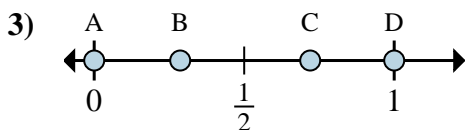
Réponses



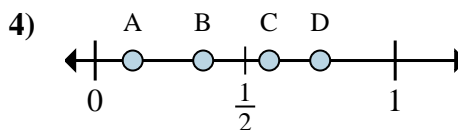
- a. Quelle lettre représente le mieux $\frac{1}{3}$
- b. Quelle lettre représente le mieux $\frac{3}{3}$



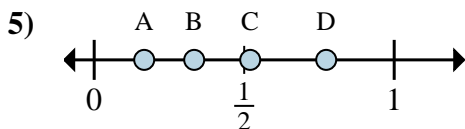
- a. Quelle lettre représente le mieux $\frac{1}{2}$
- b. Quelle lettre représente le mieux $\frac{2}{2}$



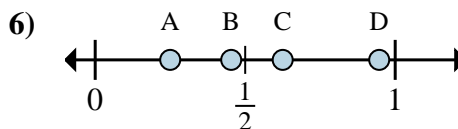
- a. Quelle lettre représente le mieux $\frac{0}{6}$
- b. Quelle lettre représente le mieux $\frac{6}{6}$



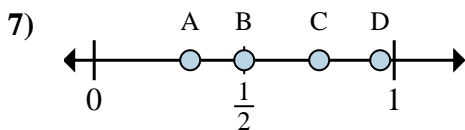
- a. Quelle lettre représente le mieux $\frac{1}{8}$
- b. Quelle lettre représente le mieux $\frac{6}{8}$



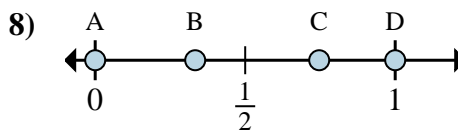
- a. Quelle lettre représente le mieux $\frac{2}{6}$
- b. Quelle lettre représente le mieux $\frac{1}{6}$



- a. Quelle lettre représente le mieux $\frac{5}{8}$
- b. Quelle lettre représente le mieux $\frac{2}{8}$



- a. Quelle lettre représente le mieux $\frac{3}{4}$
- b. Quelle lettre représente le mieux $\frac{2}{4}$



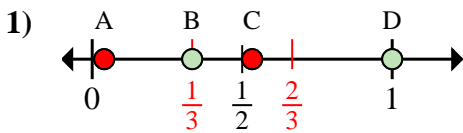
- a. Quelle lettre représente le mieux $\frac{0}{6}$
- b. Quelle lettre représente le mieux $\frac{6}{6}$

- 1. _____
- 2. _____
- 3. _____
- 4. _____
- 5. _____
- 6. _____
- 7. _____
- 8. _____

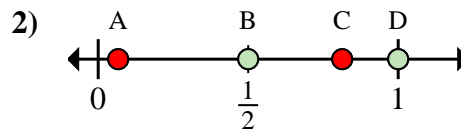


Déterminez quelle lettre représente la situation de la fraction sur la droite numérique.

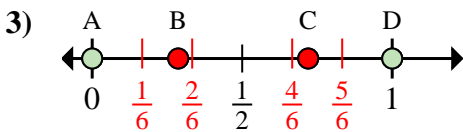
Réponses



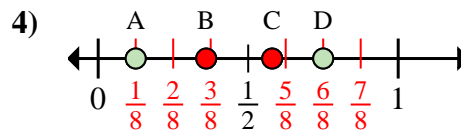
- a. Quelle lettre représente le mieux $\frac{1}{3}$
 b. Quelle lettre représente le mieux $\frac{3}{3}$



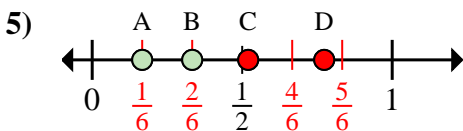
- a. Quelle lettre représente le mieux $\frac{1}{2}$
 b. Quelle lettre représente le mieux $\frac{2}{2}$



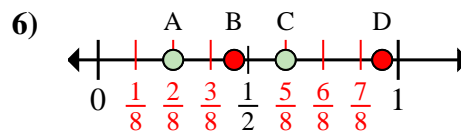
- a. Quelle lettre représente le mieux $\frac{0}{6}$
 b. Quelle lettre représente le mieux $\frac{6}{6}$



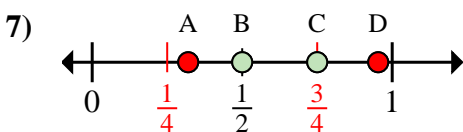
- a. Quelle lettre représente le mieux $\frac{1}{8}$
 b. Quelle lettre représente le mieux $\frac{6}{8}$



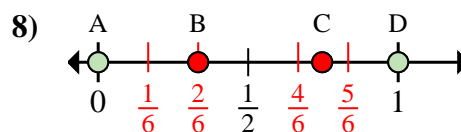
- a. Quelle lettre représente le mieux $\frac{2}{6}$
 b. Quelle lettre représente le mieux $\frac{1}{6}$



- a. Quelle lettre représente le mieux $\frac{5}{8}$
 b. Quelle lettre représente le mieux $\frac{2}{8}$



- a. Quelle lettre représente le mieux $\frac{3}{4}$
 b. Quelle lettre représente le mieux $\frac{2}{4}$



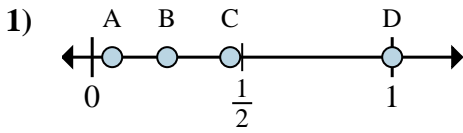
- a. Quelle lettre représente le mieux $\frac{0}{6}$
 b. Quelle lettre représente le mieux $\frac{6}{6}$

1. B D
 2. B D
 3. A D
 4. A D
 5. B A
 6. C A
 7. C B
 8. A D

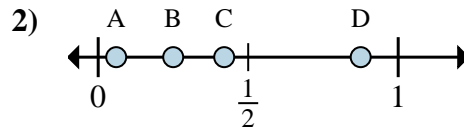


Déterminez quelle lettre représente la situation de la fraction sur la droite numérique.

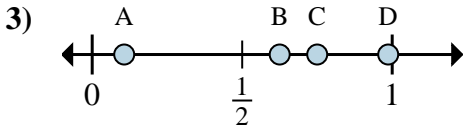
Réponses



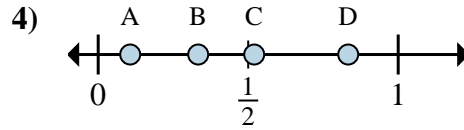
- a. Quelle lettre représente le mieux $\frac{4}{4}$
 b. Quelle lettre représente le mieux $\frac{1}{4}$



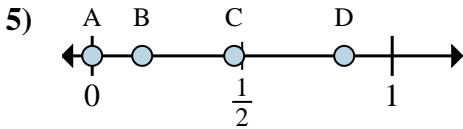
- a. Quelle lettre représente le mieux $\frac{7}{8}$
 b. Quelle lettre représente le mieux $\frac{2}{8}$



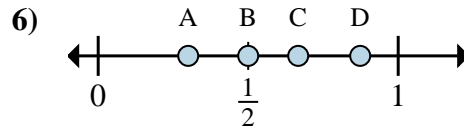
- a. Quelle lettre représente le mieux $\frac{5}{8}$
 b. Quelle lettre représente le mieux $\frac{6}{8}$



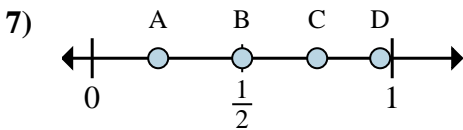
- a. Quelle lettre représente le mieux $\frac{5}{6}$
 b. Quelle lettre représente le mieux $\frac{2}{6}$



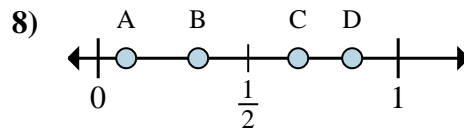
- a. Quelle lettre représente le mieux $\frac{0}{6}$
 b. Quelle lettre représente le mieux $\frac{1}{6}$



- a. Quelle lettre représente le mieux $\frac{3}{6}$
 b. Quelle lettre représente le mieux $\frac{4}{6}$



- a. Quelle lettre représente le mieux $\frac{3}{4}$
 b. Quelle lettre représente le mieux $\frac{2}{4}$



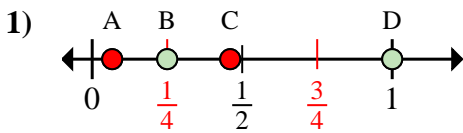
- a. Quelle lettre représente le mieux $\frac{2}{3}$
 b. Quelle lettre représente le mieux $\frac{1}{3}$

1. _____
 2. _____
 3. _____
 4. _____
 5. _____
 6. _____
 7. _____
 8. _____

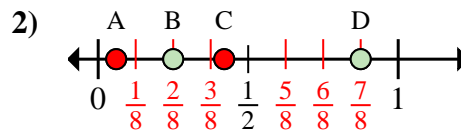


Déterminez quelle lettre représente la situation de la fraction sur la droite numérique.

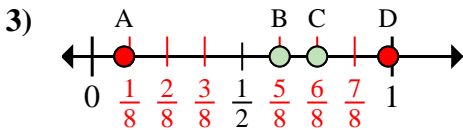
Réponses



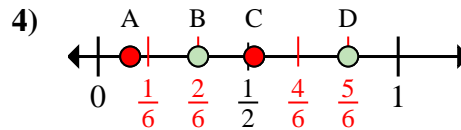
- a. Quelle lettre représente le mieux $\frac{4}{4}$
 b. Quelle lettre représente le mieux $\frac{1}{4}$



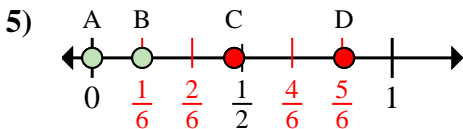
- a. Quelle lettre représente le mieux $\frac{7}{8}$
 b. Quelle lettre représente le mieux $\frac{2}{8}$



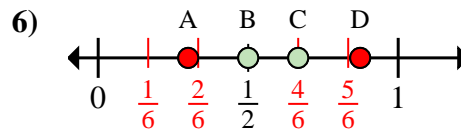
- a. Quelle lettre représente le mieux $\frac{5}{8}$
 b. Quelle lettre représente le mieux $\frac{6}{8}$



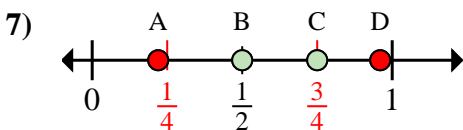
- a. Quelle lettre représente le mieux $\frac{5}{6}$
 b. Quelle lettre représente le mieux $\frac{2}{6}$



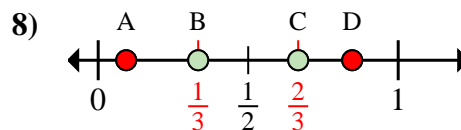
- a. Quelle lettre représente le mieux $\frac{0}{6}$
 b. Quelle lettre représente le mieux $\frac{1}{6}$



- a. Quelle lettre représente le mieux $\frac{3}{6}$
 b. Quelle lettre représente le mieux $\frac{4}{6}$



- a. Quelle lettre représente le mieux $\frac{3}{4}$
 b. Quelle lettre représente le mieux $\frac{2}{4}$



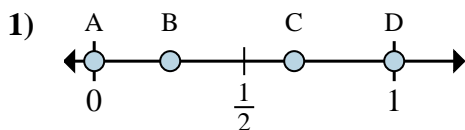
- a. Quelle lettre représente le mieux $\frac{2}{3}$
 b. Quelle lettre représente le mieux $\frac{1}{3}$

1. D B
 2. D B
 3. B C
 4. D B
 5. A B
 6. B C
 7. C B
 8. C B

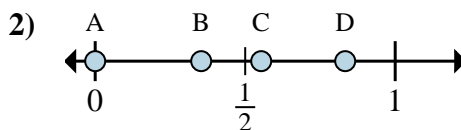


Déterminez quelle lettre représente la situation de la fraction sur la droite numérique.

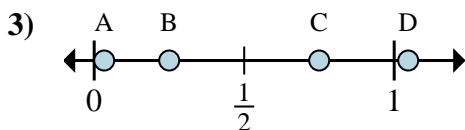
Réponses



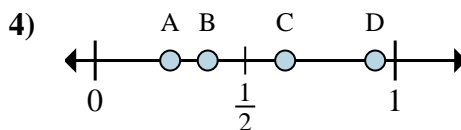
- a. Quelle lettre représente le mieux $\frac{0}{3}$
 b. Quelle lettre représente le mieux $\frac{2}{3}$



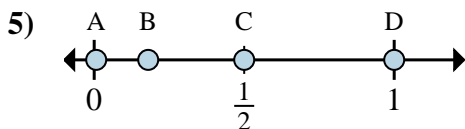
- a. Quelle lettre représente le mieux $\frac{0}{6}$
 b. Quelle lettre représente le mieux $\frac{5}{6}$



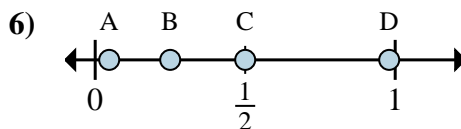
- a. Quelle lettre représente le mieux $\frac{3}{4}$
 b. Quelle lettre représente le mieux $\frac{1}{4}$



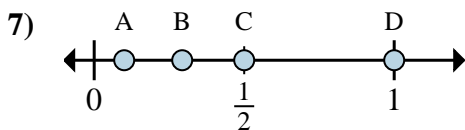
- a. Quelle lettre représente le mieux $\frac{2}{8}$
 b. Quelle lettre représente le mieux $\frac{3}{8}$



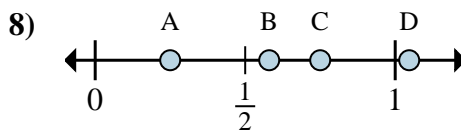
- a. Quelle lettre représente le mieux $\frac{2}{4}$
 b. Quelle lettre représente le mieux $\frac{4}{4}$



- a. Quelle lettre représente le mieux $\frac{1}{4}$
 b. Quelle lettre représente le mieux $\frac{2}{4}$



- a. Quelle lettre représente le mieux $\frac{1}{2}$
 b. Quelle lettre représente le mieux $\frac{2}{2}$



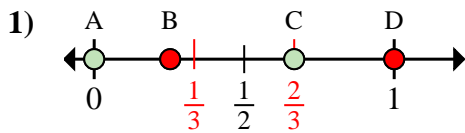
- a. Quelle lettre représente le mieux $\frac{1}{4}$
 b. Quelle lettre représente le mieux $\frac{3}{4}$

1. _____
 2. _____
 3. _____
 4. _____
 5. _____
 6. _____
 7. _____
 8. _____

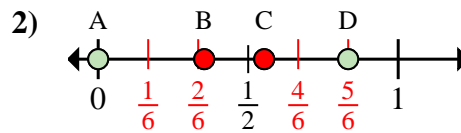


Déterminez quelle lettre représente la situation de la fraction sur la droite numérique.

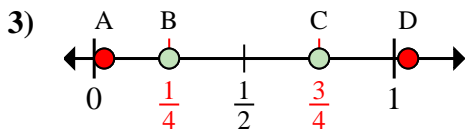
Réponses



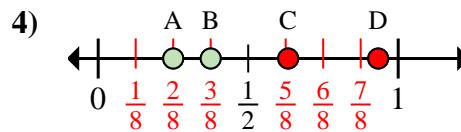
- a. Quelle lettre représente le mieux $\frac{0}{3}$
 b. Quelle lettre représente le mieux $\frac{2}{3}$



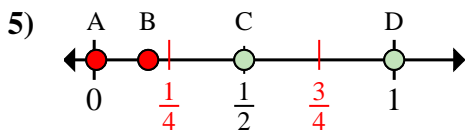
- a. Quelle lettre représente le mieux $\frac{0}{6}$
 b. Quelle lettre représente le mieux $\frac{5}{6}$



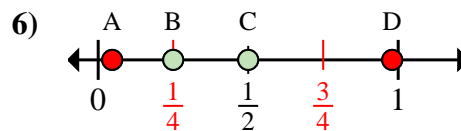
- a. Quelle lettre représente le mieux $\frac{3}{4}$
 b. Quelle lettre représente le mieux $\frac{1}{4}$



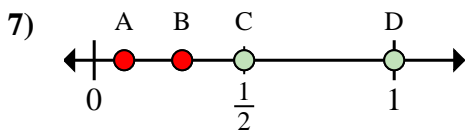
- a. Quelle lettre représente le mieux $\frac{2}{8}$
 b. Quelle lettre représente le mieux $\frac{3}{8}$



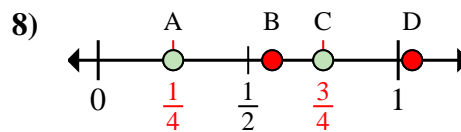
- a. Quelle lettre représente le mieux $\frac{2}{4}$
 b. Quelle lettre représente le mieux $\frac{4}{4}$



- a. Quelle lettre représente le mieux $\frac{1}{4}$
 b. Quelle lettre représente le mieux $\frac{2}{4}$



- a. Quelle lettre représente le mieux $\frac{1}{2}$
 b. Quelle lettre représente le mieux $\frac{2}{2}$



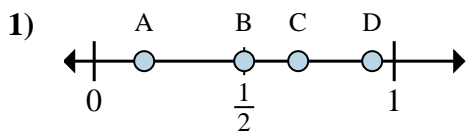
- a. Quelle lettre représente le mieux $\frac{1}{4}$
 b. Quelle lettre représente le mieux $\frac{3}{4}$

1. A C
 2. A D
 3. C B
 4. A B
 5. C D
 6. B C
 7. C D
 8. A C

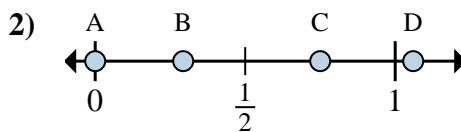


Déterminez quelle lettre représente la situation de la fraction sur la droite numérique.

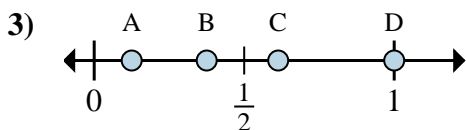
Réponses



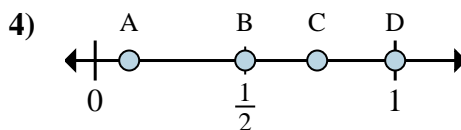
- a. Quelle lettre représente le mieux $\frac{1}{6}$
- b. Quelle lettre représente le mieux $\frac{3}{6}$



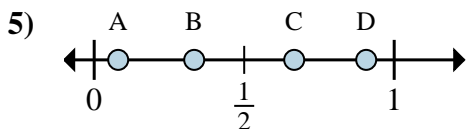
- a. Quelle lettre représente le mieux $\frac{0}{4}$
- b. Quelle lettre représente le mieux $\frac{3}{4}$



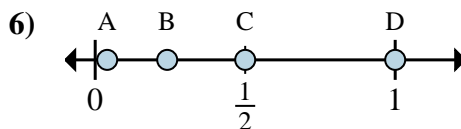
- a. Quelle lettre représente le mieux $\frac{1}{8}$
- b. Quelle lettre représente le mieux $\frac{3}{8}$



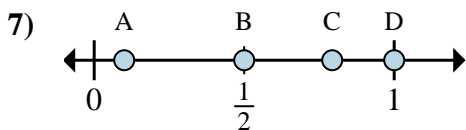
- a. Quelle lettre représente le mieux $\frac{2}{2}$
- b. Quelle lettre représente le mieux $\frac{1}{2}$



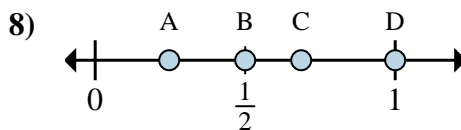
- a. Quelle lettre représente le mieux $\frac{1}{3}$
- b. Quelle lettre représente le mieux $\frac{2}{3}$



- a. Quelle lettre représente le mieux $\frac{2}{2}$
- b. Quelle lettre représente le mieux $\frac{1}{2}$



- a. Quelle lettre représente le mieux $\frac{1}{2}$
- b. Quelle lettre représente le mieux $\frac{2}{2}$



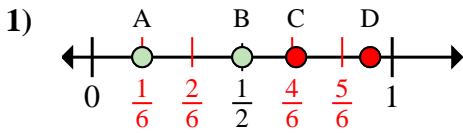
- a. Quelle lettre représente le mieux $\frac{1}{2}$
- b. Quelle lettre représente le mieux $\frac{2}{2}$

- 1. _____
- 2. _____
- 3. _____
- 4. _____
- 5. _____
- 6. _____
- 7. _____
- 8. _____

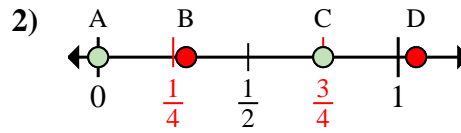


Déterminez quelle lettre représente la situation de la fraction sur la droite numérique.

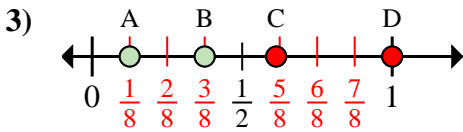
Réponses



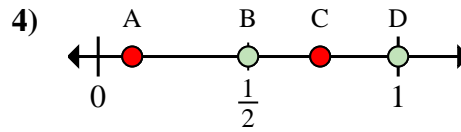
- a. Quelle lettre représente le mieux $\frac{1}{6}$
 b. Quelle lettre représente le mieux $\frac{3}{6}$



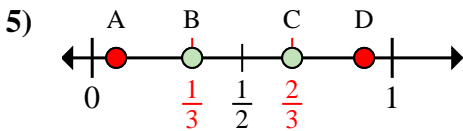
- a. Quelle lettre représente le mieux $\frac{0}{4}$
 b. Quelle lettre représente le mieux $\frac{3}{4}$



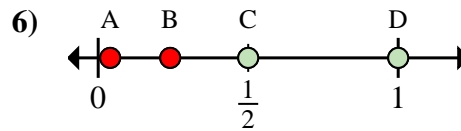
- a. Quelle lettre représente le mieux $\frac{1}{8}$
 b. Quelle lettre représente le mieux $\frac{3}{8}$



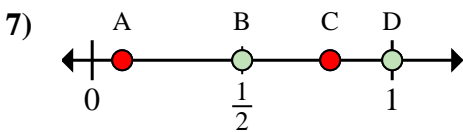
- a. Quelle lettre représente le mieux $\frac{2}{2}$
 b. Quelle lettre représente le mieux $\frac{1}{2}$



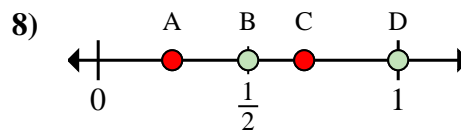
- a. Quelle lettre représente le mieux $\frac{1}{3}$
 b. Quelle lettre représente le mieux $\frac{2}{3}$



- a. Quelle lettre représente le mieux $\frac{2}{2}$
 b. Quelle lettre représente le mieux $\frac{1}{2}$



- a. Quelle lettre représente le mieux $\frac{1}{2}$
 b. Quelle lettre représente le mieux $\frac{2}{2}$



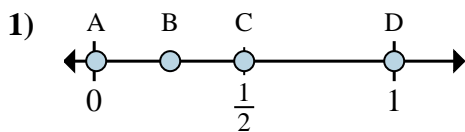
- a. Quelle lettre représente le mieux $\frac{1}{2}$
 b. Quelle lettre représente le mieux $\frac{2}{2}$

1. A B
 2. A C
 3. A B
 4. D B
 5. B C
 6. D C
 7. B D
 8. B D

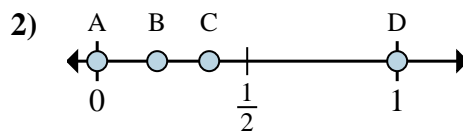


Déterminez quelle lettre représente la situation de la fraction sur la droite numérique.

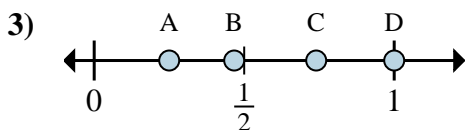
Réponses



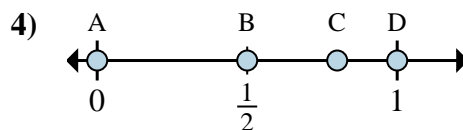
- a. Quelle lettre représente le mieux $\frac{6}{6}$
 b. Quelle lettre représente le mieux $\frac{3}{6}$



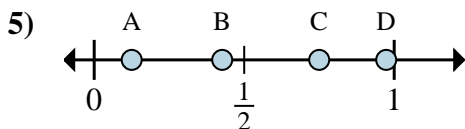
- a. Quelle lettre représente le mieux $\frac{0}{2}$
 b. Quelle lettre représente le mieux $\frac{2}{2}$



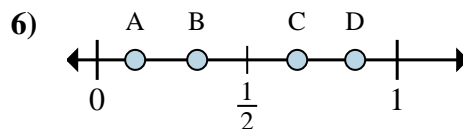
- a. Quelle lettre représente le mieux $\frac{1}{4}$
 b. Quelle lettre représente le mieux $\frac{4}{4}$



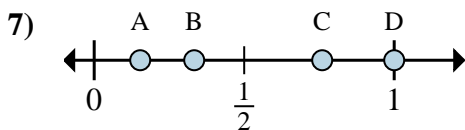
- a. Quelle lettre représente le mieux $\frac{0}{3}$
 b. Quelle lettre représente le mieux $\frac{3}{3}$



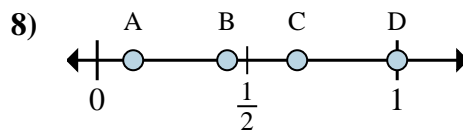
- a. Quelle lettre représente le mieux $\frac{1}{8}$
 b. Quelle lettre représente le mieux $\frac{6}{8}$



- a. Quelle lettre représente le mieux $\frac{2}{3}$
 b. Quelle lettre représente le mieux $\frac{1}{3}$



- a. Quelle lettre représente le mieux $\frac{1}{3}$
 b. Quelle lettre représente le mieux $\frac{3}{3}$



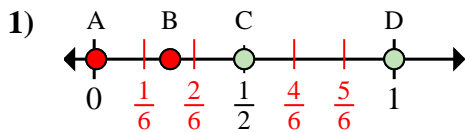
- a. Quelle lettre représente le mieux $\frac{3}{3}$
 b. Quelle lettre représente le mieux $\frac{2}{3}$

1. _____
 2. _____
 3. _____
 4. _____
 5. _____
 6. _____
 7. _____
 8. _____

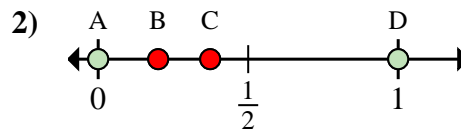


Déterminez quelle lettre représente la situation de la fraction sur la droite numérique.

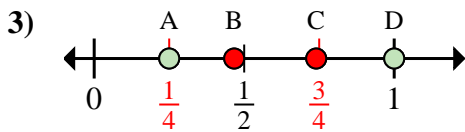
Réponses



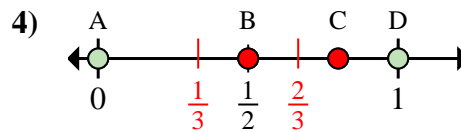
- a. Quelle lettre représente le mieux $\frac{6}{6}$
 b. Quelle lettre représente le mieux $\frac{3}{6}$



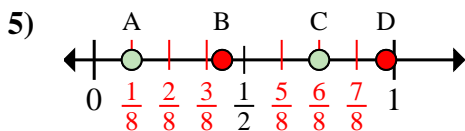
- a. Quelle lettre représente le mieux $\frac{0}{2}$
 b. Quelle lettre représente le mieux $\frac{2}{2}$



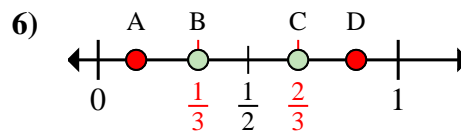
- a. Quelle lettre représente le mieux $\frac{1}{4}$
 b. Quelle lettre représente le mieux $\frac{4}{4}$



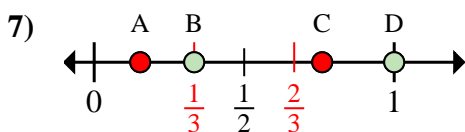
- a. Quelle lettre représente le mieux $\frac{0}{3}$
 b. Quelle lettre représente le mieux $\frac{3}{3}$



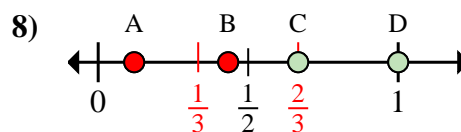
- a. Quelle lettre représente le mieux $\frac{1}{8}$
 b. Quelle lettre représente le mieux $\frac{6}{8}$



- a. Quelle lettre représente le mieux $\frac{2}{3}$
 b. Quelle lettre représente le mieux $\frac{1}{3}$



- a. Quelle lettre représente le mieux $\frac{1}{3}$
 b. Quelle lettre représente le mieux $\frac{3}{3}$



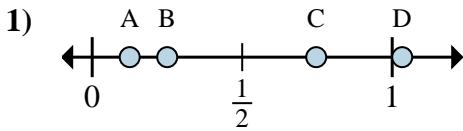
- a. Quelle lettre représente le mieux $\frac{3}{3}$
 b. Quelle lettre représente le mieux $\frac{2}{3}$

1. D C
 2. A D
 3. A D
 4. A D
 5. A C
 6. C B
 7. B D
 8. D C

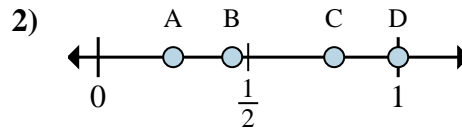


Déterminez quelle lettre représente la situation de la fraction sur la droite numérique.

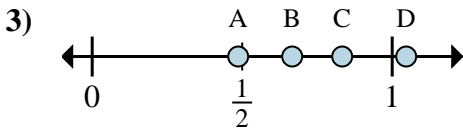
Réponses



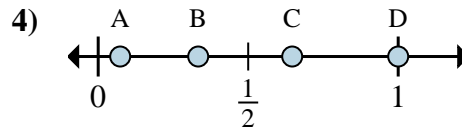
- a. Quelle lettre représente le mieux $\frac{1}{8}$
 b. Quelle lettre représente le mieux $\frac{2}{8}$



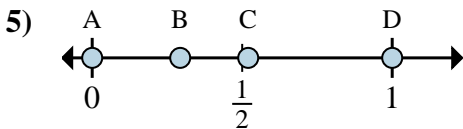
- a. Quelle lettre représente le mieux $\frac{4}{4}$
 b. Quelle lettre représente le mieux $\frac{1}{4}$



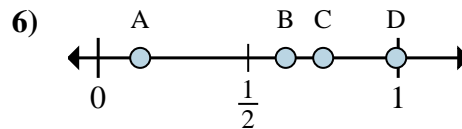
- a. Quelle lettre représente le mieux $\frac{5}{6}$
 b. Quelle lettre représente le mieux $\frac{4}{6}$



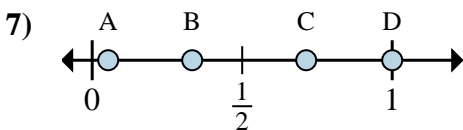
- a. Quelle lettre représente le mieux $\frac{3}{3}$
 b. Quelle lettre représente le mieux $\frac{1}{3}$



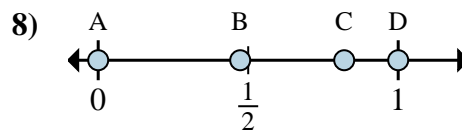
- a. Quelle lettre représente le mieux $\frac{0}{2}$
 b. Quelle lettre représente le mieux $\frac{2}{2}$



- a. Quelle lettre représente le mieux $\frac{6}{8}$
 b. Quelle lettre représente le mieux $\frac{5}{8}$



- a. Quelle lettre représente le mieux $\frac{1}{3}$
 b. Quelle lettre représente le mieux $\frac{3}{3}$



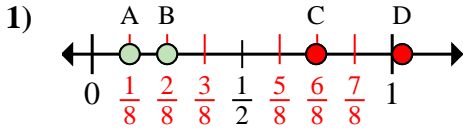
- a. Quelle lettre représente le mieux $\frac{0}{2}$
 b. Quelle lettre représente le mieux $\frac{2}{2}$

1. _____
 2. _____
 3. _____
 4. _____
 5. _____
 6. _____
 7. _____
 8. _____

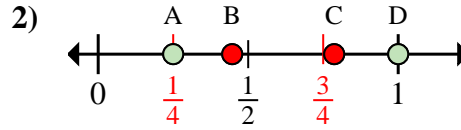


Déterminez quelle lettre représente la situation de la fraction sur la droite numérique.

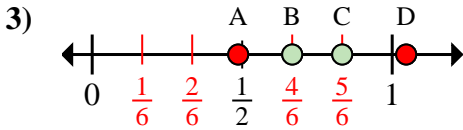
Réponses



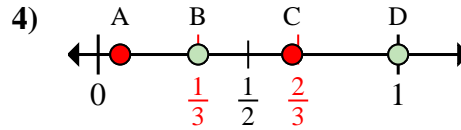
- a. Quelle lettre représente le mieux $\frac{1}{8}$
 b. Quelle lettre représente le mieux $\frac{2}{8}$



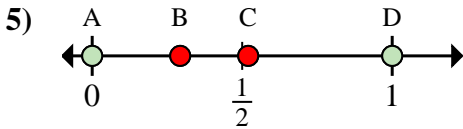
- a. Quelle lettre représente le mieux $\frac{4}{4}$
 b. Quelle lettre représente le mieux $\frac{1}{4}$



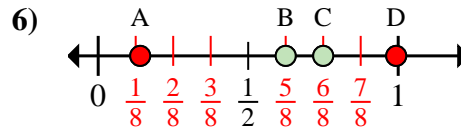
- a. Quelle lettre représente le mieux $\frac{5}{6}$
 b. Quelle lettre représente le mieux $\frac{4}{6}$



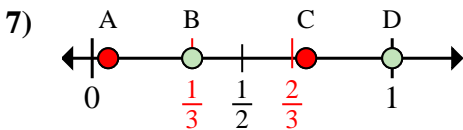
- a. Quelle lettre représente le mieux $\frac{3}{3}$
 b. Quelle lettre représente le mieux $\frac{1}{3}$



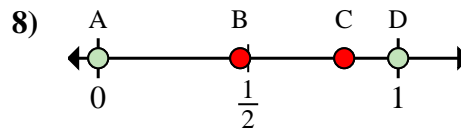
- a. Quelle lettre représente le mieux $\frac{0}{2}$
 b. Quelle lettre représente le mieux $\frac{2}{2}$



- a. Quelle lettre représente le mieux $\frac{6}{8}$
 b. Quelle lettre représente le mieux $\frac{5}{8}$



- a. Quelle lettre représente le mieux $\frac{1}{3}$
 b. Quelle lettre représente le mieux $\frac{3}{3}$



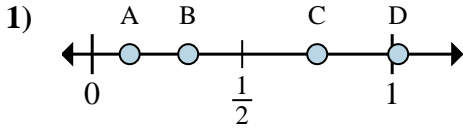
- a. Quelle lettre représente le mieux $\frac{0}{2}$
 b. Quelle lettre représente le mieux $\frac{2}{2}$

1. A B
 2. D A
 3. C B
 4. D B
 5. A D
 6. C B
 7. B D
 8. A D

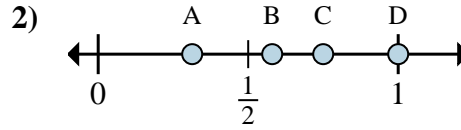


Déterminez quelle lettre représente la situation de la fraction sur la droite numérique.

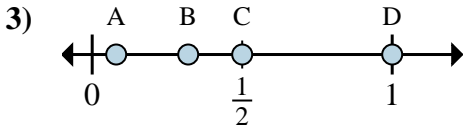
Réponses



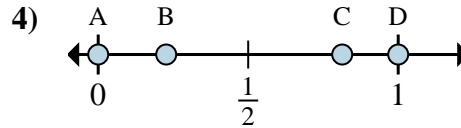
- a. Quelle lettre représente le mieux $\frac{1}{8}$
- b. Quelle lettre représente le mieux $\frac{6}{8}$



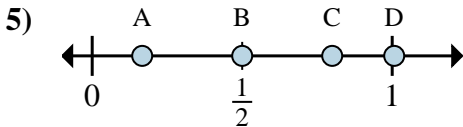
- a. Quelle lettre représente le mieux $\frac{3}{4}$
- b. Quelle lettre représente le mieux $\frac{4}{4}$



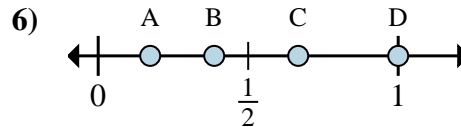
- a. Quelle lettre représente le mieux $\frac{8}{8}$
- b. Quelle lettre représente le mieux $\frac{4}{8}$



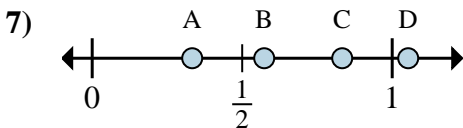
- a. Quelle lettre représente le mieux $\frac{0}{2}$
- b. Quelle lettre représente le mieux $\frac{2}{2}$



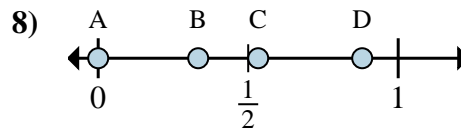
- a. Quelle lettre représente le mieux $\frac{1}{6}$
- b. Quelle lettre représente le mieux $\frac{3}{6}$



- a. Quelle lettre représente le mieux $\frac{2}{3}$
- b. Quelle lettre représente le mieux $\frac{3}{3}$



- a. Quelle lettre représente le mieux $\frac{5}{6}$
- b. Quelle lettre représente le mieux $\frac{2}{6}$



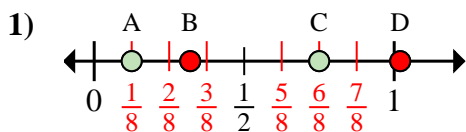
- a. Quelle lettre représente le mieux $\frac{0}{3}$
- b. Quelle lettre représente le mieux $\frac{1}{3}$

- 1. _____
- 2. _____
- 3. _____
- 4. _____
- 5. _____
- 6. _____
- 7. _____
- 8. _____

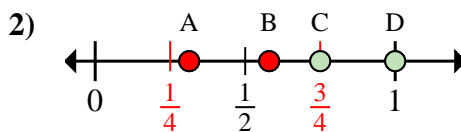


Déterminez quelle lettre représente la situation de la fraction sur la droite numérique.

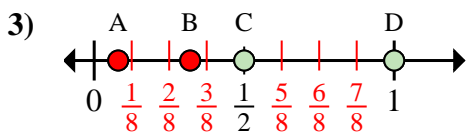
Réponses



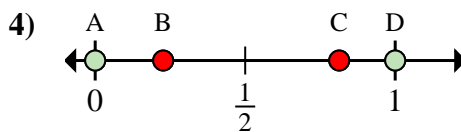
- a. Quelle lettre représente le mieux $\frac{1}{8}$
 b. Quelle lettre représente le mieux $\frac{6}{8}$



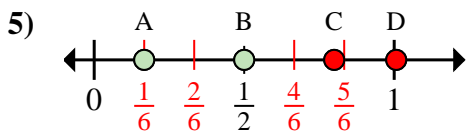
- a. Quelle lettre représente le mieux $\frac{3}{4}$
 b. Quelle lettre représente le mieux $\frac{4}{4}$



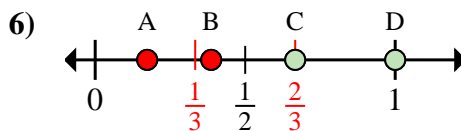
- a. Quelle lettre représente le mieux $\frac{8}{8}$
 b. Quelle lettre représente le mieux $\frac{4}{8}$



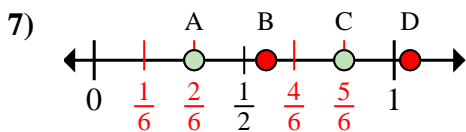
- a. Quelle lettre représente le mieux $\frac{0}{2}$
 b. Quelle lettre représente le mieux $\frac{2}{2}$



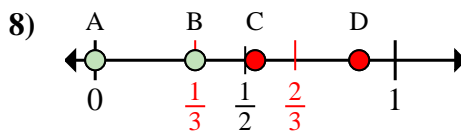
- a. Quelle lettre représente le mieux $\frac{1}{6}$
 b. Quelle lettre représente le mieux $\frac{3}{6}$



- a. Quelle lettre représente le mieux $\frac{2}{3}$
 b. Quelle lettre représente le mieux $\frac{3}{3}$



- a. Quelle lettre représente le mieux $\frac{5}{6}$
 b. Quelle lettre représente le mieux $\frac{2}{6}$



- a. Quelle lettre représente le mieux $\frac{0}{3}$
 b. Quelle lettre représente le mieux $\frac{1}{3}$

1. A C

2. C D

3. D C

4. A D

5. A B

6. C D

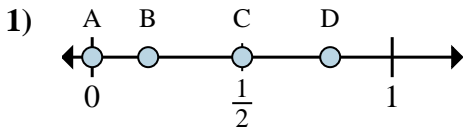
7. C A

8. A B

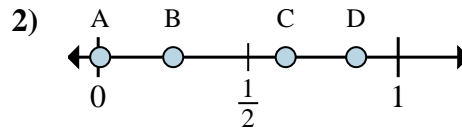


Déterminez quelle lettre représente la situation de la fraction sur la droite numérique.

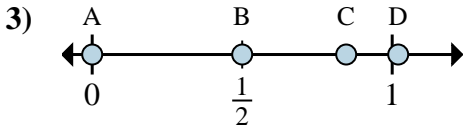
Réponses



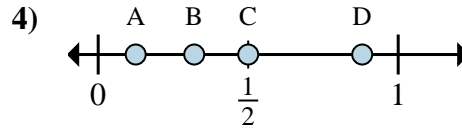
- a. Quelle lettre représente le mieux $\frac{0}{2}$
 b. Quelle lettre représente le mieux $\frac{1}{2}$



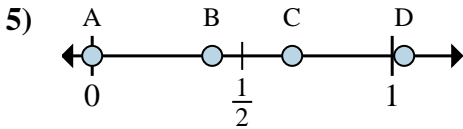
- a. Quelle lettre représente le mieux $\frac{2}{8}$
 b. Quelle lettre représente le mieux $\frac{5}{8}$



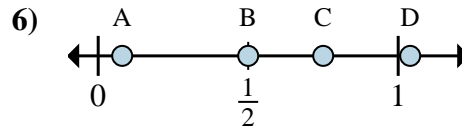
- a. Quelle lettre représente le mieux $\frac{0}{6}$
 b. Quelle lettre représente le mieux $\frac{3}{6}$



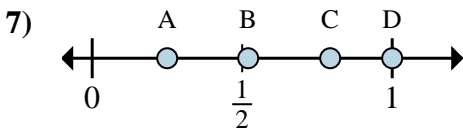
- a. Quelle lettre représente le mieux $\frac{1}{8}$
 b. Quelle lettre représente le mieux $\frac{4}{8}$



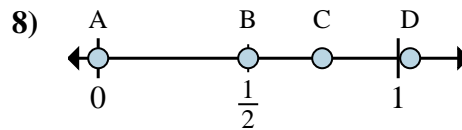
- a. Quelle lettre représente le mieux $\frac{0}{3}$
 b. Quelle lettre représente le mieux $\frac{2}{3}$



- a. Quelle lettre représente le mieux $\frac{2}{4}$
 b. Quelle lettre représente le mieux $\frac{3}{4}$



- a. Quelle lettre représente le mieux $\frac{1}{4}$
 b. Quelle lettre représente le mieux $\frac{4}{4}$



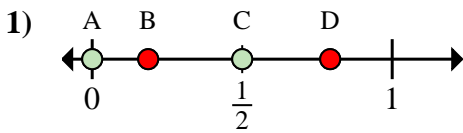
- a. Quelle lettre représente le mieux $\frac{0}{2}$
 b. Quelle lettre représente le mieux $\frac{1}{2}$

1. _____
 2. _____
 3. _____
 4. _____
 5. _____
 6. _____
 7. _____
 8. _____

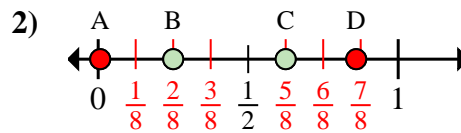


Déterminez quelle lettre représente la situation de la fraction sur la droite numérique.

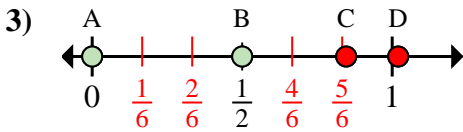
Réponses



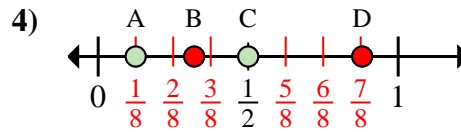
- a. Quelle lettre représente le mieux $\frac{0}{2}$
 b. Quelle lettre représente le mieux $\frac{1}{2}$



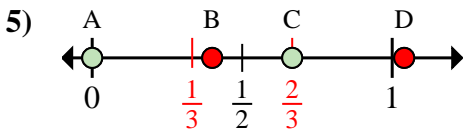
- a. Quelle lettre représente le mieux $\frac{2}{8}$
 b. Quelle lettre représente le mieux $\frac{5}{8}$



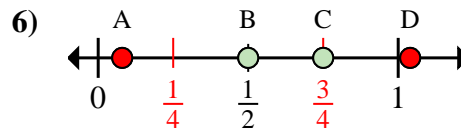
- a. Quelle lettre représente le mieux $\frac{0}{6}$
 b. Quelle lettre représente le mieux $\frac{3}{6}$



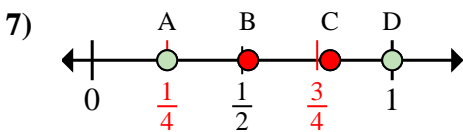
- a. Quelle lettre représente le mieux $\frac{1}{8}$
 b. Quelle lettre représente le mieux $\frac{4}{8}$



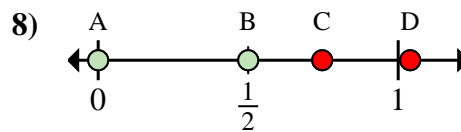
- a. Quelle lettre représente le mieux $\frac{0}{3}$
 b. Quelle lettre représente le mieux $\frac{2}{3}$



- a. Quelle lettre représente le mieux $\frac{2}{4}$
 b. Quelle lettre représente le mieux $\frac{3}{4}$



- a. Quelle lettre représente le mieux $\frac{1}{4}$
 b. Quelle lettre représente le mieux $\frac{4}{4}$



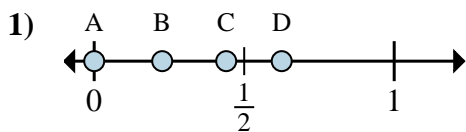
- a. Quelle lettre représente le mieux $\frac{0}{2}$
 b. Quelle lettre représente le mieux $\frac{1}{2}$

1. A C
 2. B C
 3. A B
 4. A C
 5. A C
 6. B C
 7. A D
 8. A B

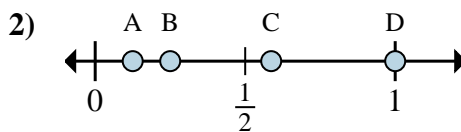


Déterminez quelle lettre représente la situation de la fraction sur la droite numérique.

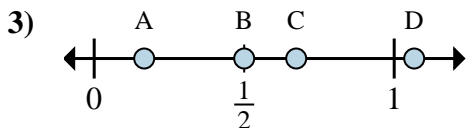
Réponses



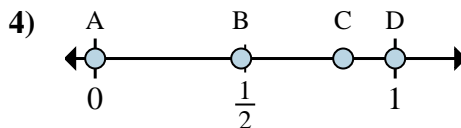
- a. Quelle lettre représente le mieux $\frac{0}{8}$
- b. Quelle lettre représente le mieux $\frac{5}{8}$



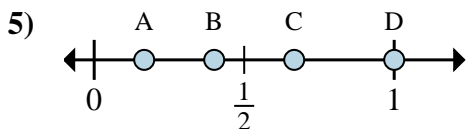
- a. Quelle lettre représente le mieux $\frac{1}{8}$
- b. Quelle lettre représente le mieux $\frac{2}{8}$



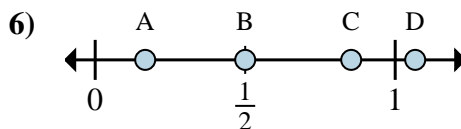
- a. Quelle lettre représente le mieux $\frac{1}{6}$
- b. Quelle lettre représente le mieux $\frac{3}{6}$



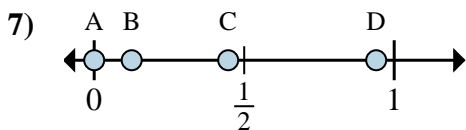
- a. Quelle lettre représente le mieux $\frac{0}{2}$
- b. Quelle lettre représente le mieux $\frac{2}{2}$



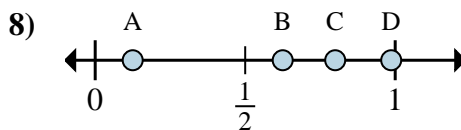
- a. Quelle lettre représente le mieux $\frac{3}{3}$
- b. Quelle lettre représente le mieux $\frac{2}{3}$



- a. Quelle lettre représente le mieux $\frac{3}{6}$
- b. Quelle lettre représente le mieux $\frac{1}{6}$



- a. Quelle lettre représente le mieux $\frac{0}{8}$
- b. Quelle lettre représente le mieux $\frac{1}{8}$



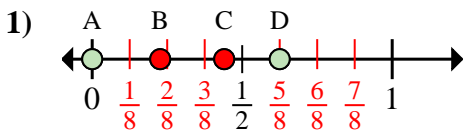
- a. Quelle lettre représente le mieux $\frac{5}{8}$
- b. Quelle lettre représente le mieux $\frac{1}{8}$

- 1. _____
- 2. _____
- 3. _____
- 4. _____
- 5. _____
- 6. _____
- 7. _____
- 8. _____

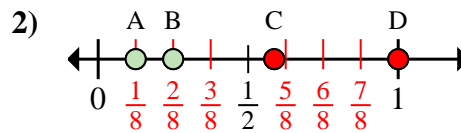


Déterminez quelle lettre représente la situation de la fraction sur la droite numérique.

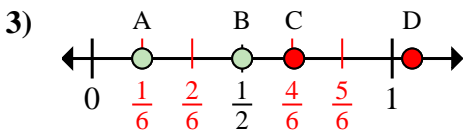
Réponses



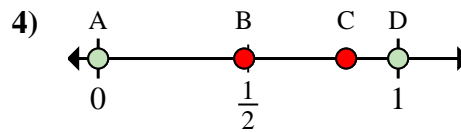
- a. Quelle lettre représente le mieux $\frac{0}{8}$
 b. Quelle lettre représente le mieux $\frac{5}{8}$



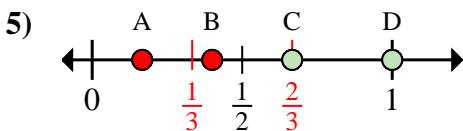
- a. Quelle lettre représente le mieux $\frac{1}{8}$
 b. Quelle lettre représente le mieux $\frac{2}{8}$



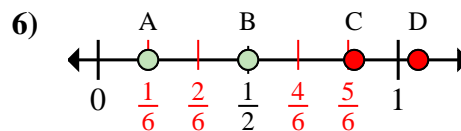
- a. Quelle lettre représente le mieux $\frac{1}{6}$
 b. Quelle lettre représente le mieux $\frac{3}{6}$



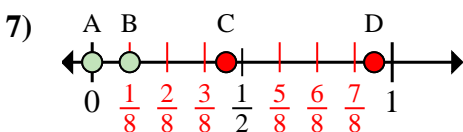
- a. Quelle lettre représente le mieux $\frac{0}{2}$
 b. Quelle lettre représente le mieux $\frac{2}{2}$



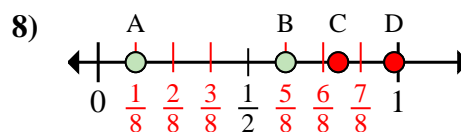
- a. Quelle lettre représente le mieux $\frac{3}{3}$
 b. Quelle lettre représente le mieux $\frac{2}{3}$



- a. Quelle lettre représente le mieux $\frac{3}{6}$
 b. Quelle lettre représente le mieux $\frac{1}{6}$



- a. Quelle lettre représente le mieux $\frac{0}{8}$
 b. Quelle lettre représente le mieux $\frac{1}{8}$



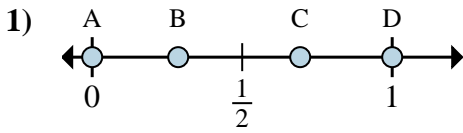
- a. Quelle lettre représente le mieux $\frac{5}{8}$
 b. Quelle lettre représente le mieux $\frac{1}{8}$

1. A D
 2. A B
 3. A B
 4. A D
 5. D C
 6. B A
 7. A B
 8. B A

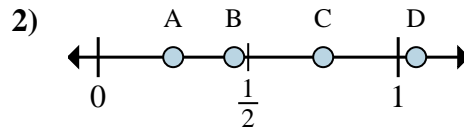


Déterminez quelle lettre représente la situation de la fraction sur la droite numérique.

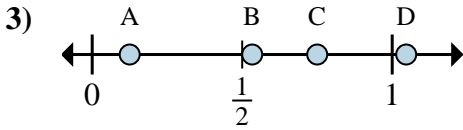
Réponses



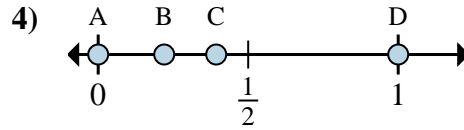
- a. Quelle lettre représente le mieux $\frac{0}{2}$
 b. Quelle lettre représente le mieux $\frac{2}{2}$



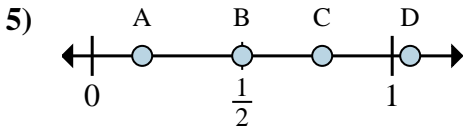
- a. Quelle lettre représente le mieux $\frac{1}{4}$
 b. Quelle lettre représente le mieux $\frac{3}{4}$



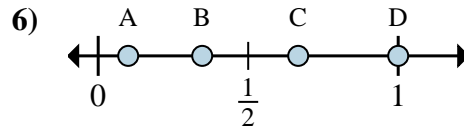
- a. Quelle lettre représente le mieux $\frac{6}{8}$
 b. Quelle lettre représente le mieux $\frac{1}{8}$



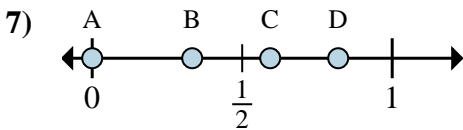
- a. Quelle lettre représente le mieux $\frac{0}{2}$
 b. Quelle lettre représente le mieux $\frac{2}{2}$



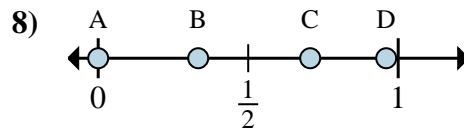
- a. Quelle lettre représente le mieux $\frac{3}{6}$
 b. Quelle lettre représente le mieux $\frac{1}{6}$



- a. Quelle lettre représente le mieux $\frac{2}{3}$
 b. Quelle lettre représente le mieux $\frac{3}{3}$



- a. Quelle lettre représente le mieux $\frac{0}{3}$
 b. Quelle lettre représente le mieux $\frac{1}{3}$



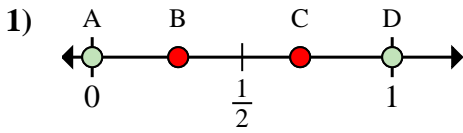
- a. Quelle lettre représente le mieux $\frac{0}{6}$
 b. Quelle lettre représente le mieux $\frac{2}{6}$

1. _____
 2. _____
 3. _____
 4. _____
 5. _____
 6. _____
 7. _____
 8. _____

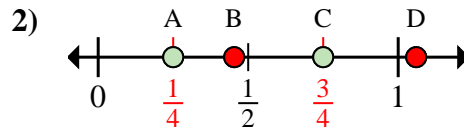


Déterminez quelle lettre représente la situation de la fraction sur la droite numérique.

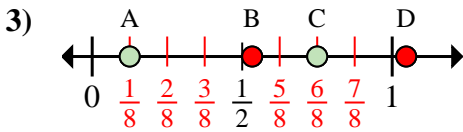
Réponses



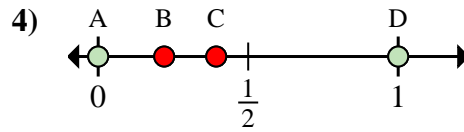
- a. Quelle lettre représente le mieux $\frac{0}{2}$
 b. Quelle lettre représente le mieux $\frac{2}{2}$



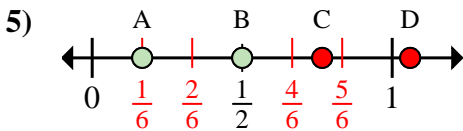
- a. Quelle lettre représente le mieux $\frac{1}{4}$
 b. Quelle lettre représente le mieux $\frac{3}{4}$



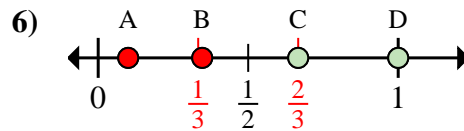
- a. Quelle lettre représente le mieux $\frac{6}{8}$
 b. Quelle lettre représente le mieux $\frac{1}{8}$



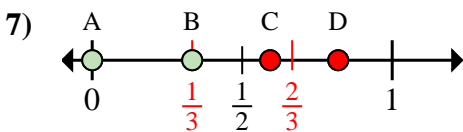
- a. Quelle lettre représente le mieux $\frac{0}{2}$
 b. Quelle lettre représente le mieux $\frac{2}{2}$



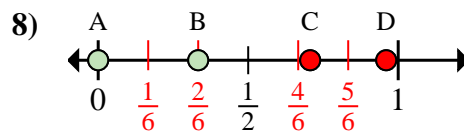
- a. Quelle lettre représente le mieux $\frac{3}{6}$
 b. Quelle lettre représente le mieux $\frac{1}{6}$



- a. Quelle lettre représente le mieux $\frac{2}{3}$
 b. Quelle lettre représente le mieux $\frac{3}{3}$



- a. Quelle lettre représente le mieux $\frac{0}{3}$
 b. Quelle lettre représente le mieux $\frac{1}{3}$



- a. Quelle lettre représente le mieux $\frac{0}{6}$
 b. Quelle lettre représente le mieux $\frac{2}{6}$

1. A D
 2. A C
 3. C A
 4. A D
 5. B A
 6. C D
 7. A B
 8. A B