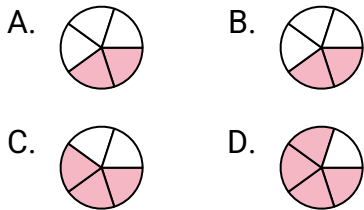




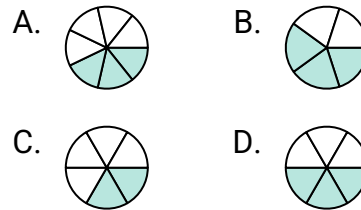
Quelle proposition permet de répondre à chaque question.

Réponses

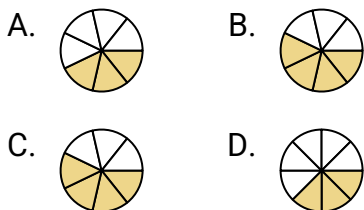
1) Quelle forme ci-dessous est coloriée pour représenter  $\frac{3}{5}$  ?



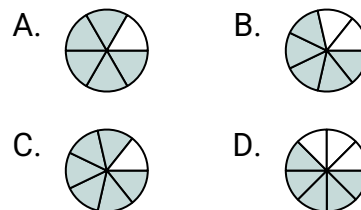
2) Quelle forme ci-dessous est coloriée pour représenter  $\frac{3}{6}$  ?



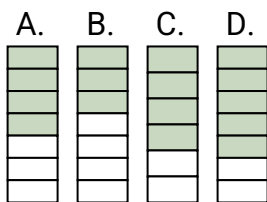
3) Quelle forme ci-dessous est coloriée pour représenter  $\frac{3}{7}$  ?



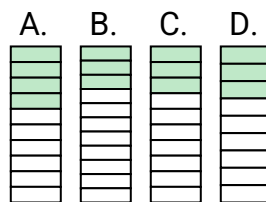
4) Quelle forme ci-dessous est coloriée pour représenter  $\frac{5}{7}$  ?



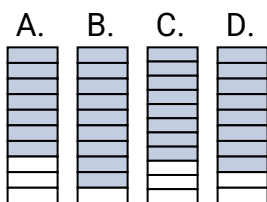
5) Quelle forme ci-dessous est coloriée pour représenter  $\frac{4}{7}$  ?



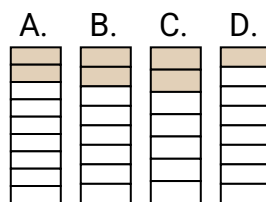
6) Quelle forme ci-dessous est coloriée pour représenter  $\frac{3}{10}$  ?



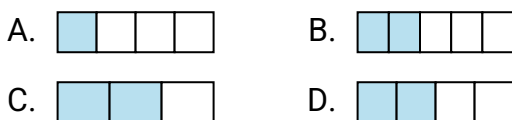
7) Quelle forme ci-dessous est coloriée pour représenter  $\frac{8}{10}$  ?



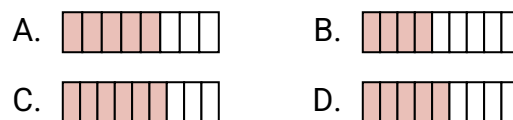
8) Quelle forme ci-dessous est coloriée pour représenter  $\frac{2}{8}$  ?



9) Quelle forme ci-dessous est coloriée pour représenter  $\frac{2}{4}$  ?



10) Quelle forme ci-dessous est coloriée pour représenter  $\frac{5}{9}$  ?

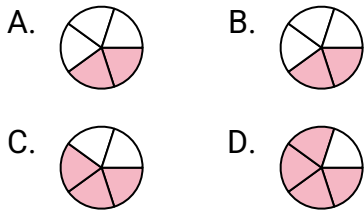
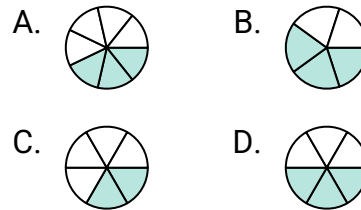
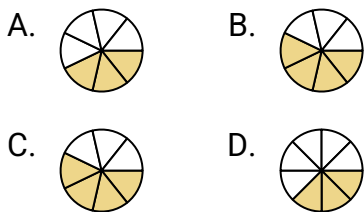
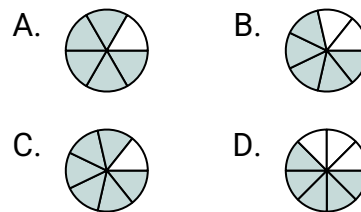
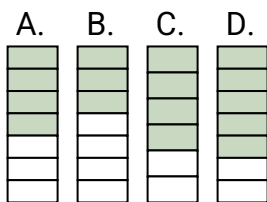
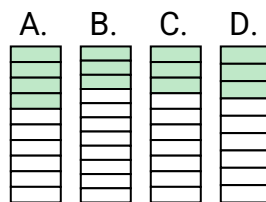
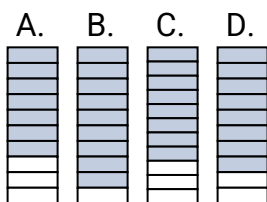
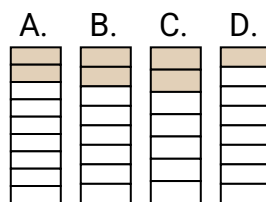
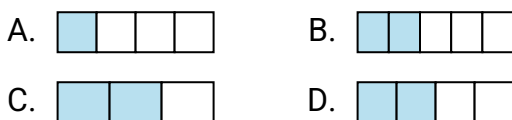
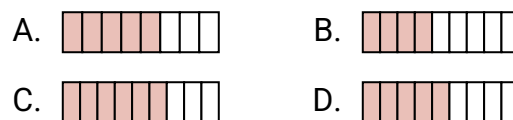


1. \_\_\_\_\_
2. \_\_\_\_\_
3. \_\_\_\_\_
4. \_\_\_\_\_
5. \_\_\_\_\_
6. \_\_\_\_\_
7. \_\_\_\_\_
8. \_\_\_\_\_
9. \_\_\_\_\_
10. \_\_\_\_\_



Quelle proposition permet de répondre à chaque question.

Réponses

1) Quelle forme ci-dessous est coloriée pour représenter  $\frac{3}{5}$  ?2) Quelle forme ci-dessous est coloriée pour représenter  $\frac{3}{6}$  ?3) Quelle forme ci-dessous est coloriée pour représenter  $\frac{3}{7}$  ?4) Quelle forme ci-dessous est coloriée pour représenter  $\frac{5}{7}$  ?5) Quelle forme ci-dessous est coloriée pour représenter  $\frac{4}{7}$  ?6) Quelle forme ci-dessous est coloriée pour représenter  $\frac{3}{10}$  ?7) Quelle forme ci-dessous est coloriée pour représenter  $\frac{8}{10}$  ?8) Quelle forme ci-dessous est coloriée pour représenter  $\frac{2}{8}$  ?9) Quelle forme ci-dessous est coloriée pour représenter  $\frac{2}{4}$  ?10) Quelle forme ci-dessous est coloriée pour représenter  $\frac{5}{9}$  ?

1. **C**
2. **D**
3. **A**
4. **B**
5. **A**
6. **C**
7. **D**
8. **B**
9. **D**
10. **D**