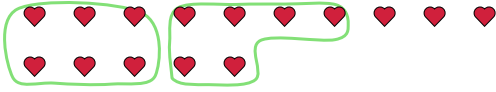




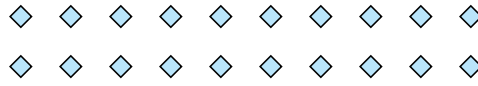
Utilisez les formes pour répondre aux questions.

**Réponses**

Ex) Il y a 15 formes ci-dessous. Combien de groupes de 6 pouvez-vous faire? Combien en restera-t-il?



1) Il y a 20 formes ci-dessous. Combien de groupes de 8 pouvez-vous faire? Combien en restera-t-il?



Ex.   2     3  

1. \_\_\_\_\_

2. \_\_\_\_\_

3. \_\_\_\_\_

4. \_\_\_\_\_

5. \_\_\_\_\_

6. \_\_\_\_\_

7. \_\_\_\_\_

8. \_\_\_\_\_

9. \_\_\_\_\_

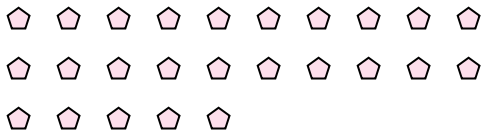
2) Il y a 10 formes ci-dessous. Combien de groupes de 6 pouvez-vous faire? Combien en restera-t-il?



3) Il y a 13 formes ci-dessous. Combien de groupes de 5 pouvez-vous faire? Combien en restera-t-il?



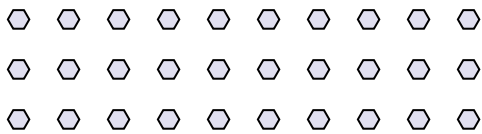
4) Il y a 25 formes ci-dessous. Combien de groupes de 5 pouvez-vous faire? Combien en restera-t-il?



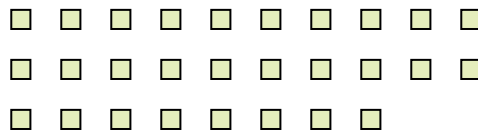
5) Il y a 13 formes ci-dessous. Combien de groupes de 3 pouvez-vous faire? Combien en restera-t-il?




6) Il y a 30 formes ci-dessous. Combien de groupes de 4 pouvez-vous faire? Combien en restera-t-il?



7) Il y a 28 formes ci-dessous. Combien de groupes de 2 pouvez-vous faire? Combien en restera-t-il?



8) Il y a 26 formes ci-dessous. Combien de groupes de 6 pouvez-vous faire? Combien en restera-t-il?



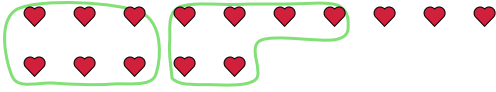
9) Il y a 20 formes ci-dessous. Combien de groupes de 7 pouvez-vous faire? Combien en restera-t-il?



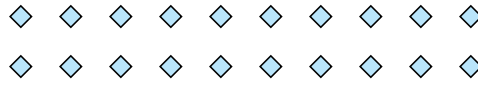


Utilisez les formes pour répondre aux questions.


Ex) Il y a 15 formes ci-dessous. Combien de groupes de 6 pouvez-vous faire? Combien en restera-t-il?



1) Il y a 20 formes ci-dessous. Combien de groupes de 8 pouvez-vous faire? Combien en restera-t-il?



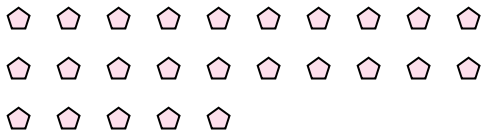
2) Il y a 10 formes ci-dessous. Combien de groupes de 6 pouvez-vous faire? Combien en restera-t-il?



3) Il y a 13 formes ci-dessous. Combien de groupes de 5 pouvez-vous faire? Combien en restera-t-il?



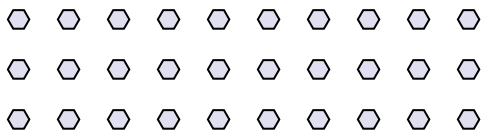
4) Il y a 25 formes ci-dessous. Combien de groupes de 5 pouvez-vous faire? Combien en restera-t-il?



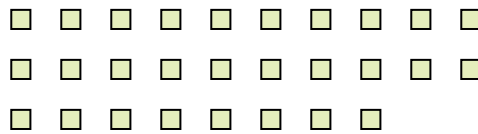
5) Il y a 13 formes ci-dessous. Combien de groupes de 3 pouvez-vous faire? Combien en restera-t-il?




6) Il y a 30 formes ci-dessous. Combien de groupes de 4 pouvez-vous faire? Combien en restera-t-il?



7) Il y a 28 formes ci-dessous. Combien de groupes de 2 pouvez-vous faire? Combien en restera-t-il?



8) Il y a 26 formes ci-dessous. Combien de groupes de 6 pouvez-vous faire? Combien en restera-t-il?



9) Il y a 20 formes ci-dessous. Combien de groupes de 7 pouvez-vous faire? Combien en restera-t-il?



**Réponses**

Ex.	<u>2</u>	<u>3</u>
1.	<u>2</u>	<u>4</u>
2.	<u>1</u>	<u>4</u>
3.	<u>2</u>	<u>3</u>
4.	<u>5</u>	<u>0</u>
5.	<u>4</u>	<u>1</u>
6.	<u>7</u>	<u>2</u>
7.	<u>14</u>	<u>0</u>
8.	<u>4</u>	<u>2</u>
9.	<u>2</u>	<u>6</u>