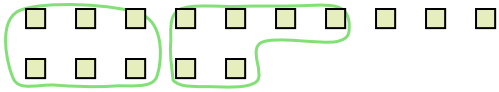





Utilisez les formes pour répondre aux questions.

**Réponses**

Ex) Il y a 15 formes ci-dessous. Combien de groupes de 6 pouvez-vous faire? Combien en restera-t-il?



1) Il y a 18 formes ci-dessous. Combien de groupes de 3 pouvez-vous faire? Combien en restera-t-il?



Ex. 2 3

1. \_\_\_\_\_

2. \_\_\_\_\_

3. \_\_\_\_\_

4. \_\_\_\_\_

5. \_\_\_\_\_


6. \_\_\_\_\_

7. \_\_\_\_\_

8. \_\_\_\_\_

9. \_\_\_\_\_

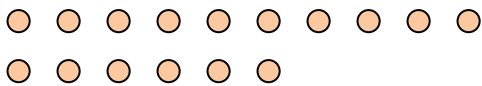
2) Il y a 27 formes ci-dessous. Combien de groupes de 4 pouvez-vous faire? Combien en restera-t-il?



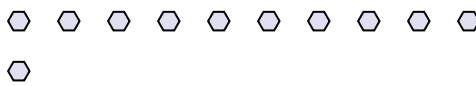
3) Il y a 11 formes ci-dessous. Combien de groupes de 2 pouvez-vous faire? Combien en restera-t-il?



4) Il y a 16 formes ci-dessous. Combien de groupes de 4 pouvez-vous faire? Combien en restera-t-il?



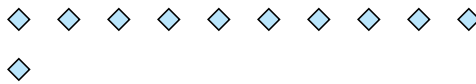
5) Il y a 11 formes ci-dessous. Combien de groupes de 9 pouvez-vous faire? Combien en restera-t-il?




6) Il y a 16 formes ci-dessous. Combien de groupes de 6 pouvez-vous faire? Combien en restera-t-il?



7) Il y a 11 formes ci-dessous. Combien de groupes de 3 pouvez-vous faire? Combien en restera-t-il?



8) Il y a 30 formes ci-dessous. Combien de groupes de 6 pouvez-vous faire? Combien en restera-t-il?



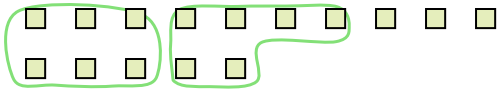
9) Il y a 20 formes ci-dessous. Combien de groupes de 4 pouvez-vous faire? Combien en restera-t-il?






Utilisez les formes pour répondre aux questions.


Ex) Il y a 15 formes ci-dessous. Combien de groupes de 6 pouvez-vous faire? Combien en restera-t-il?



1) Il y a 18 formes ci-dessous. Combien de groupes de 3 pouvez-vous faire? Combien en restera-t-il?



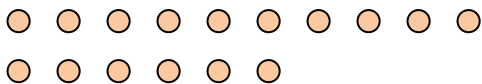
2) Il y a 27 formes ci-dessous. Combien de groupes de 4 pouvez-vous faire? Combien en restera-t-il?



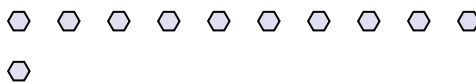
3) Il y a 11 formes ci-dessous. Combien de groupes de 2 pouvez-vous faire? Combien en restera-t-il?



4) Il y a 16 formes ci-dessous. Combien de groupes de 4 pouvez-vous faire? Combien en restera-t-il?



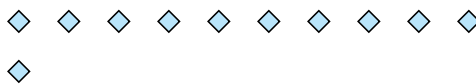
5) Il y a 11 formes ci-dessous. Combien de groupes de 9 pouvez-vous faire? Combien en restera-t-il?




6) Il y a 16 formes ci-dessous. Combien de groupes de 6 pouvez-vous faire? Combien en restera-t-il?



7) Il y a 11 formes ci-dessous. Combien de groupes de 3 pouvez-vous faire? Combien en restera-t-il?



8) Il y a 30 formes ci-dessous. Combien de groupes de 6 pouvez-vous faire? Combien en restera-t-il?



9) Il y a 20 formes ci-dessous. Combien de groupes de 4 pouvez-vous faire? Combien en restera-t-il?



**Réponses**

Ex.	<u>  2  </u>	<u>  3  </u>
1.	<u>  6  </u>	<u>  0  </u>
2.	<u>  6  </u>	<u>  3  </u>
3.	<u>  5  </u>	<u>  1  </u>
4.	<u>  4  </u>	<u>  0  </u>
5.	<u>  1  </u>	<u>  2  </u>
6.	<u>  2  </u>	<u>  4  </u>
7.	<u>  3  </u>	<u>  2  </u>
8.	<u>  5  </u>	<u>  0  </u>
9.	<u>  5  </u>	<u>  0  </u>