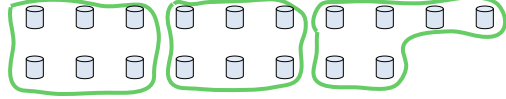




Utilisez les formes pour répondre aux questions.

Réponses

Ex) Combien de groupes de 6 pouvez-vous faire avec les 18 formes ci-dessous?

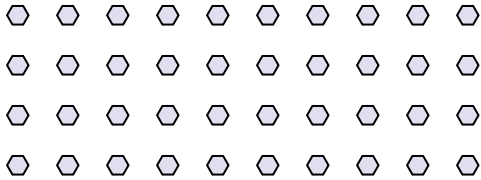


1) Combien de groupes de 7 pouvez-vous faire avec les 14 formes ci-dessous?

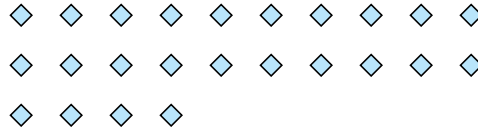


Ex. 3

2) Combien de groupes de 8 pouvez-vous faire avec les 40 formes ci-dessous?



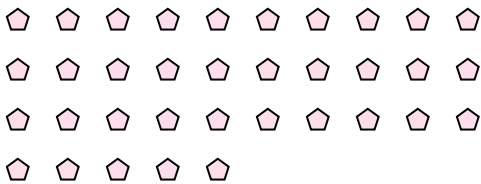
3) Combien de groupes de 4 pouvez-vous faire avec les 24 formes ci-dessous?



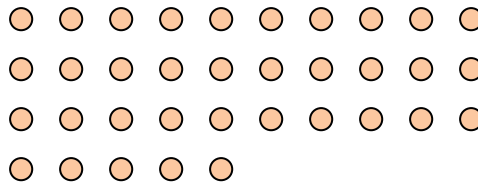
1. 2

2. 5

4) Combien de groupes de 5 pouvez-vous faire avec les 35 formes ci-dessous?



5) Combien de groupes de 7 pouvez-vous faire avec les 35 formes ci-dessous?



3. 6

4. 7

5. 5

6) Combien de groupes de 9 pouvez-vous faire avec les 27 formes ci-dessous?



7) Combien de groupes de 7 pouvez-vous faire avec les 14 formes ci-dessous?




6. 3

7. 2


8. 4

9. 4

8) Combien de groupes de 9 pouvez-vous faire avec les 36 formes ci-dessous?



9) Combien de groupes de 9 pouvez-vous faire avec les 36 formes ci-dessous?



10. 3

11. 2

10) Combien de groupes de 4 pouvez-vous faire avec les 12 formes ci-dessous?



11) Combien de groupes de 8 pouvez-vous faire avec les 16 formes ci-dessous?

