

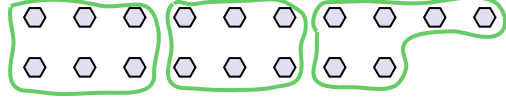




Utilisez les formes pour répondre aux questions.

**Réponses**

Ex) Combien de groupes de 6 pouvez-vous faire avec les 18 formes ci-dessous?




1) Combien de groupes de 3 pouvez-vous faire avec les 27 formes ci-dessous?

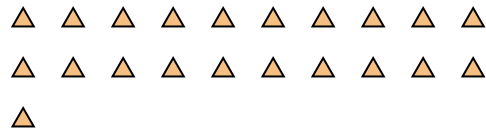


Ex. 3

2) Combien de groupes de 3 pouvez-vous faire avec les 33 formes ci-dessous?



3) Combien de groupes de 7 pouvez-vous faire avec les 21 formes ci-dessous?



1. 9

2. 11


3. 3

4. 2

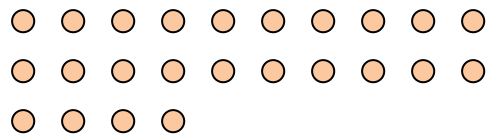
5. 3

6. 10

4) Combien de groupes de 7 pouvez-vous faire avec les 14 formes ci-dessous?



5) Combien de groupes de 8 pouvez-vous faire avec les 24 formes ci-dessous?

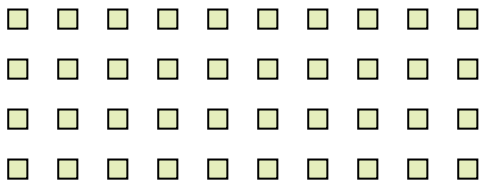


7. 4


8. 4

9. 4

6) Combien de groupes de 4 pouvez-vous faire avec les 40 formes ci-dessous?



7) Combien de groupes de 8 pouvez-vous faire avec les 32 formes ci-dessous?



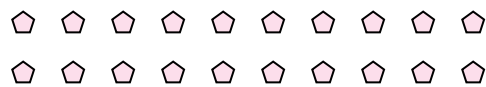
10. 3

11. 3

8) Combien de groupes de 7 pouvez-vous faire avec les 28 formes ci-dessous?



9) Combien de groupes de 5 pouvez-vous faire avec les 20 formes ci-dessous?



10) Combien de groupes de 4 pouvez-vous faire avec les 12 formes ci-dessous?



11) Combien de groupes de 7 pouvez-vous faire avec les 21 formes ci-dessous?



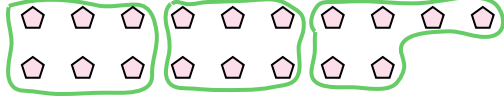




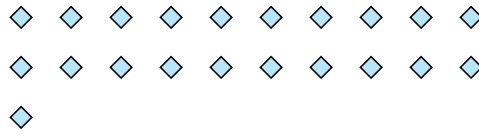
Utilisez les formes pour répondre aux questions.

**Réponses**

Ex) Combien de groupes de 6 pouvez-vous faire avec les 18 formes ci-dessous?



1) Combien de groupes de 7 pouvez-vous faire avec les 21 formes ci-dessous?

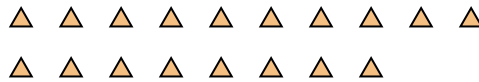


Ex. 3

2) Combien de groupes de 3 pouvez-vous faire avec les 6 formes ci-dessous?



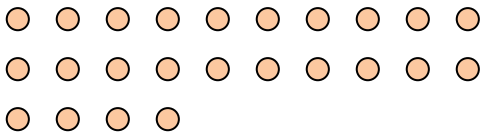
3) Combien de groupes de 6 pouvez-vous faire avec les 18 formes ci-dessous?



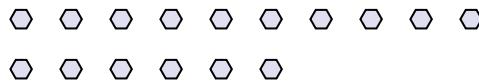
1. 3

2. 2

4) Combien de groupes de 8 pouvez-vous faire avec les 24 formes ci-dessous?



5) Combien de groupes de 8 pouvez-vous faire avec les 16 formes ci-dessous?




3. 3


4. 3

5. 2

6) Combien de groupes de 4 pouvez-vous faire avec les 16 formes ci-dessous?



7) Combien de groupes de 7 pouvez-vous faire avec les 35 formes ci-dessous?



6. 4

7. 5

8. 5

8) Combien de groupes de 3 pouvez-vous faire avec les 15 formes ci-dessous?



9) Combien de groupes de 2 pouvez-vous faire avec les 18 formes ci-dessous?



9. 9

10. 2

11. 2

10) Combien de groupes de 4 pouvez-vous faire avec les 8 formes ci-dessous?



11) Combien de groupes de 7 pouvez-vous faire avec les 14 formes ci-dessous?

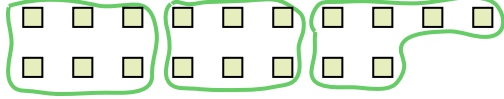





Utilisez les formes pour répondre aux questions.

**Réponses**

Ex) Combien de groupes de 6 pouvez-vous faire avec les 18 formes ci-dessous?



1) Combien de groupes de 3 pouvez-vous faire avec les 30 formes ci-dessous?




Ex. 3


1. \_\_\_\_\_

2. \_\_\_\_\_

2) Combien de groupes de 4 pouvez-vous faire avec les 28 formes ci-dessous?



3) Combien de groupes de 2 pouvez-vous faire avec les 40 formes ci-dessous?

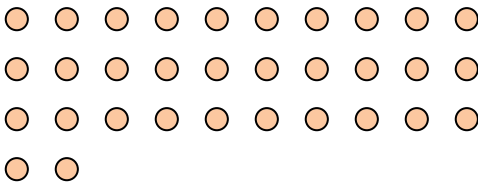


3. \_\_\_\_\_

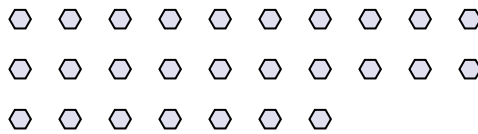
4. \_\_\_\_\_

5. \_\_\_\_\_

4) Combien de groupes de 4 pouvez-vous faire avec les 32 formes ci-dessous?



5) Combien de groupes de 9 pouvez-vous faire avec les 27 formes ci-dessous?



6. \_\_\_\_\_


7. \_\_\_\_\_

8. \_\_\_\_\_

6) Combien de groupes de 6 pouvez-vous faire avec les 36 formes ci-dessous?



7) Combien de groupes de 3 pouvez-vous faire avec les 36 formes ci-dessous?




9. \_\_\_\_\_

10. \_\_\_\_\_

11. \_\_\_\_\_

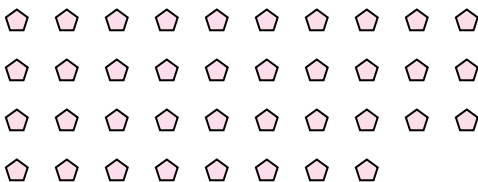
8) Combien de groupes de 6 pouvez-vous faire avec les 36 formes ci-dessous?



9) Combien de groupes de 4 pouvez-vous faire avec les 36 formes ci-dessous?



10) Combien de groupes de 2 pouvez-vous faire avec les 38 formes ci-dessous?



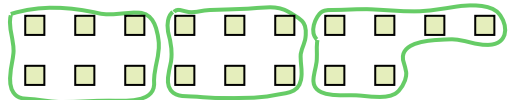
11) Combien de groupes de 7 pouvez-vous faire avec les 14 formes ci-dessous?






Utilisez les formes pour répondre aux questions.

Ex) Combien de groupes de 6 pouvez-vous faire avec les 18 formes ci-dessous?



1) Combien de groupes de 3 pouvez-vous faire avec les 30 formes ci-dessous?




Ex. 3

2) Combien de groupes de 4 pouvez-vous faire avec les 28 formes ci-dessous?

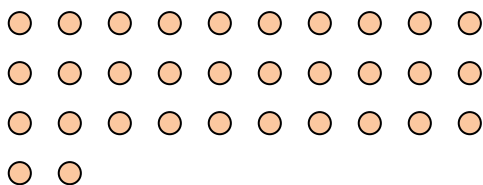


3) Combien de groupes de 2 pouvez-vous faire avec les 40 formes ci-dessous?

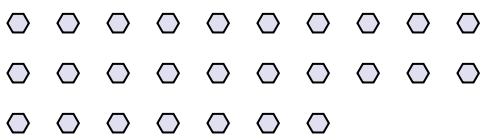


1. 10

4) Combien de groupes de 4 pouvez-vous faire avec les 32 formes ci-dessous?



5) Combien de groupes de 9 pouvez-vous faire avec les 27 formes ci-dessous?




2. 7

6) Combien de groupes de 6 pouvez-vous faire avec les 36 formes ci-dessous?




7) Combien de groupes de 3 pouvez-vous faire avec les 36 formes ci-dessous?

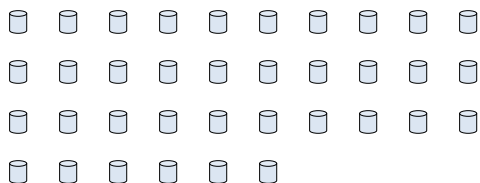


3. 20

8) Combien de groupes de 6 pouvez-vous faire avec les 36 formes ci-dessous?




9) Combien de groupes de 4 pouvez-vous faire avec les 36 formes ci-dessous?



4. 8

10) Combien de groupes de 2 pouvez-vous faire avec les 38 formes ci-dessous?



11) Combien de groupes de 7 pouvez-vous faire avec les 14 formes ci-dessous?



5. 3

6. 6

7. 12

8. 6

9. 9

10. 19

11. 2

**Réponses**












Utilisez les formes pour répondre aux questions.

**Réponses**

Ex) Combien de groupes de 6 pouvez-vous faire avec les 18 formes ci-dessous?




1) Combien de groupes de 5 pouvez-vous faire avec les 40 formes ci-dessous?



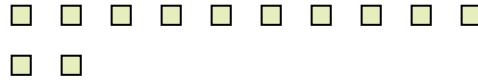
Ex. 3

2) Combien de groupes de 7 pouvez-vous faire avec les 21 formes ci-dessous?




1. 8

3) Combien de groupes de 6 pouvez-vous faire avec les 12 formes ci-dessous?



2. 3

4) Combien de groupes de 3 pouvez-vous faire avec les 24 formes ci-dessous?



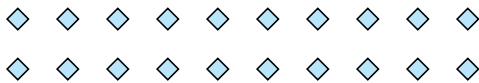
3. 2

5) Combien de groupes de 2 pouvez-vous faire avec les 4 formes ci-dessous?



4. 8

6) Combien de groupes de 5 pouvez-vous faire avec les 20 formes ci-dessous?




5. 2

7) Combien de groupes de 9 pouvez-vous faire avec les 18 formes ci-dessous?



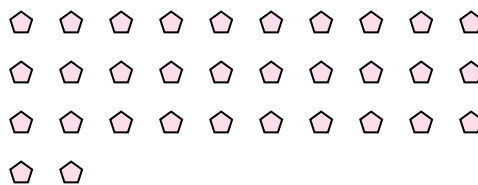
6. 4

8) Combien de groupes de 9 pouvez-vous faire avec les 36 formes ci-dessous?



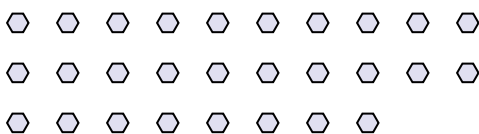
7. 2

9) Combien de groupes de 2 pouvez-vous faire avec les 32 formes ci-dessous?



8. 4

10) Combien de groupes de 2 pouvez-vous faire avec les 28 formes ci-dessous?



9. 16

11) Combien de groupes de 8 pouvez-vous faire avec les 24 formes ci-dessous?



10. 14


11. 3





Utilisez les formes pour répondre aux questions.

Ex) Combien de groupes de 6 pouvez-vous faire avec les 18 formes ci-dessous?

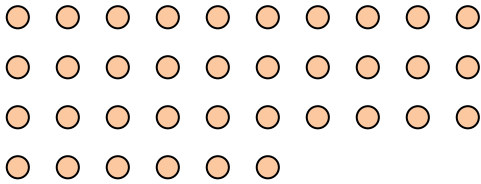


1) Combien de groupes de 2 pouvez-vous faire avec les 26 formes ci-dessous?




Ex. 3

2) Combien de groupes de 9 pouvez-vous faire avec les 36 formes ci-dessous?

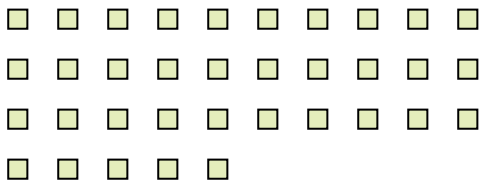


3) Combien de groupes de 3 pouvez-vous faire avec les 24 formes ci-dessous?

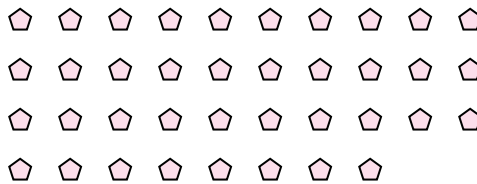


1. 13

4) Combien de groupes de 7 pouvez-vous faire avec les 35 formes ci-dessous?

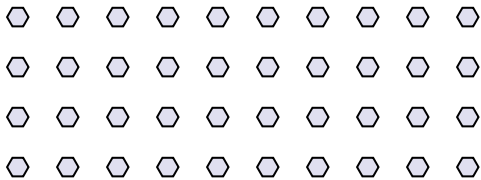


5) Combien de groupes de 2 pouvez-vous faire avec les 38 formes ci-dessous?

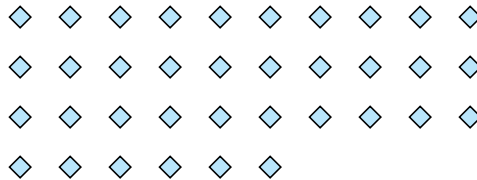


2. 4

6) Combien de groupes de 8 pouvez-vous faire avec les 40 formes ci-dessous?



7) Combien de groupes de 9 pouvez-vous faire avec les 36 formes ci-dessous?



3. 8

8) Combien de groupes de 4 pouvez-vous faire avec les 40 formes ci-dessous?



9) Combien de groupes de 7 pouvez-vous faire avec les 35 formes ci-dessous?




4. 5

10) Combien de groupes de 5 pouvez-vous faire avec les 10 formes ci-dessous?



11) Combien de groupes de 9 pouvez-vous faire avec les 27 formes ci-dessous?



5. 19

6. 5

7. 4

8. 10

9. 5

10. 2

11. 3

**Réponses**



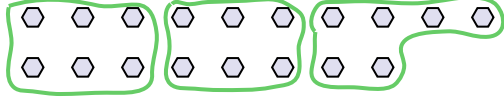




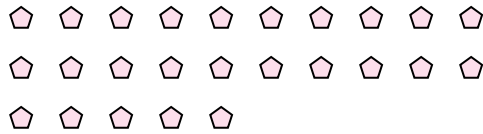
Utilisez les formes pour répondre aux questions.

**Réponses**

Ex) Combien de groupes de 6 pouvez-vous faire avec les 18 formes ci-dessous?



1) Combien de groupes de 5 pouvez-vous faire avec les 25 formes ci-dessous?



Ex. 3

1. \_\_\_\_\_

2. \_\_\_\_\_

3. \_\_\_\_\_

4. \_\_\_\_\_

5. \_\_\_\_\_

6. \_\_\_\_\_

7. \_\_\_\_\_

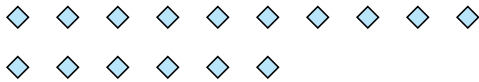
8. \_\_\_\_\_

9. \_\_\_\_\_

10. \_\_\_\_\_

11. \_\_\_\_\_


2) Combien de groupes de 4 pouvez-vous faire avec les 16 formes ci-dessous?




3) Combien de groupes de 2 pouvez-vous faire avec les 14 formes ci-dessous?



4) Combien de groupes de 4 pouvez-vous faire avec les 28 formes ci-dessous?



5) Combien de groupes de 9 pouvez-vous faire avec les 36 formes ci-dessous?



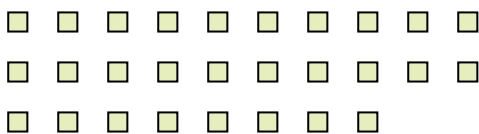
6) Combien de groupes de 9 pouvez-vous faire avec les 27 formes ci-dessous?




7) Combien de groupes de 6 pouvez-vous faire avec les 30 formes ci-dessous?



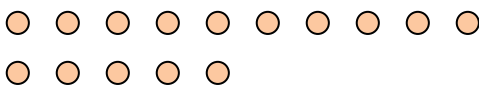
8) Combien de groupes de 2 pouvez-vous faire avec les 28 formes ci-dessous?




9) Combien de groupes de 9 pouvez-vous faire avec les 27 formes ci-dessous?



10) Combien de groupes de 5 pouvez-vous faire avec les 15 formes ci-dessous?



11) Combien de groupes de 4 pouvez-vous faire avec les 36 formes ci-dessous?

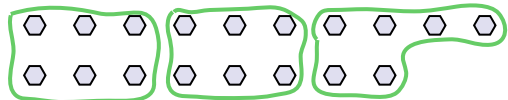




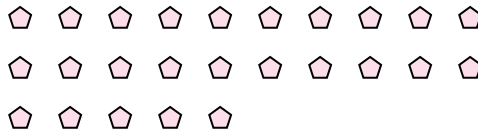
Utilisez les formes pour répondre aux questions.

**Réponses**

Ex) Combien de groupes de 6 pouvez-vous faire avec les 18 formes ci-dessous?



1) Combien de groupes de 5 pouvez-vous faire avec les 25 formes ci-dessous?



Ex. 3

1. 5

2. 4

3. 7

4. 7

5. 4

6. 3

7. 5

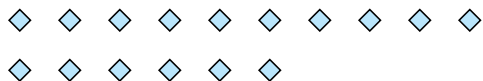
8. 14

9. 3

10. 3

11. 9


2) Combien de groupes de 4 pouvez-vous faire avec les 16 formes ci-dessous?




3) Combien de groupes de 2 pouvez-vous faire avec les 14 formes ci-dessous?



4) Combien de groupes de 4 pouvez-vous faire avec les 28 formes ci-dessous?



5) Combien de groupes de 9 pouvez-vous faire avec les 36 formes ci-dessous?




6) Combien de groupes de 9 pouvez-vous faire avec les 27 formes ci-dessous?




7) Combien de groupes de 6 pouvez-vous faire avec les 30 formes ci-dessous?



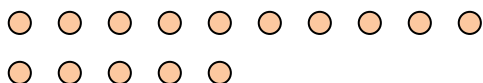
8) Combien de groupes de 2 pouvez-vous faire avec les 28 formes ci-dessous?




9) Combien de groupes de 9 pouvez-vous faire avec les 27 formes ci-dessous?



10) Combien de groupes de 5 pouvez-vous faire avec les 15 formes ci-dessous?



11) Combien de groupes de 4 pouvez-vous faire avec les 36 formes ci-dessous?








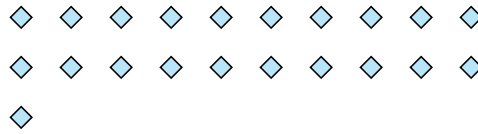
Utilisez les formes pour répondre aux questions.

**Réponses**

Ex) Combien de groupes de 6 pouvez-vous faire avec les 18 formes ci-dessous?



1) Combien de groupes de 7 pouvez-vous faire avec les 21 formes ci-dessous?

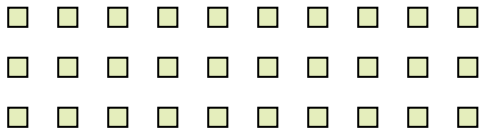


Ex. 3

1. \_\_\_\_\_

2. \_\_\_\_\_

2) Combien de groupes de 6 pouvez-vous faire avec les 30 formes ci-dessous?



3) Combien de groupes de 4 pouvez-vous faire avec les 28 formes ci-dessous?




3. \_\_\_\_\_

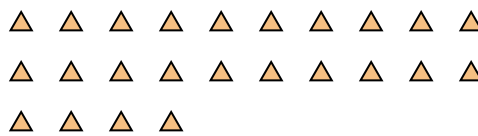
4. \_\_\_\_\_

5. \_\_\_\_\_

4) Combien de groupes de 9 pouvez-vous faire avec les 27 formes ci-dessous?



5) Combien de groupes de 6 pouvez-vous faire avec les 24 formes ci-dessous?



6. \_\_\_\_\_

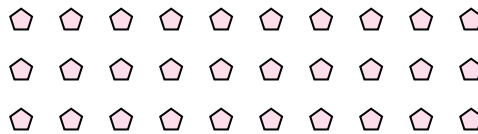
7. \_\_\_\_\_

8. \_\_\_\_\_

6) Combien de groupes de 3 pouvez-vous faire avec les 30 formes ci-dessous?



7) Combien de groupes de 5 pouvez-vous faire avec les 30 formes ci-dessous?



9. \_\_\_\_\_

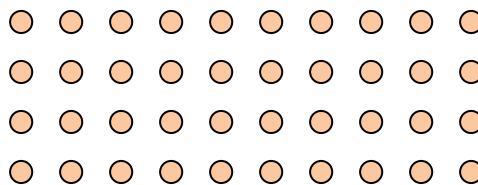
10. \_\_\_\_\_

11. \_\_\_\_\_

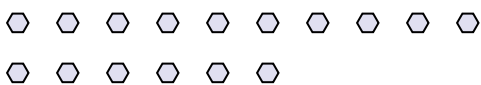
8) Combien de groupes de 7 pouvez-vous faire avec les 14 formes ci-dessous?




9) Combien de groupes de 5 pouvez-vous faire avec les 40 formes ci-dessous?



10) Combien de groupes de 2 pouvez-vous faire avec les 16 formes ci-dessous?




11) Combien de groupes de 5 pouvez-vous faire avec les 30 formes ci-dessous?



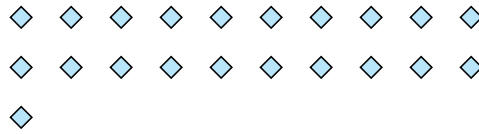


Utilisez les formes pour répondre aux questions.

Ex) Combien de groupes de 6 pouvez-vous faire avec les 18 formes ci-dessous?

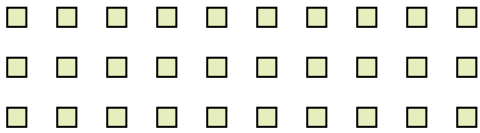


1) Combien de groupes de 7 pouvez-vous faire avec les 21 formes ci-dessous?



Ex. 3

2) Combien de groupes de 6 pouvez-vous faire avec les 30 formes ci-dessous?



3) Combien de groupes de 4 pouvez-vous faire avec les 28 formes ci-dessous?



1. 3


2. 5

3. 7

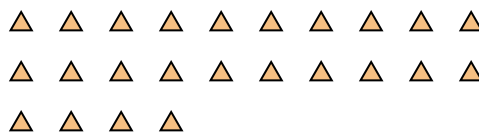
4. 3

5. 4

4) Combien de groupes de 9 pouvez-vous faire avec les 27 formes ci-dessous?



5) Combien de groupes de 6 pouvez-vous faire avec les 24 formes ci-dessous?




6. 10

7. 6

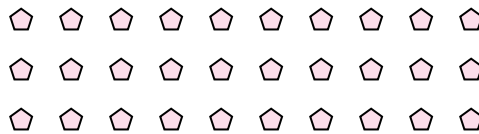
8. 2

9. 8

6) Combien de groupes de 3 pouvez-vous faire avec les 30 formes ci-dessous?



7) Combien de groupes de 5 pouvez-vous faire avec les 30 formes ci-dessous?



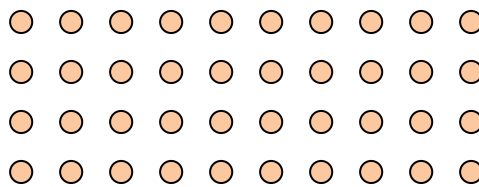
10. 8

11. 6

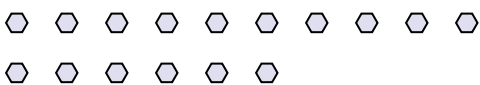
8) Combien de groupes de 7 pouvez-vous faire avec les 14 formes ci-dessous?




9) Combien de groupes de 5 pouvez-vous faire avec les 40 formes ci-dessous?



10) Combien de groupes de 2 pouvez-vous faire avec les 16 formes ci-dessous?



11) Combien de groupes de 5 pouvez-vous faire avec les 30 formes ci-dessous?

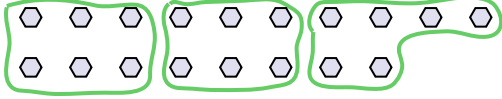






Utilisez les formes pour répondre aux questions.

Ex) Combien de groupes de 6 pouvez-vous faire avec les 18 formes ci-dessous?




1) Combien de groupes de 6 pouvez-vous faire avec les 12 formes ci-dessous?



Ex. 3

2) Combien de groupes de 7 pouvez-vous faire avec les 35 formes ci-dessous?




3) Combien de groupes de 4 pouvez-vous faire avec les 8 formes ci-dessous?

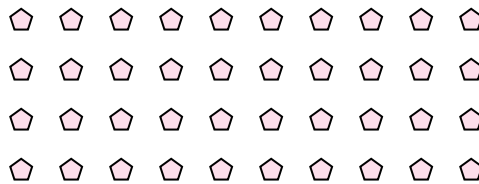


1. 2

4) Combien de groupes de 8 pouvez-vous faire avec les 24 formes ci-dessous?




5) Combien de groupes de 4 pouvez-vous faire avec les 40 formes ci-dessous?



2. 5

6) Combien de groupes de 6 pouvez-vous faire avec les 36 formes ci-dessous?




7) Combien de groupes de 5 pouvez-vous faire avec les 10 formes ci-dessous?

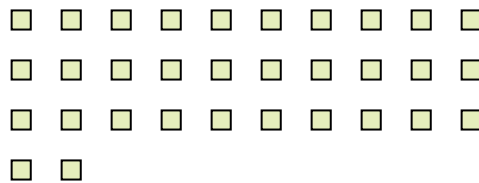


3. 2

8) Combien de groupes de 9 pouvez-vous faire avec les 27 formes ci-dessous?



9) Combien de groupes de 8 pouvez-vous faire avec les 32 formes ci-dessous?

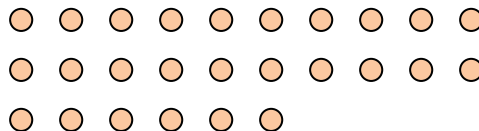


4. 3

10) Combien de groupes de 6 pouvez-vous faire avec les 18 formes ci-dessous?



11) Combien de groupes de 2 pouvez-vous faire avec les 26 formes ci-dessous?



5. 10

6. 6

7. 2

8. 3

9. 4

10. 3

11. 13

**Réponses**