




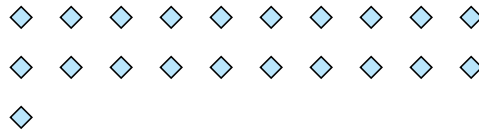
Utilisez les formes pour répondre aux questions.

Réponses

Ex) Combien de groupes de 6 pouvez-vous faire avec les 18 formes ci-dessous?



1) Combien de groupes de 7 pouvez-vous faire avec les 21 formes ci-dessous?



Ex. 3

1. 3

2. 5

3. 7

4. 3

5. 4

6. 10

7. 6

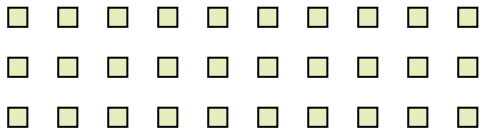
8. 2

9. 8

10. 8

11. 6


2) Combien de groupes de 6 pouvez-vous faire avec les 30 formes ci-dessous?



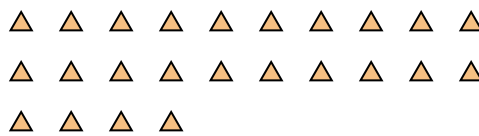
3) Combien de groupes de 4 pouvez-vous faire avec les 28 formes ci-dessous?



4) Combien de groupes de 9 pouvez-vous faire avec les 27 formes ci-dessous?



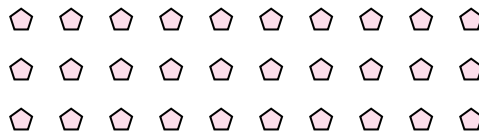
5) Combien de groupes de 6 pouvez-vous faire avec les 24 formes ci-dessous?



6) Combien de groupes de 3 pouvez-vous faire avec les 30 formes ci-dessous?



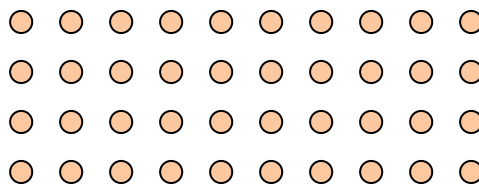
7) Combien de groupes de 5 pouvez-vous faire avec les 30 formes ci-dessous?



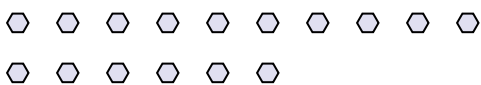
8) Combien de groupes de 7 pouvez-vous faire avec les 14 formes ci-dessous?



9) Combien de groupes de 5 pouvez-vous faire avec les 40 formes ci-dessous?



10) Combien de groupes de 2 pouvez-vous faire avec les 16 formes ci-dessous?



11) Combien de groupes de 5 pouvez-vous faire avec les 30 formes ci-dessous?

