




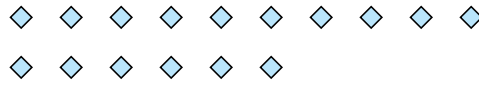
Utilisez les formes pour répondre aux questions.

Réponses

Ex) Combien de groupes de 6 pouvez-vous faire avec les 18 formes ci-dessous?



1) Combien de groupes de 8 pouvez-vous faire avec les 16 formes ci-dessous?



Ex. 3

1. _____

2. _____

3. _____

4. _____

5. _____

6. _____

7. _____


8. _____

9. _____

10. _____

11. _____

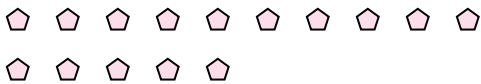
2) Combien de groupes de 6 pouvez-vous faire avec les 36 formes ci-dessous?



3) Combien de groupes de 5 pouvez-vous faire avec les 25 formes ci-dessous?



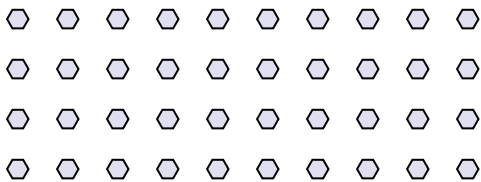
4) Combien de groupes de 5 pouvez-vous faire avec les 15 formes ci-dessous?



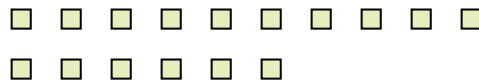
5) Combien de groupes de 3 pouvez-vous faire avec les 6 formes ci-dessous?




6) Combien de groupes de 4 pouvez-vous faire avec les 40 formes ci-dessous?



7) Combien de groupes de 2 pouvez-vous faire avec les 16 formes ci-dessous?



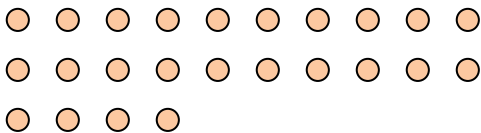
8) Combien de groupes de 6 pouvez-vous faire avec les 30 formes ci-dessous?



9) Combien de groupes de 7 pouvez-vous faire avec les 21 formes ci-dessous?



10) Combien de groupes de 8 pouvez-vous faire avec les 24 formes ci-dessous?



11) Combien de groupes de 2 pouvez-vous faire avec les 22 formes ci-dessous?

