




Utilisez les formes pour répondre aux questions.

Réponses

Ex) Combien de groupes de 6 pouvez-vous faire avec les 18 formes ci-dessous?



1) Combien de groupes de 5 pouvez-vous faire avec les 40 formes ci-dessous?



Ex. 3

1. _____

2. _____

3. _____

4. _____

5. _____

6. _____

7. _____

8. _____

9. _____

10. _____

11. _____


2) Combien de groupes de 7 pouvez-vous faire avec les 21 formes ci-dessous?



3) Combien de groupes de 6 pouvez-vous faire avec les 12 formes ci-dessous?



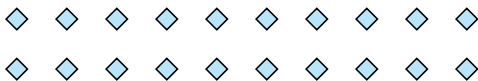
4) Combien de groupes de 3 pouvez-vous faire avec les 24 formes ci-dessous?



5) Combien de groupes de 2 pouvez-vous faire avec les 4 formes ci-dessous?




6) Combien de groupes de 5 pouvez-vous faire avec les 20 formes ci-dessous?



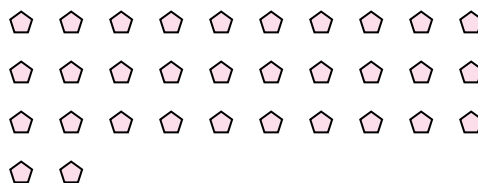
7) Combien de groupes de 9 pouvez-vous faire avec les 18 formes ci-dessous?



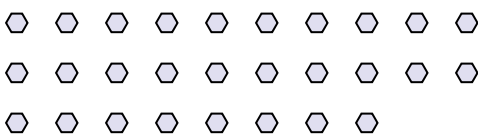
8) Combien de groupes de 9 pouvez-vous faire avec les 36 formes ci-dessous?



9) Combien de groupes de 2 pouvez-vous faire avec les 32 formes ci-dessous?



10) Combien de groupes de 2 pouvez-vous faire avec les 28 formes ci-dessous?



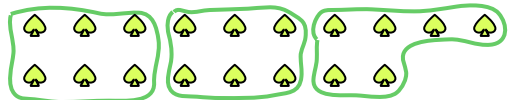
11) Combien de groupes de 8 pouvez-vous faire avec les 24 formes ci-dessous?





Utilisez les formes pour répondre aux questions.

Ex) Combien de groupes de 6 pouvez-vous faire avec les 18 formes ci-dessous?



1) Combien de groupes de 5 pouvez-vous faire avec les 40 formes ci-dessous?



Ex. 3

2) Combien de groupes de 7 pouvez-vous faire avec les 21 formes ci-dessous?




1. 8

3) Combien de groupes de 6 pouvez-vous faire avec les 12 formes ci-dessous?



2. 3

4) Combien de groupes de 3 pouvez-vous faire avec les 24 formes ci-dessous?



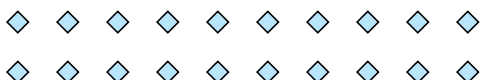
3. 2

5) Combien de groupes de 2 pouvez-vous faire avec les 4 formes ci-dessous?



4. 8

6) Combien de groupes de 5 pouvez-vous faire avec les 20 formes ci-dessous?




5. 2

7) Combien de groupes de 9 pouvez-vous faire avec les 18 formes ci-dessous?



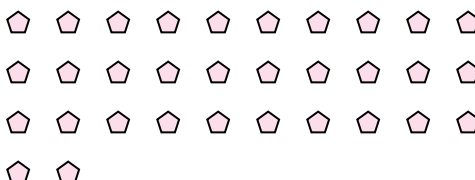
6. 4

8) Combien de groupes de 9 pouvez-vous faire avec les 36 formes ci-dessous?



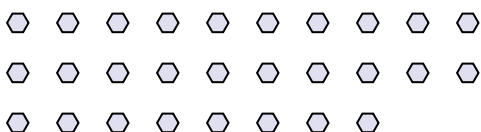
7. 2

9) Combien de groupes de 2 pouvez-vous faire avec les 32 formes ci-dessous?



8. 4

10) Combien de groupes de 2 pouvez-vous faire avec les 28 formes ci-dessous?



9. 16

11) Combien de groupes de 8 pouvez-vous faire avec les 24 formes ci-dessous?



10. 14

11. 3