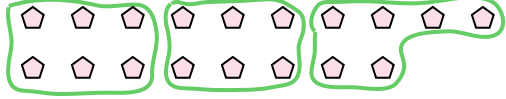




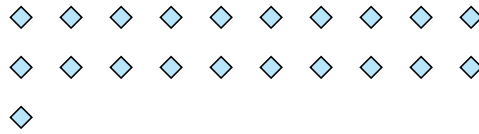
Utilisez les formes pour répondre aux questions.

Réponses

Ex) Combien de groupes de 6 pouvez-vous faire avec les 18 formes ci-dessous?



1) Combien de groupes de 7 pouvez-vous faire avec les 21 formes ci-dessous?

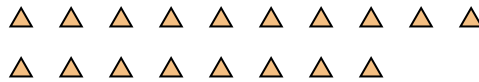


Ex. 3

2) Combien de groupes de 3 pouvez-vous faire avec les 6 formes ci-dessous?



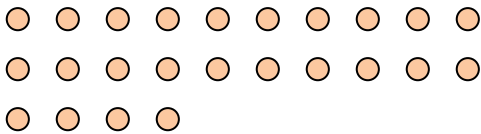
3) Combien de groupes de 6 pouvez-vous faire avec les 18 formes ci-dessous?



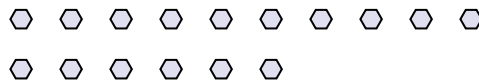
1. 3

2. 2

4) Combien de groupes de 8 pouvez-vous faire avec les 24 formes ci-dessous?



5) Combien de groupes de 8 pouvez-vous faire avec les 16 formes ci-dessous?




3. 3


4. 3

5. 2

6) Combien de groupes de 4 pouvez-vous faire avec les 16 formes ci-dessous?



7) Combien de groupes de 7 pouvez-vous faire avec les 35 formes ci-dessous?



6. 4

7. 5

8. 5

8) Combien de groupes de 3 pouvez-vous faire avec les 15 formes ci-dessous?



9) Combien de groupes de 2 pouvez-vous faire avec les 18 formes ci-dessous?



9. 9

10. 2

11. 2

10) Combien de groupes de 4 pouvez-vous faire avec les 8 formes ci-dessous?



11) Combien de groupes de 7 pouvez-vous faire avec les 14 formes ci-dessous?

