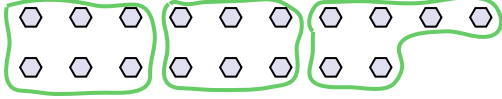




Utilisez les formes pour répondre aux questions.

Ex) Combien de groupes de 6 pouvez-vous faire avec les 18 formes ci-dessous?

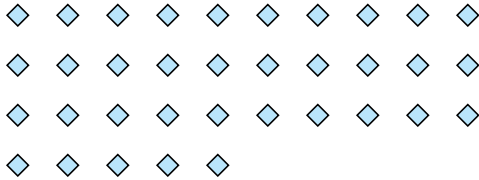


1) Combien de groupes de 6 pouvez-vous faire avec les 12 formes ci-dessous?



Ex. 3

2) Combien de groupes de 7 pouvez-vous faire avec les 35 formes ci-dessous?




3) Combien de groupes de 4 pouvez-vous faire avec les 8 formes ci-dessous?

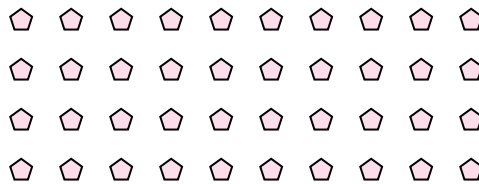


1. 2

4) Combien de groupes de 8 pouvez-vous faire avec les 24 formes ci-dessous?




5) Combien de groupes de 4 pouvez-vous faire avec les 40 formes ci-dessous?



2. 5

6) Combien de groupes de 6 pouvez-vous faire avec les 36 formes ci-dessous?




7) Combien de groupes de 5 pouvez-vous faire avec les 10 formes ci-dessous?

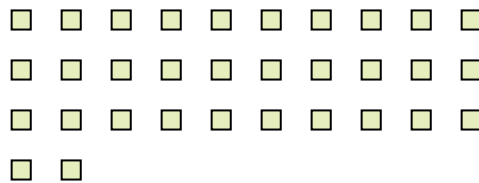


3. 2

8) Combien de groupes de 9 pouvez-vous faire avec les 27 formes ci-dessous?



9) Combien de groupes de 8 pouvez-vous faire avec les 32 formes ci-dessous?

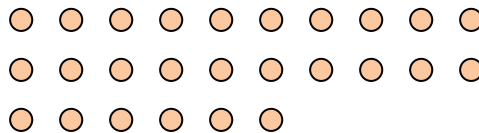


4. 3

10) Combien de groupes de 6 pouvez-vous faire avec les 18 formes ci-dessous?



11) Combien de groupes de 2 pouvez-vous faire avec les 26 formes ci-dessous?



5. 10

6. 6

7. 2

8. 3

9. 4

10. 3

11. 13

Réponses