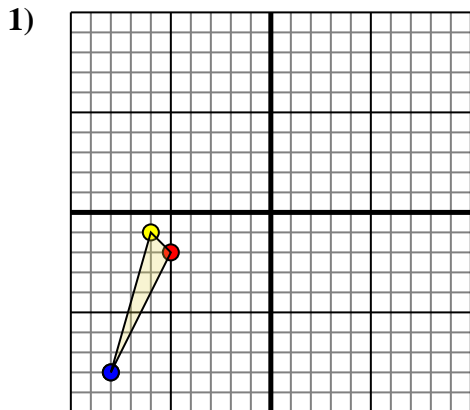




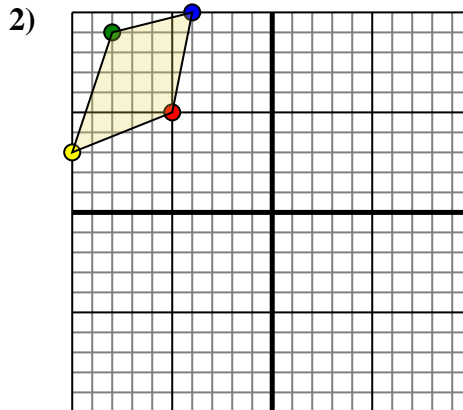
Effectuer la rotation de chaque figure comme demandé. Le centre du graphique sera le point central.



La figure ci-dessous a les coordonnées suivantes::

- A. (-5,-2)
- B. (-6,-1)
- C. (-8,-8)

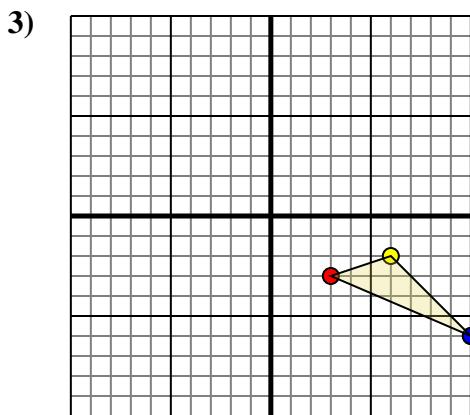
Effectuez une rotation de 180° dans le sens horaire.



La figure ci-dessous a les coordonnées suivantes::

- A. (-5,5)
- B. (-10,3)
- C. (-8,9)
- D. (-4,10)

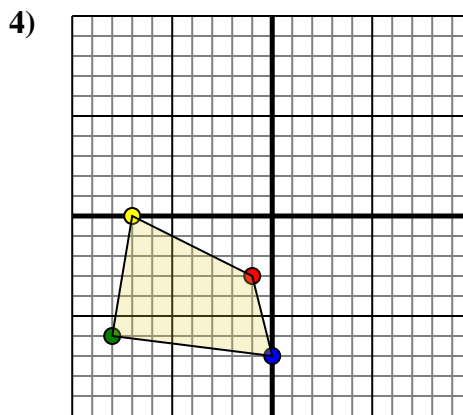
Effectuez une rotation de 180° dans le sens horaire.



La figure ci-dessous a les coordonnées suivantes::

- A. (3,-3)
- B. (6,-2)
- C. (10,-6)

Effectuez une rotation de 180° dans le sens horaire.



La figure ci-dessous a les coordonnées suivantes::

- A. (-1,-3)
- B. (-7,0)
- C. (-8,-6)
- D. (0,-7)

Effectuez une rotation de 180° dans le sens horaire.

Réponses

1a. _____

1b. _____

1c. _____

Graphique

2a. _____

2b. _____

2c. _____

2d. _____

Graphique

3a. _____

3b. _____

3c. _____

Graphique

4a. _____

4b. _____

4c. _____

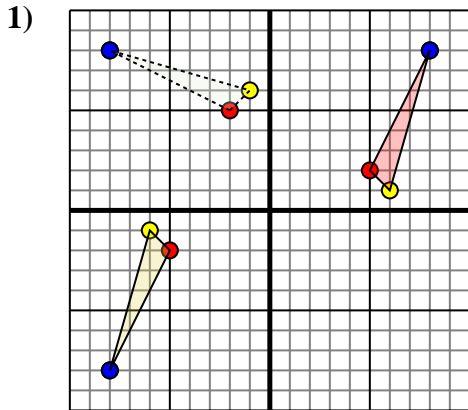
4d. _____

Graphique

4. _____



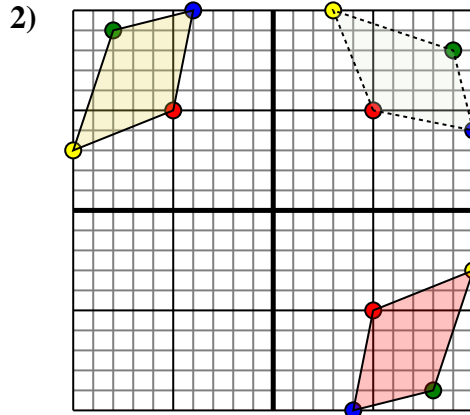
Effectuer la rotation de chaque figure comme demandé. Le centre du graphique sera le point central.



La figure ci-dessous a les coordonnées suivantes::

- A. (-5,-2)
- B. (-6,-1)
- C. (-8,-8)

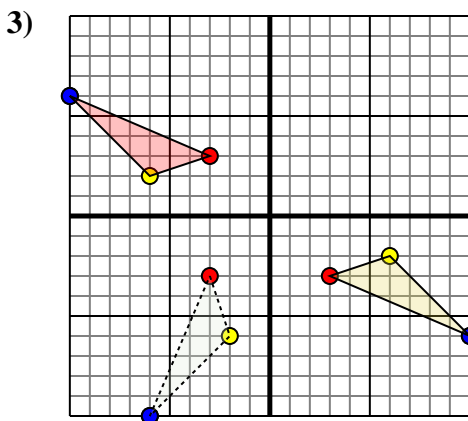
Effectuez une rotation de 180° dans le sens horaire.



La figure ci-dessous a les coordonnées suivantes::

- A. (-5,5)
- B. (-10,3)
- C. (-8,9)
- D. (-4,10)

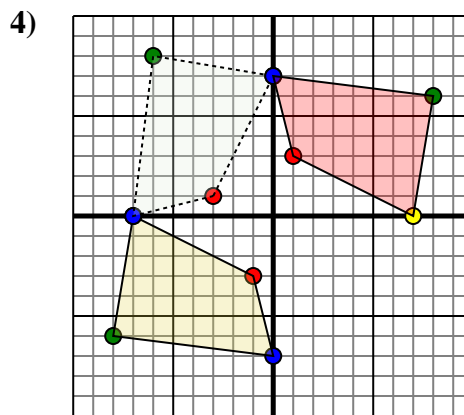
Effectuez une rotation de 180° dans le sens horaire.



La figure ci-dessous a les coordonnées suivantes::

- A. (3,-3)
- B. (6,-2)
- C. (10,-6)

Effectuez une rotation de 180° dans le sens horaire.



La figure ci-dessous a les coordonnées suivantes::

- A. (-1,-3)
- B. (-7,0)
- C. (-8,-6)
- D. (0,-7)

Effectuez une rotation de 180° dans le sens horaire.

Réponses

1a. **(5,2)**

1b. **(6,1)**

1c. **(8,8)**

1. **Graphique**

2a. **(5,-5)**

2b. **(10,-3)**

2c. **(8,-9)**

2d. **(4,-10)**

2. **Graphique**

3a. **(-3,3)**

3b. **(-6,2)**

3c. **(-10,6)**

3. **Graphique**

4a. **(1,3)**

4b. **(7,0)**

4c. **(8,6)**

4d. **(-0,7)**

4. **Graphique**