


**Partitionnez chaque cercle et indiquez leur valeur.**


**Ex)** *Partitionnez la figure en 8 quartiers égaux et indiquez leur valeur en fraction.*



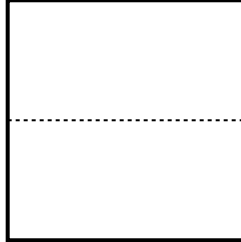
**1)** *Partitionnez la figure en 2 quartiers égaux et indiquez leur valeur en fraction.*




**2)** *Partitionnez la figure en 6 quartiers égaux et indiquez leur valeur en fraction.*



**3)** *Partitionnez la figure en 4 quartiers égaux et indiquez leur valeur en fraction.*




**4)** *Partitionnez la figure en 3 quartiers égaux et indiquez leur valeur en fraction.*




**5)** *Partitionnez la figure en 6 quartiers égaux et indiquez leur valeur en fraction.*



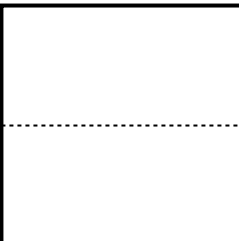
**6)** *Partitionnez la figure en 2 quartiers égaux et indiquez leur valeur en fraction.*



**7)** *Partitionnez la figure en 3 quartiers égaux et indiquez leur valeur en fraction.*



**8)** *Partitionnez la figure en 8 quartiers égaux et indiquez leur valeur en fraction.*

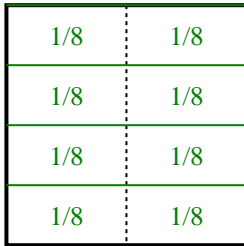


**9)** *Partitionnez la figure en 4 quartiers égaux et indiquez leur valeur en fraction.*

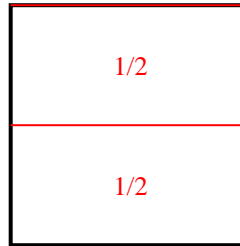


**Partitionnez chaque cercle et indiquez leur valeur.**

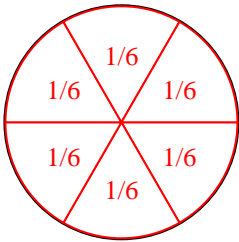
Ex) Partitionnez la figure en 8 quartiers égaux et indiquez leur valeur en fraction.



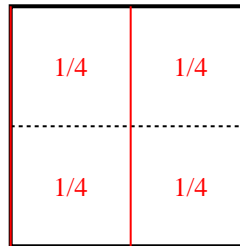
1) Partitionnez la figure en 2 quartiers égaux et indiquez leur valeur en fraction.



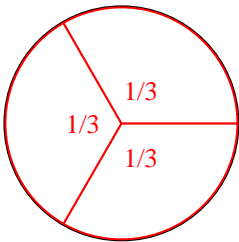
2) Partitionnez la figure en 6 quartiers égaux et indiquez leur valeur en fraction.



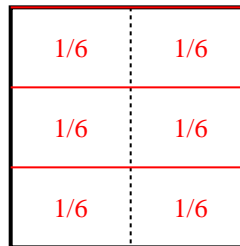
3) Partitionnez la figure en 4 quartiers égaux et indiquez leur valeur en fraction.



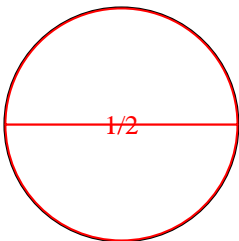
4) Partitionnez la figure en 3 quartiers égaux et indiquez leur valeur en fraction.



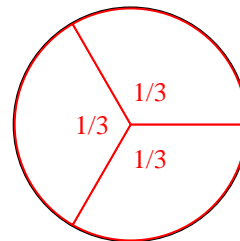
5) Partitionnez la figure en 6 quartiers égaux et indiquez leur valeur en fraction.



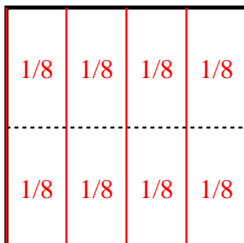
6) Partitionnez la figure en 2 quartiers égaux et indiquez leur valeur en fraction.



7) Partitionnez la figure en 3 quartiers égaux et indiquez leur valeur en fraction.



8) Partitionnez la figure en 8 quartiers égaux et indiquez leur valeur en fraction.



9) Partitionnez la figure en 4 quartiers égaux et indiquez leur valeur en fraction.

