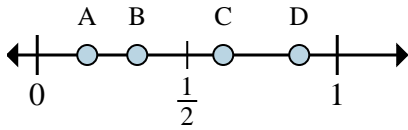
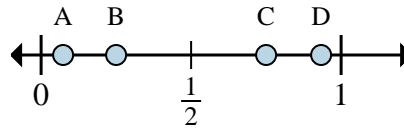




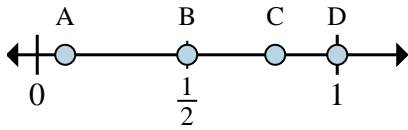
Déterminez quelle lettre représente la situation de la fraction sur la droite numérique.



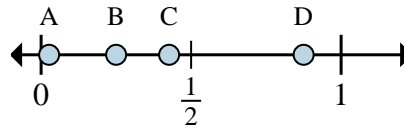
- 1) Quelle lettre représente le mieux $\frac{2}{6}$?
- 2) Quelle lettre représente le mieux $\frac{1}{6}$?



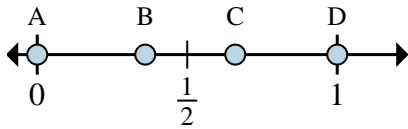
- 3) Quelle lettre représente le mieux $\frac{1}{4}$?
- 4) Quelle lettre représente le mieux $\frac{3}{4}$?



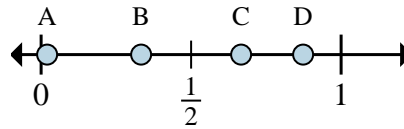
- 5) Quelle lettre représente le mieux $\frac{3}{6}$?
- 6) Quelle lettre représente le mieux $\frac{6}{6}$?



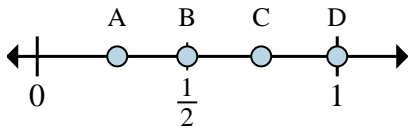
- 7) Quelle lettre représente le mieux $\frac{7}{8}$?
- 8) Quelle lettre représente le mieux $\frac{2}{8}$?



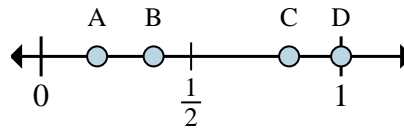
- 9) Quelle lettre représente le mieux $\frac{0}{4}$?
- 10) Quelle lettre représente le mieux $\frac{4}{4}$?



- 11) Quelle lettre représente le mieux $\frac{1}{3}$?
- 12) Quelle lettre représente le mieux $\frac{2}{3}$?



- 13) Quelle lettre représente le mieux $\frac{1}{2}$?
- 14) Quelle lettre représente le mieux $\frac{2}{2}$?



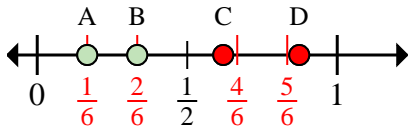
- 15) Quelle lettre représente le mieux $\frac{8}{8}$?
- 16) Quelle lettre représente le mieux $\frac{3}{8}$?

Réponses

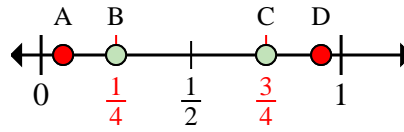
1. _____
2. _____
3. _____
4. _____
5. _____
6. _____
7. _____
8. _____
9. _____
10. _____
11. _____
12. _____
13. _____
14. _____
15. _____
16. _____



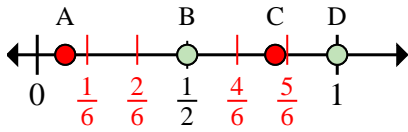
Déterminez quelle lettre représente la situation de la fraction sur la droite numérique.



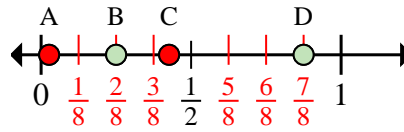
- 1) Quelle lettre représente le mieux $\frac{2}{6}$?
- 2) Quelle lettre représente le mieux $\frac{1}{6}$?



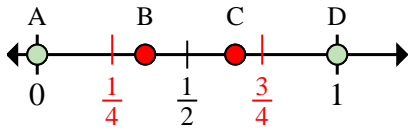
- 3) Quelle lettre représente le mieux $\frac{1}{4}$?
- 4) Quelle lettre représente le mieux $\frac{3}{4}$?



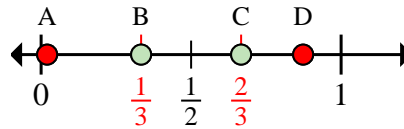
- 5) Quelle lettre représente le mieux $\frac{3}{6}$?
- 6) Quelle lettre représente le mieux $\frac{6}{6}$?



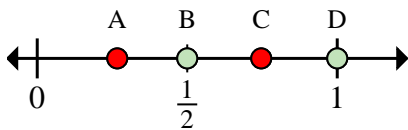
- 7) Quelle lettre représente le mieux $\frac{7}{8}$?
- 8) Quelle lettre représente le mieux $\frac{2}{8}$?



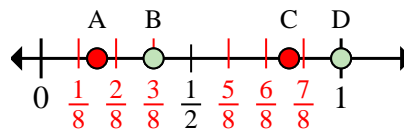
- 9) Quelle lettre représente le mieux $\frac{0}{4}$?
- 10) Quelle lettre représente le mieux $\frac{4}{4}$?



- 11) Quelle lettre représente le mieux $\frac{1}{3}$?
- 12) Quelle lettre représente le mieux $\frac{2}{3}$?



- 13) Quelle lettre représente le mieux $\frac{1}{2}$?
- 14) Quelle lettre représente le mieux $\frac{2}{2}$?



- 15) Quelle lettre représente le mieux $\frac{8}{8}$?
- 16) Quelle lettre représente le mieux $\frac{3}{8}$?

Réponses

1. **B**
2. **A**
3. **B**
4. **C**
5. **B**
6. **D**
7. **D**
8. **B**
9. **A**
10. **D**
11. **B**
12. **C**
13. **B**
14. **D**
15. **D**
16. **B**