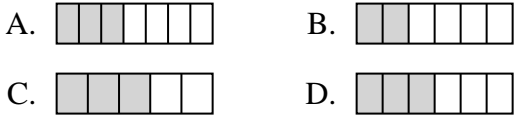




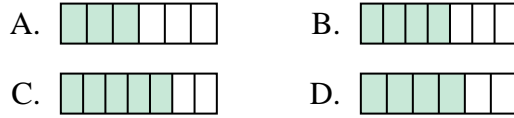
Quelle proposition permet de répondre à chaque question.

**Réponses**

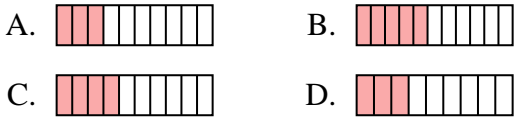
1) Laquelle de ces représentation représente la valeur de  $\frac{3}{6}$ ?



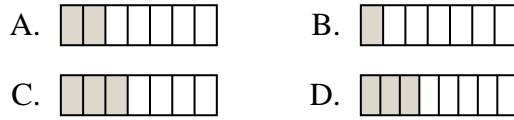
2) Laquelle de ces représentation représente la valeur de  $\frac{4}{7}$ ?



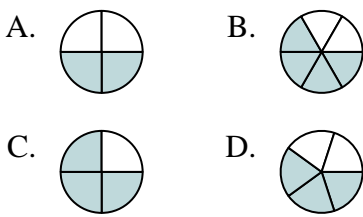
3) Laquelle de ces représentation représente la valeur de  $\frac{4}{10}$ ?



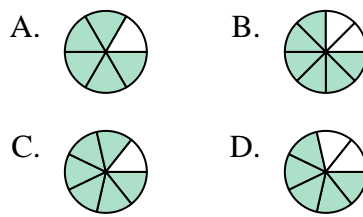
4) Laquelle de ces représentation représente la valeur de  $\frac{2}{7}$ ?



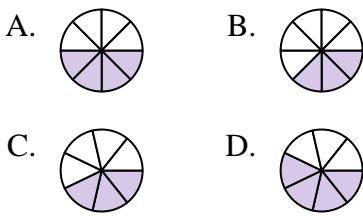
5) Laquelle de ces représentation représente la valeur de  $\frac{3}{5}$ ?



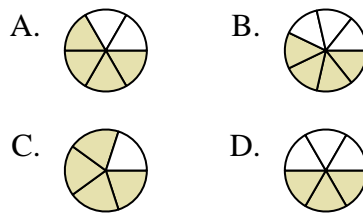
6) Laquelle de ces représentation représente la valeur de  $\frac{5}{7}$ ?



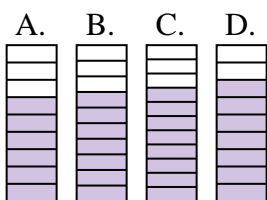
7) Laquelle de ces représentation représente la valeur de  $\frac{4}{8}$ ?



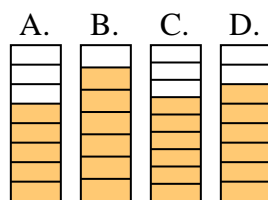
8) Laquelle de ces représentation représente la valeur de  $\frac{4}{6}$ ?



9) Laquelle de ces représentation représente la valeur de  $\frac{7}{10}$ ?



10) Laquelle de ces représentation représente la valeur de  $\frac{6}{8}$ ?

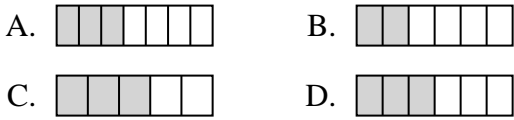


1. \_\_\_\_\_
2. \_\_\_\_\_
3. \_\_\_\_\_
4. \_\_\_\_\_
5. \_\_\_\_\_
6. \_\_\_\_\_
7. \_\_\_\_\_
8. \_\_\_\_\_
9. \_\_\_\_\_
10. \_\_\_\_\_

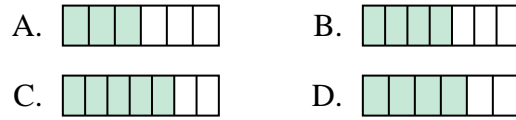


Quelle proposition permet de répondre à chaque question.

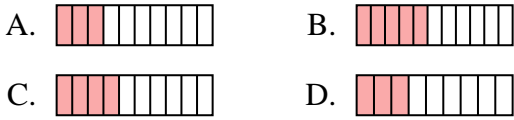
1) Laquelle de ces représentation représente la valeur de  $\frac{3}{6}$ ?



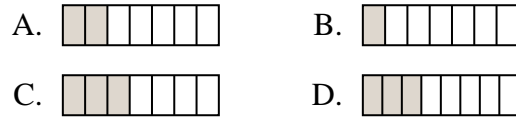
2) Laquelle de ces représentation représente la valeur de  $\frac{4}{7}$ ?



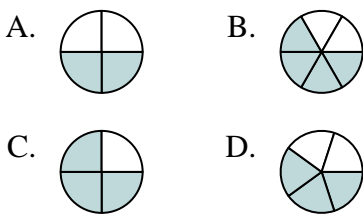
3) Laquelle de ces représentation représente la valeur de  $\frac{4}{10}$ ?



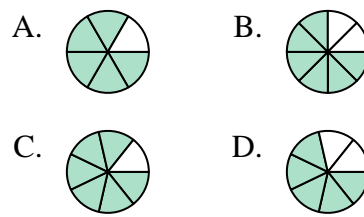
4) Laquelle de ces représentation représente la valeur de  $\frac{2}{7}$ ?



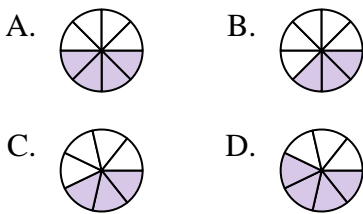
5) Laquelle de ces représentation représente la valeur de  $\frac{3}{5}$ ?



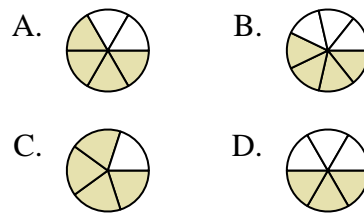
6) Laquelle de ces représentation représente la valeur de  $\frac{5}{7}$ ?



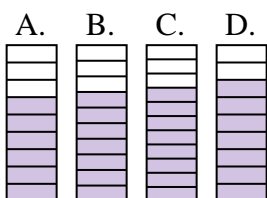
7) Laquelle de ces représentation représente la valeur de  $\frac{4}{8}$ ?



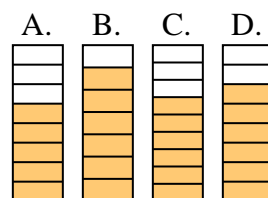
8) Laquelle de ces représentation représente la valeur de  $\frac{4}{6}$ ?



9) Laquelle de ces représentation représente la valeur de  $\frac{7}{10}$ ?



10) Laquelle de ces représentation représente la valeur de  $\frac{6}{8}$ ?



**Réponses**

1.     **D**
2.     **B**
3.     **C**
4.     **A**
5.     **D**
6.     **D**
7.     **A**
8.     **A**
9.     **B**
10.     **D**