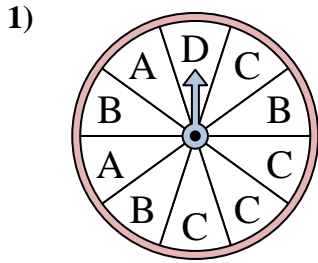


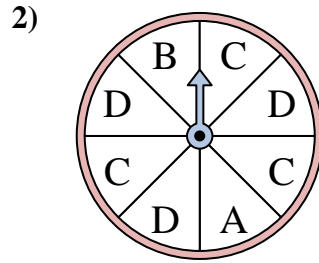


Résoudre chaque problème. Arrondissez votre réponse au dixième près.

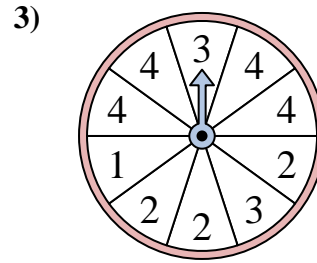
Réponses



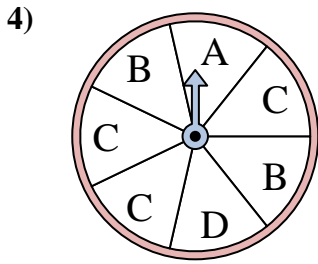
Le spinner a un % de chance {BLANC} d'atterrir sur un C.



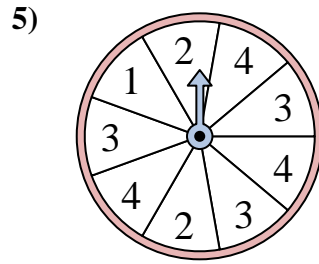
Le spinner a un % de chance {BLANC} d'atterrir sur un D.



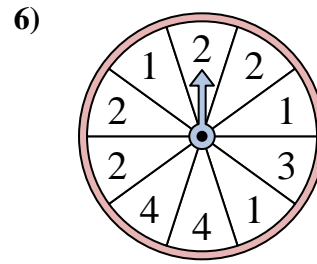
Le spinner a un % de chance {BLANC} d'atterrir sur un 2.



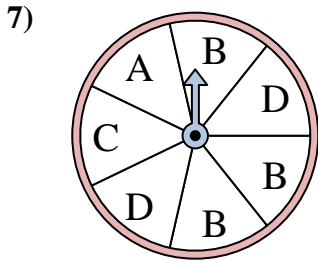
Le spinner a un % de chance {BLANC} d'atterrir sur un B.



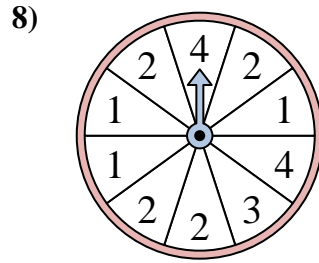
Le spinner a un % de chance {BLANC} d'atterrir sur un 3.



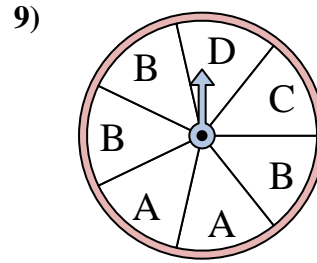
Le spinner a un % de chance {BLANC} d'atterrir sur un 2.



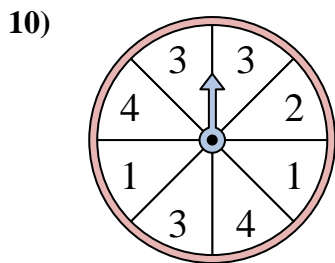
Le spinner a un % de chance {BLANC} d'atterrir sur un A.



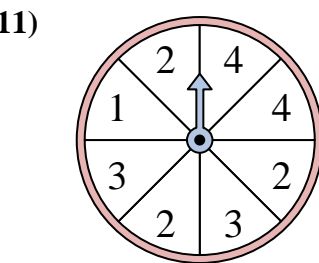
Le spinner a un % de chance {BLANC} d'atterrir sur un 2.



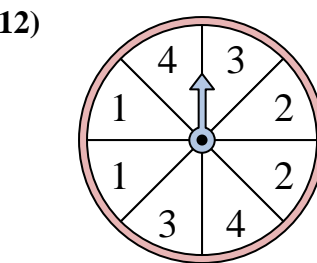
Le spinner a un % de chance {BLANC} d'atterrir sur un A.



Le spinner a un % de chance {BLANC} d'atterrir sur un 3.



Le spinner a un % de chance {BLANC} d'atterrir sur un 1.

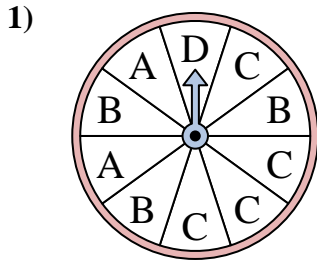


Le spinner a un % de chance {BLANC} d'atterrir sur un 1.

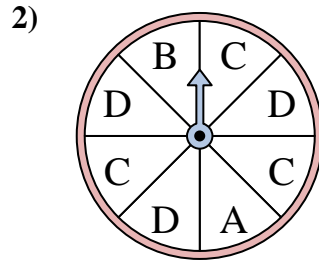
1. _____
2. _____
3. _____
4. _____
5. _____
6. _____
7. _____
8. _____
9. _____
10. _____
11. _____
12. _____



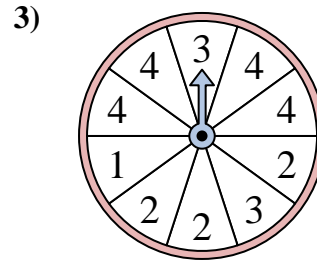
Résoudre chaque problème. Arrondissez votre réponse au dixième près.



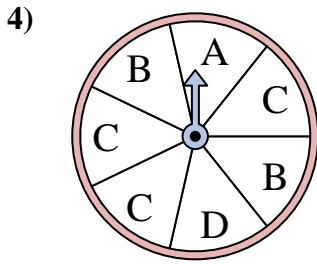
Le spinner a un % de chance {BLANC} d'atterrir sur un C.



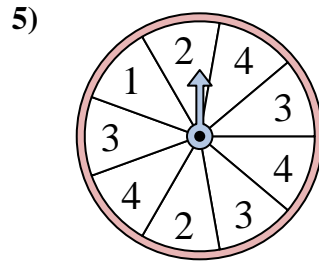
Le spinner a un % de chance {BLANC} d'atterrir sur un D.



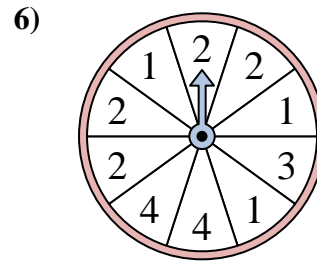
Le spinner a un % de chance {BLANC} d'atterrir sur un 2.



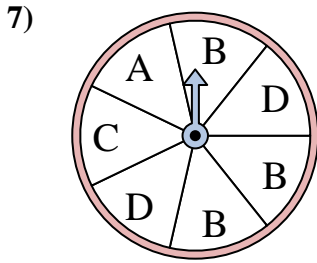
Le spinner a un % de chance {BLANC} d'atterrir sur un B.



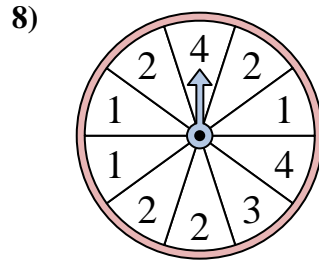
Le spinner a un % de chance {BLANC} d'atterrir sur un 3.



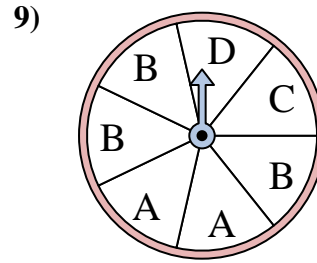
Le spinner a un % de chance {BLANC} d'atterrir sur un 2.



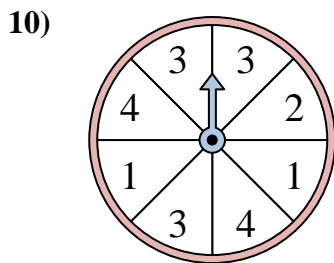
Le spinner a un % de chance {BLANC} d'atterrir sur un A.



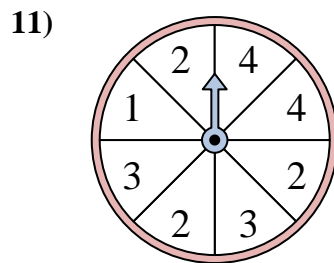
Le spinner a un % de chance {BLANC} d'atterrir sur un 2.



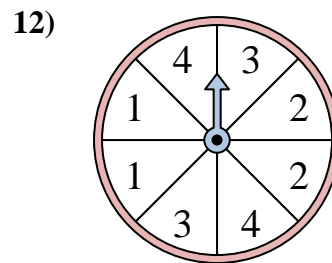
Le spinner a un % de chance {BLANC} d'atterrir sur un A.



Le spinner a un % de chance {BLANC} d'atterrir sur un 3.



Le spinner a un % de chance {BLANC} d'atterrir sur un 1.



Le spinner a un % de chance {BLANC} d'atterrir sur un 1.

Réponses

1. 40

2. 37,5

3. 30

4. 28,6

5. 33,3

6. 40

7. 14,3

8. 40

9. 28,6

10. 37,5

11. 12,5

12. 25