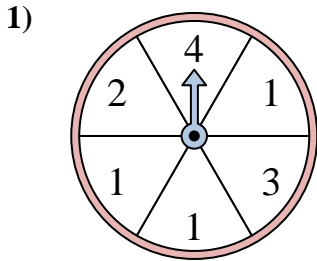


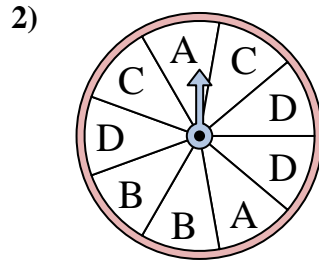


Résoudre chaque problème. Arrondissez votre réponse au dixième près.

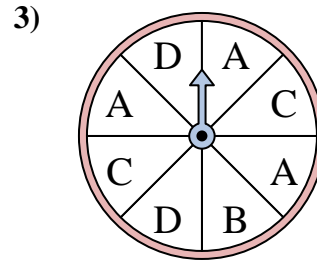
Réponses



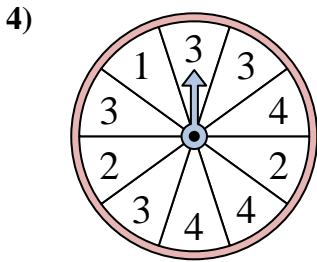
Le spinner a un % de chance {BLANC} d'atterrir sur un 2.



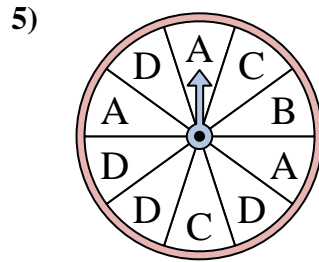
Le spinner a un % de chance {BLANC} d'atterrir sur un B.



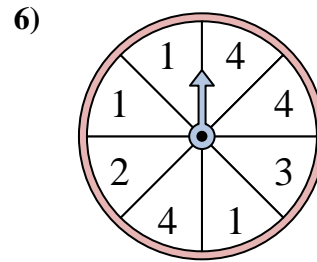
Le spinner a un % de chance {BLANC} d'atterrir sur un C.



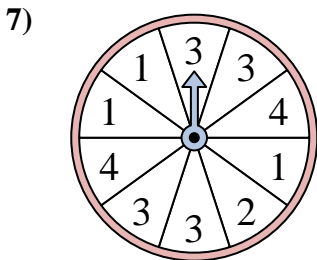
Le spinner a un % de chance {BLANC} d'atterrir sur un 3.



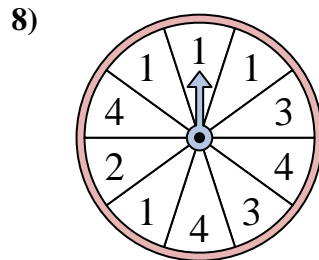
Le spinner a un % de chance {BLANC} d'atterrir sur un D.



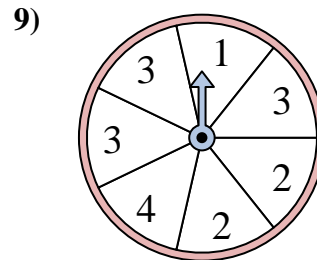
Le spinner a un % de chance {BLANC} d'atterrir sur un 4.



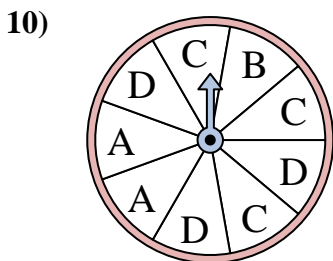
Le spinner a un % de chance {BLANC} d'atterrir sur un 4.



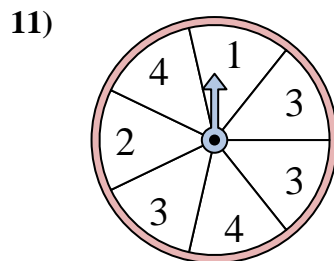
Le spinner a un % de chance {BLANC} d'atterrir sur un 1.



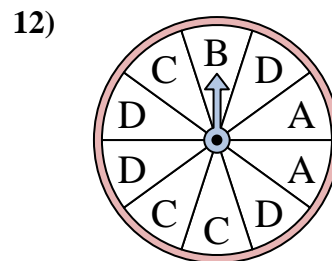
Le spinner a un % de chance {BLANC} d'atterrir sur un 3.



Le spinner a un % de chance {BLANC} d'atterrir sur un C.



Le spinner a un % de chance {BLANC} d'atterrir sur un 2.

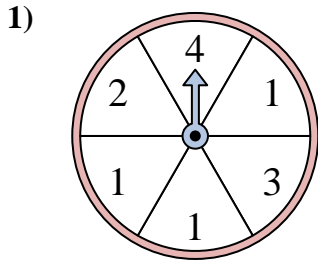


Le spinner a un % de chance {BLANC} d'atterrir sur un D.

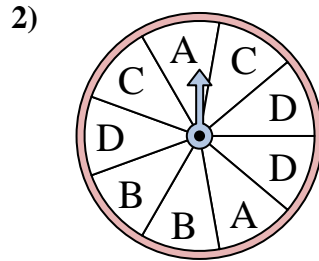
1. _____
2. _____
3. _____
4. _____
5. _____
6. _____
7. _____
8. _____
9. _____
10. _____
11. _____
12. _____



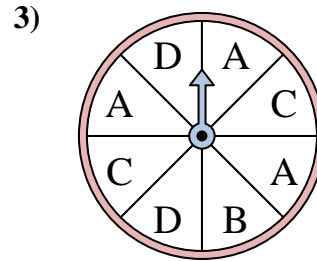
Résoudre chaque problème. Arrondissez votre réponse au dixième près.



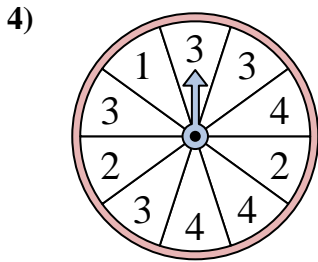
Le spinner a un % de chance {BLANC} d'atterrir sur un 2.



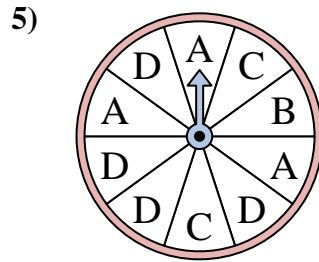
Le spinner a un % de chance {BLANC} d'atterrir sur un B.



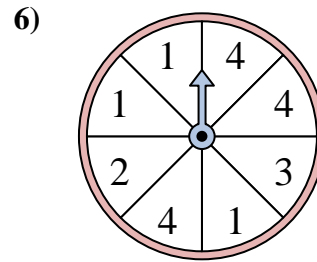
Le spinner a un % de chance {BLANC} d'atterrir sur un C.



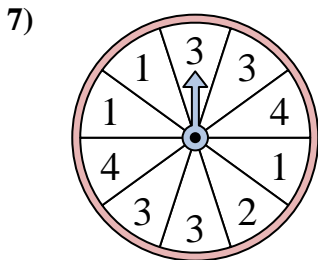
Le spinner a un % de chance {BLANC} d'atterrir sur un 3.



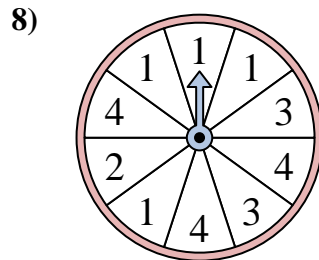
Le spinner a un % de chance {BLANC} d'atterrir sur un D.



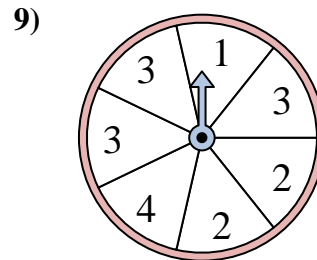
Le spinner a un % de chance {BLANC} d'atterrir sur un 4.



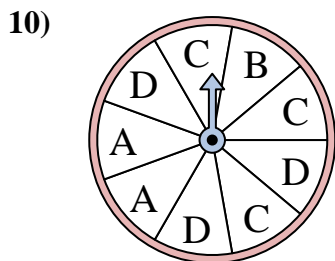
Le spinner a un % de chance {BLANC} d'atterrir sur un 4.



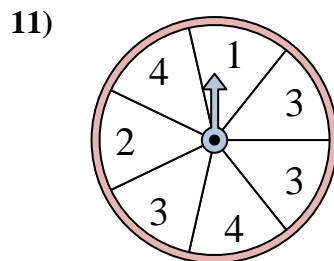
Le spinner a un % de chance {BLANC} d'atterrir sur un 1.



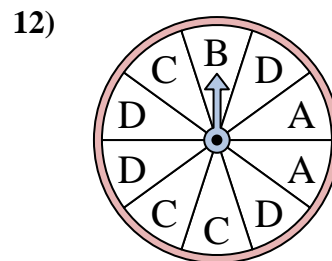
Le spinner a un % de chance {BLANC} d'atterrir sur un 3.



Le spinner a un % de chance {BLANC} d'atterrir sur un C.



Le spinner a un % de chance {BLANC} d'atterrir sur un 2.



Le spinner a un % de chance {BLANC} d'atterrir sur un D.

Réponses1. 16,72. 22,23. 254. 405. 406. 37,57. 208. 409. 42,910. 33,311. 14,312. 40