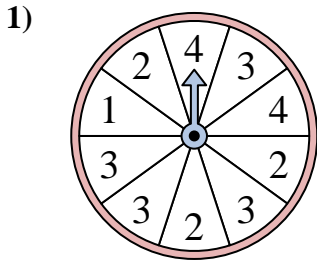


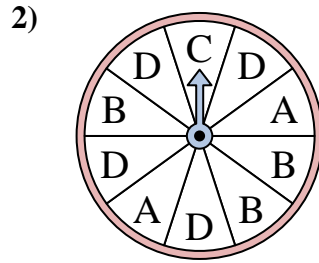


Résoudre chaque problème. Arrondissez votre réponse au dixième près.

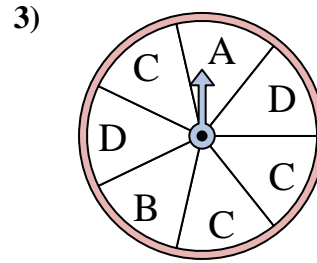
**Réponses**



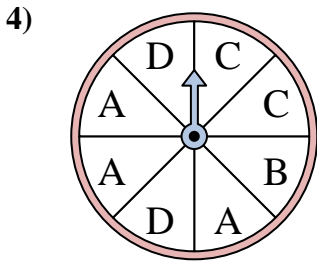
Le spinner a un % de chance {BLANC} d'atterrir sur un 2.



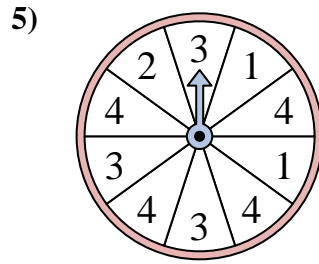
Le spinner a un % de chance {BLANC} d'atterrir sur un D.



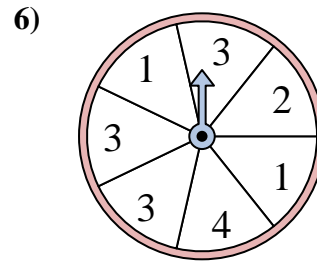
Le spinner a un % de chance {BLANC} d'atterrir sur un C.



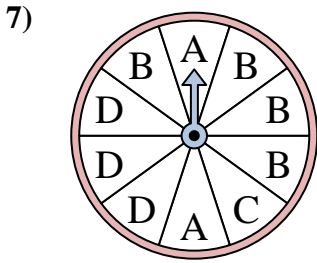
Le spinner a un % de chance {BLANC} d'atterrir sur un A.



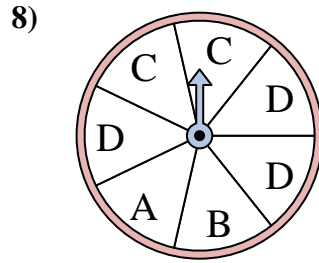
Le spinner a un % de chance {BLANC} d'atterrir sur un 2.



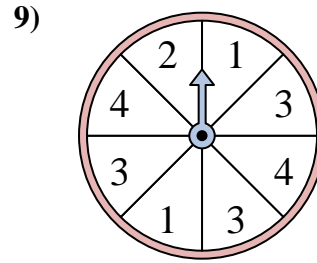
Le spinner a un % de chance {BLANC} d'atterrir sur un 2.



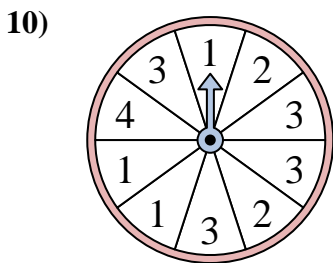
Le spinner a un % de chance {BLANC} d'atterrir sur un B.



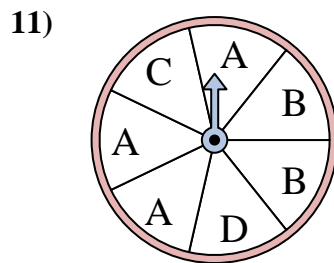
Le spinner a un % de chance {BLANC} d'atterrir sur un C.



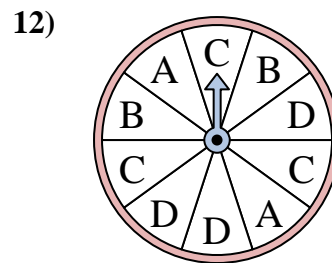
Le spinner a un % de chance {BLANC} d'atterrir sur un 1.



Le spinner a un % de chance {BLANC} d'atterrir sur un 4.



Le spinner a un % de chance {BLANC} d'atterrir sur un D.

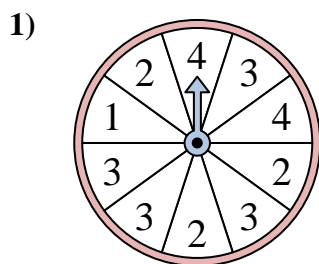


Le spinner a un % de chance {BLANC} d'atterrir sur un C.

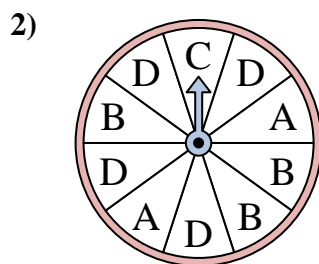
1. \_\_\_\_\_
2. \_\_\_\_\_
3. \_\_\_\_\_
4. \_\_\_\_\_
5. \_\_\_\_\_
6. \_\_\_\_\_
7. \_\_\_\_\_
8. \_\_\_\_\_
9. \_\_\_\_\_
10. \_\_\_\_\_
11. \_\_\_\_\_
12. \_\_\_\_\_



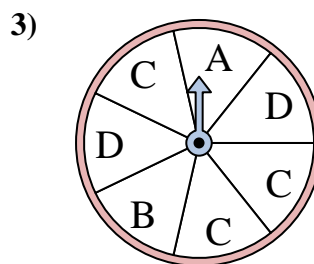
Résoudre chaque problème. Arrondissez votre réponse au dixième près.



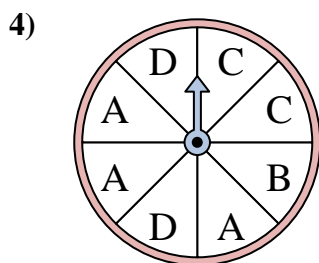
Le spinner a un % de chance {BLANC} d'atterrir sur un 2.



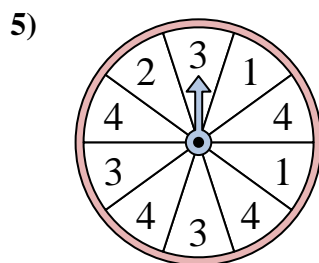
Le spinner a un % de chance {BLANC} d'atterrir sur un D.



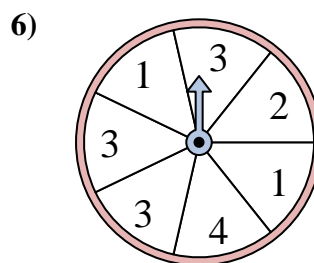
Le spinner a un % de chance {BLANC} d'atterrir sur un C.



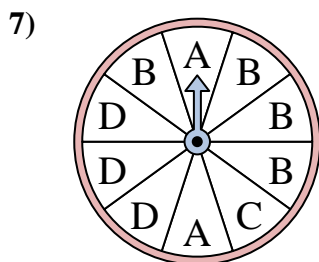
Le spinner a un % de chance {BLANC} d'atterrir sur un A.



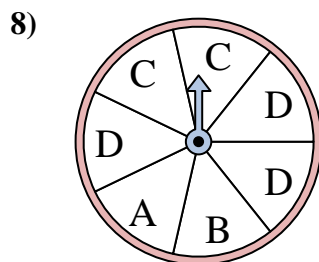
Le spinner a un % de chance {BLANC} d'atterrir sur un 2.



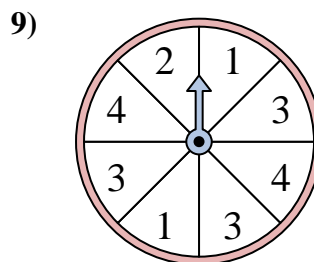
Le spinner a un % de chance {BLANC} d'atterrir sur un 2.



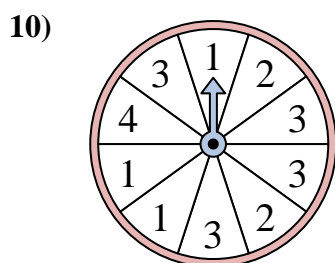
Le spinner a un % de chance {BLANC} d'atterrir sur un B.



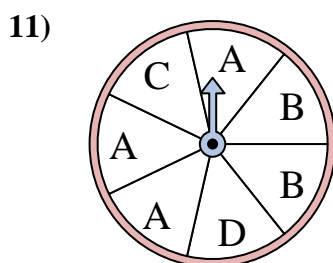
Le spinner a un % de chance {BLANC} d'atterrir sur un C.



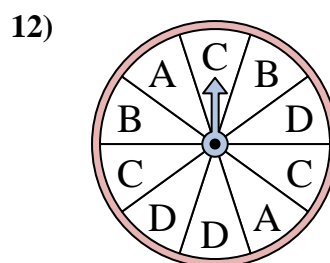
Le spinner a un % de chance {BLANC} d'atterrir sur un 1.



Le spinner a un % de chance {BLANC} d'atterrir sur un 4.



Le spinner a un % de chance {BLANC} d'atterrir sur un D.



Le spinner a un % de chance {BLANC} d'atterrir sur un C.

**Réponses**1. 302. 403. 42,94. 37,55. 106. 14,37. 408. 28,69. 2510. 1011. 14,312. 30