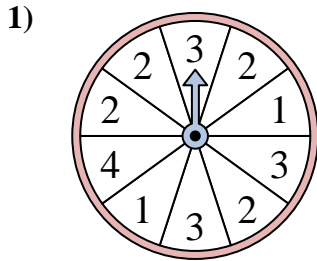
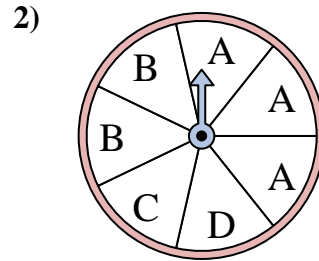




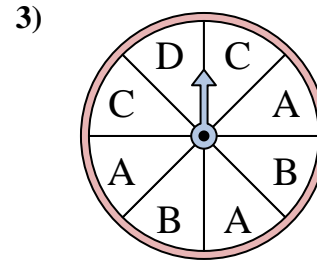
Résoudre chaque problème. Arrondissez votre réponse au dixième près.

Réponses

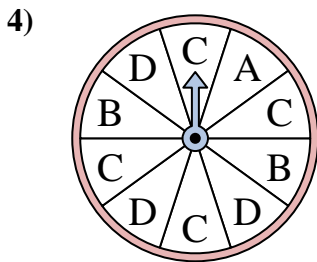
Le spinner a un % de chance {BLANC} d'atterrir sur un 2.



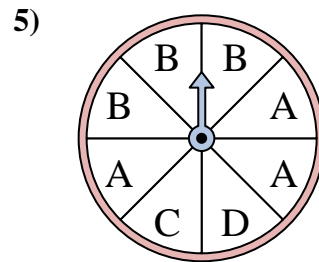
Le spinner a un % de chance {BLANC} d'atterrir sur un D.



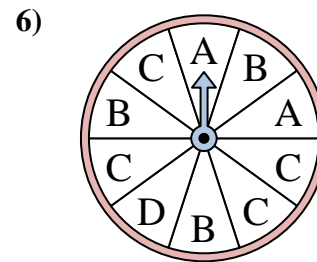
Le spinner a un % de chance {BLANC} d'atterrir sur un A.



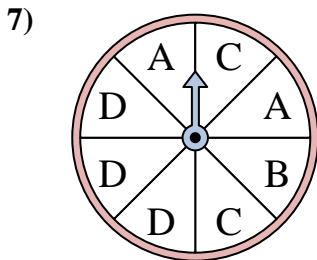
Le spinner a un % de chance {BLANC} d'atterrir sur un D.



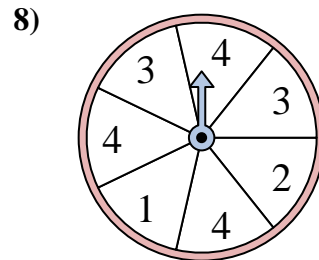
Le spinner a un % de chance {BLANC} d'atterrir sur un D.



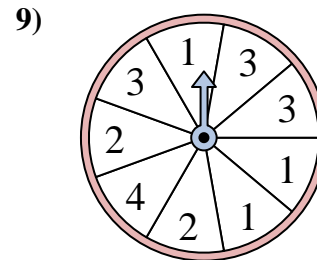
Le spinner a un % de chance {BLANC} d'atterrir sur un B.



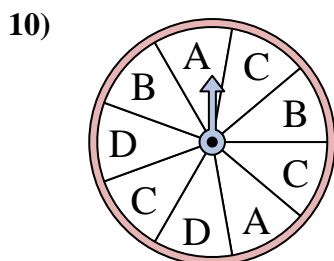
Le spinner a un % de chance {BLANC} d'atterrir sur un D.



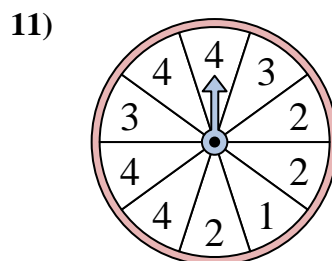
Le spinner a un % de chance {BLANC} d'atterrir sur un 2.



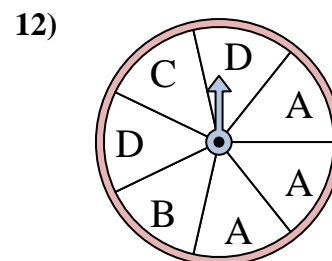
Le spinner a un % de chance {BLANC} d'atterrir sur un 1.



Le spinner a un % de chance {BLANC} d'atterrir sur un C.



Le spinner a un % de chance {BLANC} d'atterrir sur un 4.

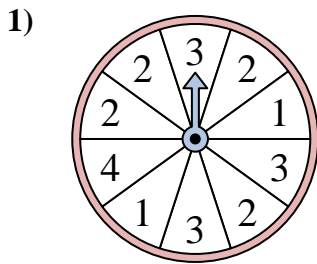


Le spinner a un % de chance {BLANC} d'atterrir sur un D.

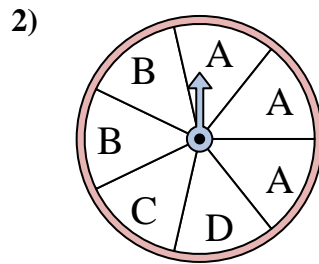
1. _____
2. _____
3. _____
4. _____
5. _____
6. _____
7. _____
8. _____
9. _____
10. _____
11. _____
12. _____



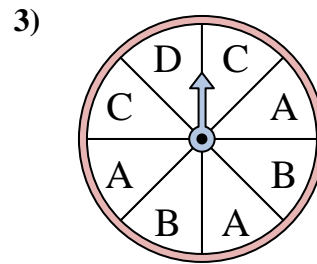
Résoudre chaque problème. Arrondissez votre réponse au dixième près.



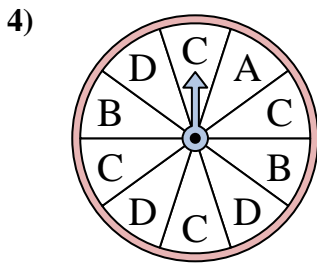
Le spinner a un % de chance {BLANC} d'atterrir sur un 2.



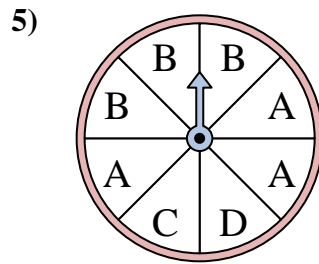
Le spinner a un % de chance {BLANC} d'atterrir sur un D.



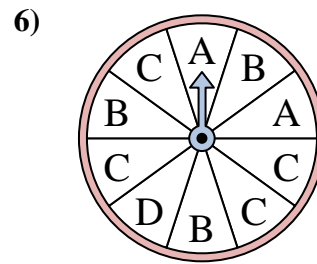
Le spinner a un % de chance {BLANC} d'atterrir sur un A.



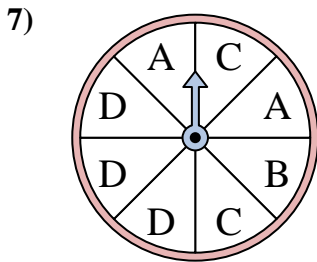
Le spinner a un % de chance {BLANC} d'atterrir sur un D.



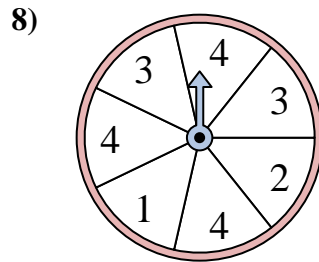
Le spinner a un % de chance {BLANC} d'atterrir sur un D.



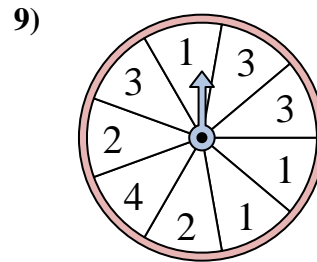
Le spinner a un % de chance {BLANC} d'atterrir sur un B.



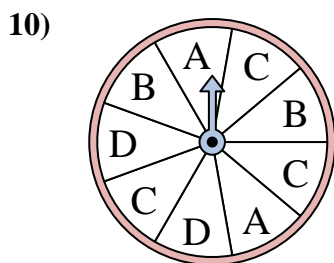
Le spinner a un % de chance {BLANC} d'atterrir sur un D.



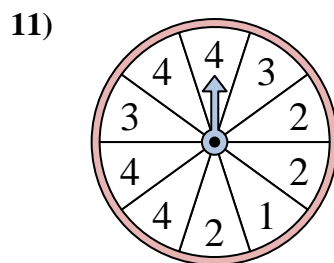
Le spinner a un % de chance {BLANC} d'atterrir sur un 2.



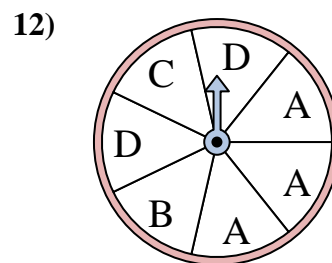
Le spinner a un % de chance {BLANC} d'atterrir sur un 1.



Le spinner a un % de chance {BLANC} d'atterrir sur un C.



Le spinner a un % de chance {BLANC} d'atterrir sur un 4.



Le spinner a un % de chance {BLANC} d'atterrir sur un D.

Réponses

1. 40
2. 14,3
3. 37,5
4. 30
5. 12,5
6. 30
7. 37,5
8. 14,3
9. 33,3
10. 33,3
11. 40
12. 28,6