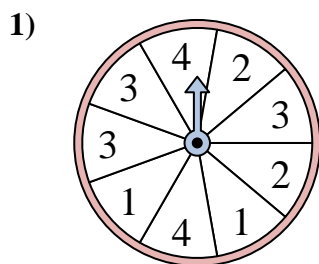
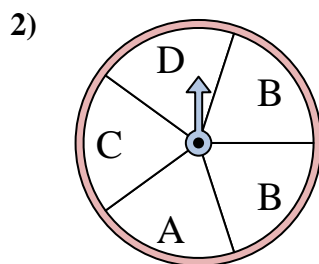




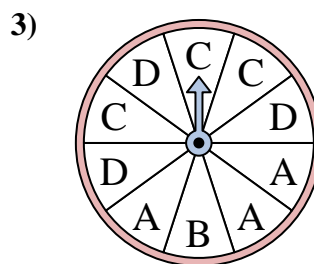
Résoudre chaque problème. Arrondissez votre réponse au dixième près.

Réponses

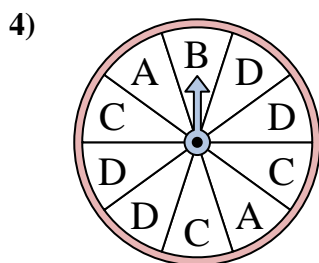
Le spinner a un % de chance {BLANC} d'atterrir sur un 2.



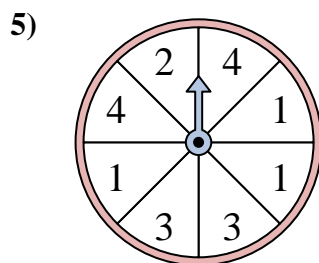
Le spinner a un % de chance {BLANC} d'atterrir sur un D.



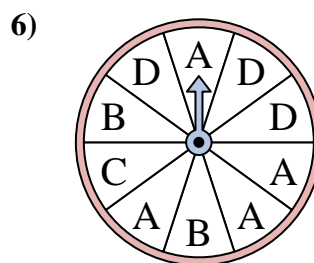
Le spinner a un % de chance {BLANC} d'atterrir sur un B.



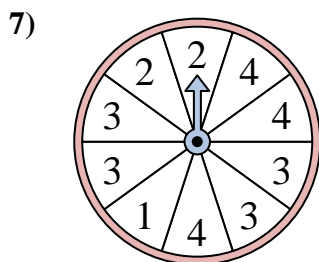
Le spinner a un % de chance {BLANC} d'atterrir sur un A.



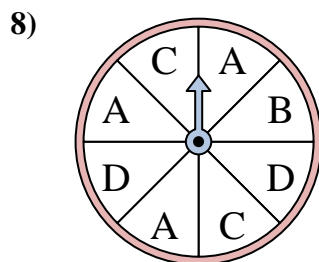
Le spinner a un % de chance {BLANC} d'atterrir sur un 3.



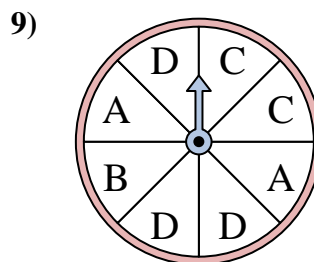
Le spinner a un % de chance {BLANC} d'atterrir sur un C.



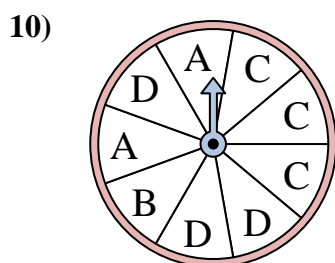
Le spinner a un % de chance {BLANC} d'atterrir sur un 4.



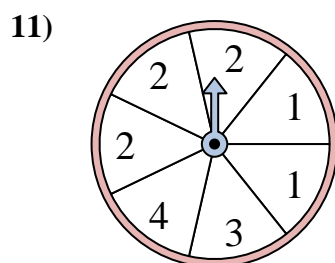
Le spinner a un % de chance {BLANC} d'atterrir sur un C.



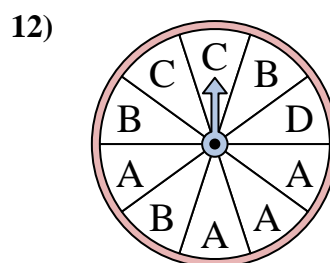
Le spinner a un % de chance {BLANC} d'atterrir sur un D.



Le spinner a un % de chance {BLANC} d'atterrir sur un A.



Le spinner a un % de chance {BLANC} d'atterrir sur un 1.

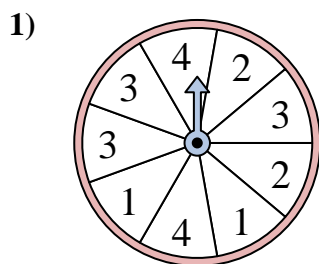


Le spinner a un % de chance {BLANC} d'atterrir sur un A.

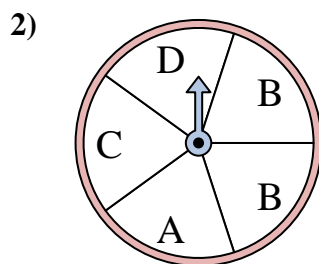
1. _____
2. _____
3. _____
4. _____
5. _____
6. _____
7. _____
8. _____
9. _____
10. _____
11. _____
12. _____



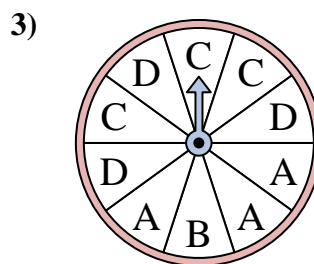
Résoudre chaque problème. Arrondissez votre réponse au dixième près.



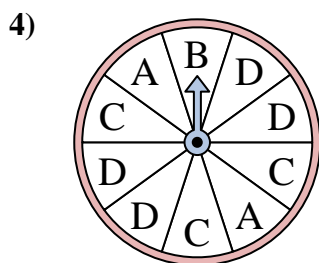
Le spinner a un % de chance {BLANC} d'atterrir sur un 2.



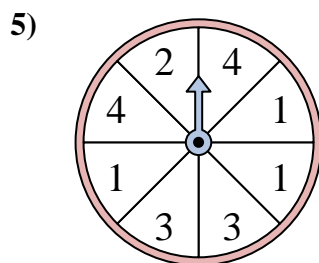
Le spinner a un % de chance {BLANC} d'atterrir sur un D.



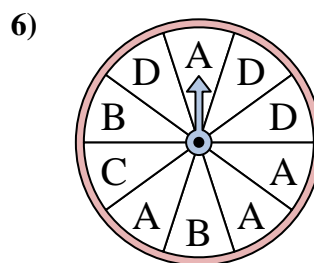
Le spinner a un % de chance {BLANC} d'atterrir sur un B.



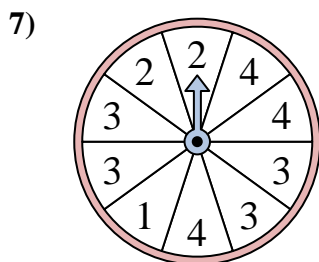
Le spinner a un % de chance {BLANC} d'atterrir sur un A.



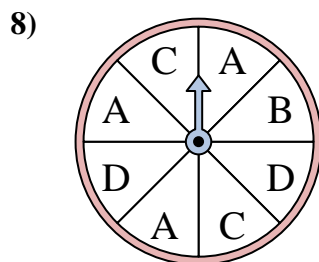
Le spinner a un % de chance {BLANC} d'atterrir sur un 3.



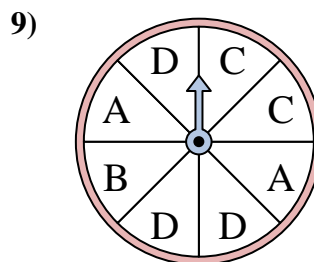
Le spinner a un % de chance {BLANC} d'atterrir sur un C.



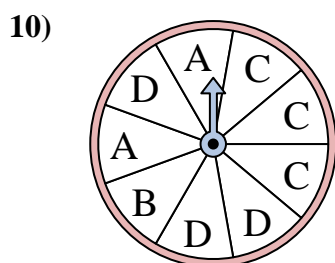
Le spinner a un % de chance {BLANC} d'atterrir sur un 4.



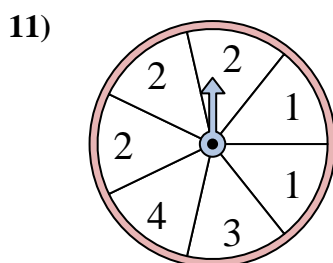
Le spinner a un % de chance {BLANC} d'atterrir sur un C.



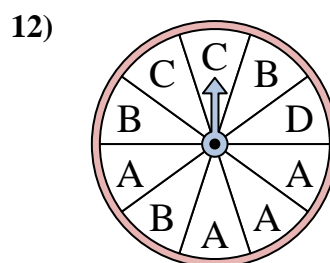
Le spinner a un % de chance {BLANC} d'atterrir sur un D.



Le spinner a un % de chance {BLANC} d'atterrir sur un A.



Le spinner a un % de chance {BLANC} d'atterrir sur un 1.



Le spinner a un % de chance {BLANC} d'atterrir sur un A.

Réponses

1. 22,2
2. 20
3. 10
4. 20
5. 25
6. 10
7. 30
8. 25
9. 37,5
10. 22,2
11. 28,6
12. 40