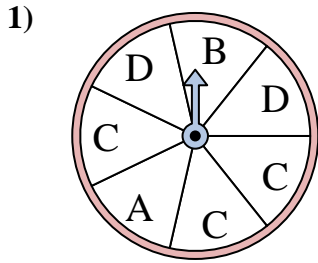


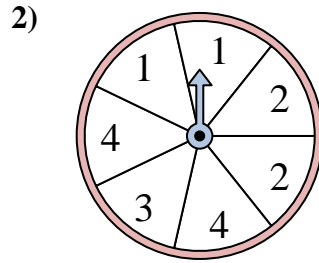


Résoudre chaque problème. Arrondissez votre réponse au dixième près.

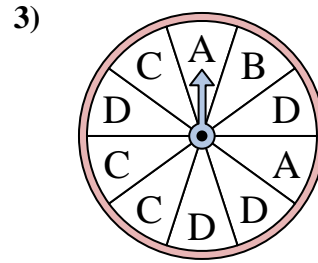
Réponses



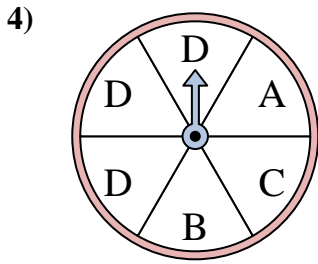
Le spinner a un % de chance {BLANC} d'atterrir sur un D.



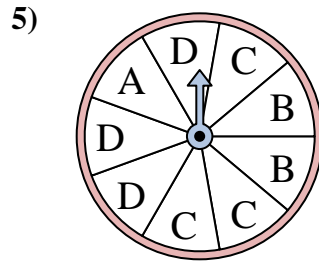
Le spinner a un % de chance {BLANC} d'atterrir sur un 3.



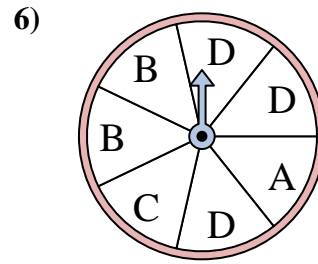
Le spinner a un % de chance {BLANC} d'atterrir sur un B.



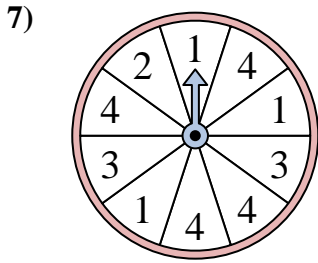
Le spinner a un % de chance {BLANC} d'atterrir sur un B.



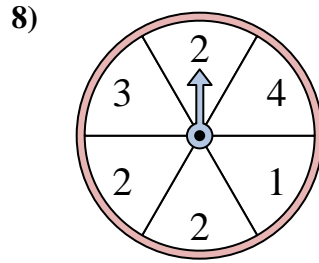
Le spinner a un % de chance {BLANC} d'atterrir sur un C.



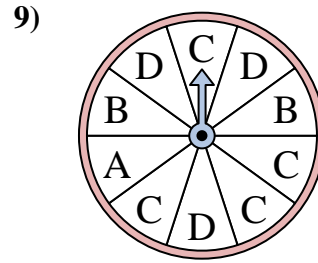
Le spinner a un % de chance {BLANC} d'atterrir sur un B.



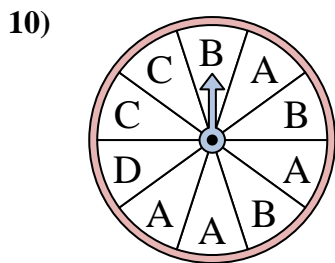
Le spinner a un % de chance {BLANC} d'atterrir sur un 4.



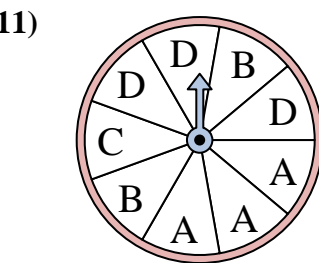
Le spinner a un % de chance {BLANC} d'atterrir sur un 1.



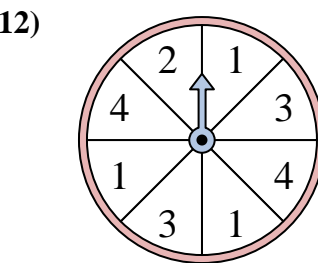
Le spinner a un % de chance {BLANC} d'atterrir sur un C.



Le spinner a un % de chance {BLANC} d'atterrir sur un D.



Le spinner a un % de chance {BLANC} d'atterrir sur un B.

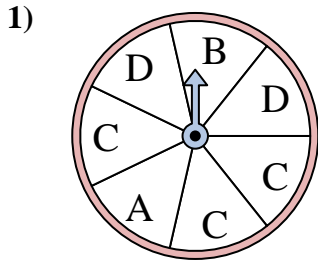


Le spinner a un % de chance {BLANC} d'atterrir sur un 4.

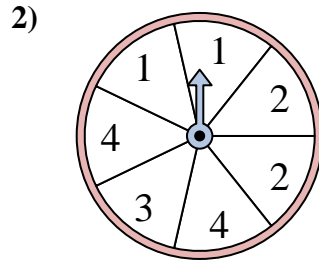
1. _____
2. _____
3. _____
4. _____
5. _____
6. _____
7. _____
8. _____
9. _____
10. _____
11. _____
12. _____



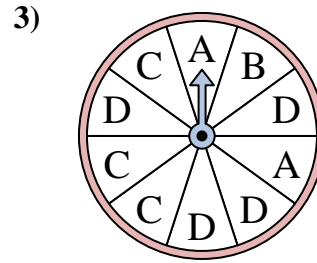
Résoudre chaque problème. Arrondissez votre réponse au dixième près.



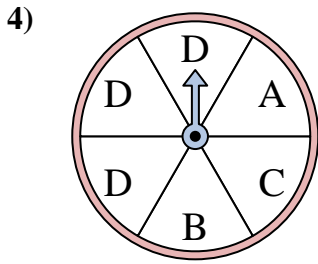
Le spinner a un % de chance {BLANC} d'atterrir sur un D.



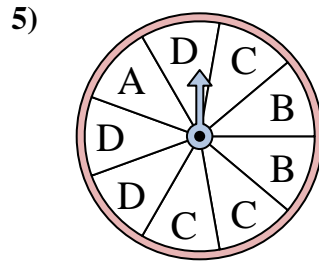
Le spinner a un % de chance {BLANC} d'atterrir sur un 3.



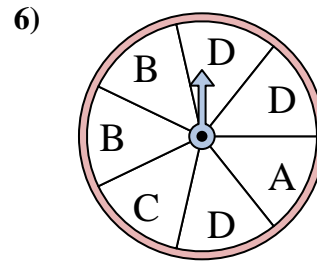
Le spinner a un % de chance {BLANC} d'atterrir sur un B.



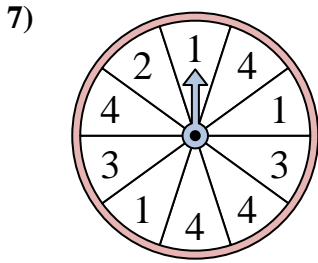
Le spinner a un % de chance {BLANC} d'atterrir sur un B.



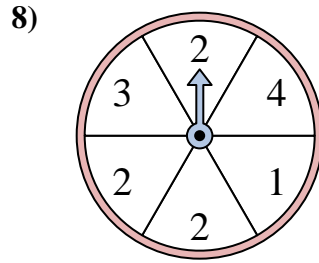
Le spinner a un % de chance {BLANC} d'atterrir sur un C.



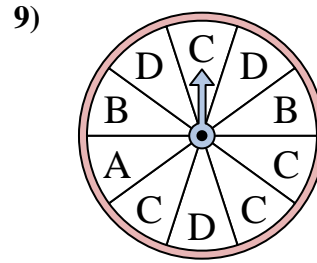
Le spinner a un % de chance {BLANC} d'atterrir sur un B.



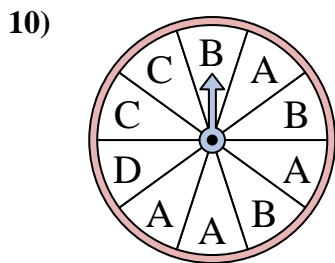
Le spinner a un % de chance {BLANC} d'atterrir sur un 4.



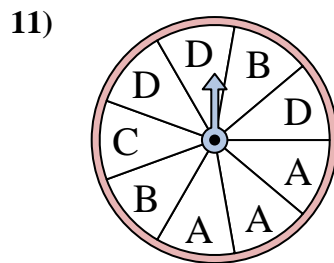
Le spinner a un % de chance {BLANC} d'atterrir sur un 1.



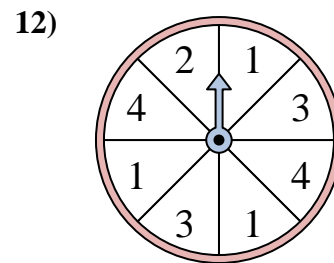
Le spinner a un % de chance {BLANC} d'atterrir sur un C.



Le spinner a un % de chance {BLANC} d'atterrir sur un D.



Le spinner a un % de chance {BLANC} d'atterrir sur un B.



Le spinner a un % de chance {BLANC} d'atterrir sur un 4.

Réponses1. 28,62. 14,33. 104. 16,75. 33,36. 28,67. 408. 16,79. 4010. 1011. 22,212. 25