



Utilisez la méthode visuelle pour résoudre chaque problème.

Réponses

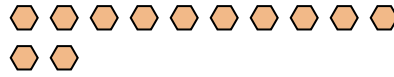
1) Il y a 18 étoiles ci-dessous.



Si vous deviez en retirer 10, combien en restera t-il??

$18 - 10 = ?$

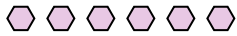
2) Il y a 12 hexagones ci-dessous.



Si vous deviez en retirer 2, combien en restera t-il??

$12 - 2 = ?$

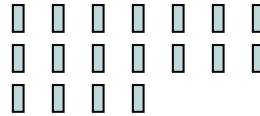
3) Il y a 6 hexagones ci-dessous.



Si vous deviez en retirer 2, combien en restera t-il??

$6 - 2 = ?$

4) Il y a 18 rectangles ci-dessous.



Si vous deviez en retirer 15, combien en restera t-il??

$18 - 15 = ?$

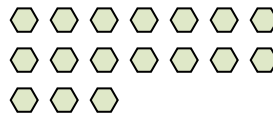
5) Il y a 7 étoiles ci-dessous.



Si vous deviez en retirer 3, combien en restera t-il??

$7 - 3 = ?$

6) Il y a 17 hexagones ci-dessous.



Si vous deviez en retirer 7, combien en restera t-il??

$17 - 7 = ?$

7) Il y a 3 triangles ci-dessous.



Si vous deviez en retirer 2, combien en restera t-il??

$3 - 2 = ?$

8) Il y a 2 rectangles ci-dessous.



Si vous deviez en retirer 1, combien en restera t-il??

$2 - 1 = ?$

9) Il y a 5 cercles ci-dessous.



Si vous deviez en retirer 2, combien en restera t-il??

$5 - 2 = ?$

10) Il y a 17 étoiles ci-dessous.



Si vous deviez en retirer 15, combien en restera t-il??

$17 - 15 = ?$

1. _____

2. _____

3. _____

4. _____

5. _____

6. _____

7. _____

8. _____

9. _____

10. _____



Utilisez la méthode visuelle pour résoudre chaque problème.

Réponses

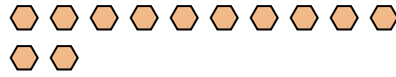
1) Il y a 18 étoiles ci-dessous.



Si vous deviez en retirer 10, combien en restera t-il??

$18 - 10 = ?$

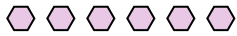
2) Il y a 12 hexagones ci-dessous.



Si vous deviez en retirer 2, combien en restera t-il??

$12 - 2 = ?$

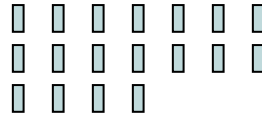
3) Il y a 6 hexagones ci-dessous.



Si vous deviez en retirer 2, combien en restera t-il??

$6 - 2 = ?$

4) Il y a 18 rectangles ci-dessous.



Si vous deviez en retirer 15, combien en restera t-il??

$18 - 15 = ?$

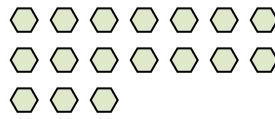
5) Il y a 7 étoiles ci-dessous.



Si vous deviez en retirer 3, combien en restera t-il??

$7 - 3 = ?$

6) Il y a 17 hexagones ci-dessous.



Si vous deviez en retirer 7, combien en restera t-il??

$17 - 7 = ?$

7) Il y a 3 triangles ci-dessous.



Si vous deviez en retirer 2, combien en restera t-il??

$3 - 2 = ?$

8) Il y a 2 rectangles ci-dessous.



Si vous deviez en retirer 1, combien en restera t-il??

$2 - 1 = ?$

9) Il y a 5 cercles ci-dessous.



Si vous deviez en retirer 2, combien en restera t-il??

$5 - 2 = ?$

10) Il y a 17 étoiles ci-dessous.



Si vous deviez en retirer 15, combien en restera t-il??

$17 - 15 = ?$

1. 8
2. 10
3. 4
4. 3
5. 4
6. 10
7. 1
8. 1
9. 3
10. 2