



Utilisez la méthode visuelle pour résoudre chaque problème.

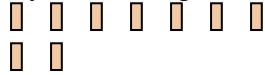
1) Il y a 10 triangles ci-dessous.



Si vous deviez en retirer 7, combien en restera t-il?

$$10 - 7 = ?$$

3) Il y a 9 rectangles ci-dessous.



Si vous deviez en retirer 7, combien en restera t-il?

$$9 - 7 = ?$$

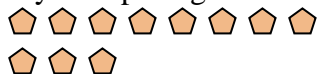
5) Il y a 14 étoiles ci-dessous.



Si vous deviez en retirer 3, combien en restera t-il?

$$14 - 3 = ?$$

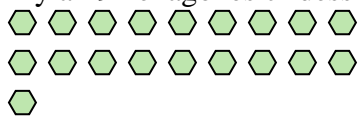
7) Il y a 11 pentagone ci-dessous.



Si vous deviez en retirer 9, combien en restera t-il?

$$11 - 9 = ?$$

9) Il y a 19 hexagones ci-dessous.



Si vous deviez en retirer 6, combien en restera t-il?

$$19 - 6 = ?$$

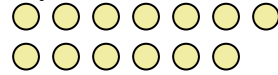
2) Il y a 19 étoiles ci-dessous.



Si vous deviez en retirer 14, combien en restera t-il?

$$19 - 14 = ?$$

4) Il y a 13 cercles ci-dessous.



Si vous deviez en retirer 1, combien en restera t-il?

$$13 - 1 = ?$$

6) Il y a 9 rectangles ci-dessous.



Si vous deviez en retirer 5, combien en restera t-il?

$$9 - 5 = ?$$

8) Il y a 4 étoiles ci-dessous.



Si vous deviez en retirer 3, combien en restera t-il?

$$4 - 3 = ?$$

10) Il y a 4 rectangles ci-dessous.



Si vous deviez en retirer 2, combien en restera t-il?

$$4 - 2 = ?$$

Réponses

1. _____

2. _____

3. _____

4. _____

5. _____

6. _____

7. _____

8. _____

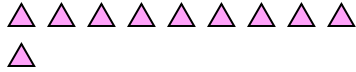
9. _____

10. _____



Utilisez la méthode visuelle pour résoudre chaque problème.

1) Il y a 10 triangles ci-dessous.



Si vous deviez en retirer 7, combien en restera t-il?

$10 - 7 = ?$

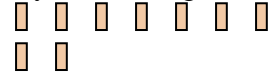
2) Il y a 19 étoiles ci-dessous.



Si vous deviez en retirer 14, combien en restera t-il?

$19 - 14 = ?$

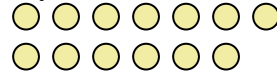
3) Il y a 9 rectangles ci-dessous.



Si vous deviez en retirer 7, combien en restera t-il?

$9 - 7 = ?$

4) Il y a 13 cercles ci-dessous.



Si vous deviez en retirer 1, combien en restera t-il?

$13 - 1 = ?$

5) Il y a 14 étoiles ci-dessous.



Si vous deviez en retirer 3, combien en restera t-il?

$14 - 3 = ?$

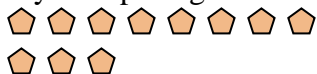
6) Il y a 9 rectangles ci-dessous.



Si vous deviez en retirer 5, combien en restera t-il?

$9 - 5 = ?$

7) Il y a 11 pentagone ci-dessous.



Si vous deviez en retirer 9, combien en restera t-il?

$11 - 9 = ?$

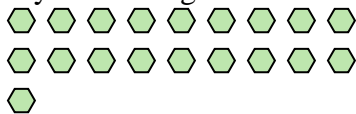
8) Il y a 4 étoiles ci-dessous.



Si vous deviez en retirer 3, combien en restera t-il?

$4 - 3 = ?$

9) Il y a 19 hexagones ci-dessous.



Si vous deviez en retirer 6, combien en restera t-il?

$19 - 6 = ?$

10) Il y a 4 rectangles ci-dessous.



Si vous deviez en retirer 2, combien en restera t-il?

$4 - 2 = ?$

Réponses1. 32. 53. 24. 125. 116. 47. 28. 19. 1310. 2