



Utilisez la méthode visuelle pour résoudre chaque problème.

1) Il y a 13 étoiles ci-dessous.



Si vous deviez en retirer 9, combien en restera t-il?

$13 - 9 = ?$

2) Il y a 8 triangles ci-dessous.



Si vous deviez en retirer 3, combien en restera t-il?

$8 - 3 = ?$

3) Il y a 7 triangles ci-dessous.



Si vous deviez en retirer 4, combien en restera t-il?

$7 - 4 = ?$

4) Il y a 6 rectangles ci-dessous.



Si vous deviez en retirer 1, combien en restera t-il?

$6 - 1 = ?$

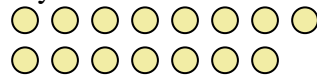
5) Il y a 8 carrés ci-dessous.



Si vous deviez en retirer 6, combien en restera t-il?

$8 - 6 = ?$

6) Il y a 15 cercles ci-dessous.



Si vous deviez en retirer 9, combien en restera t-il?

$15 - 9 = ?$

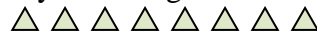
7) Il y a 12 pentagone ci-dessous.



Si vous deviez en retirer 1, combien en restera t-il?

$12 - 1 = ?$

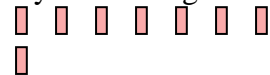
8) Il y a 8 triangles ci-dessous.



Si vous deviez en retirer 5, combien en restera t-il?

$8 - 5 = ?$

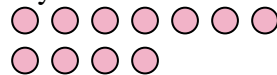
9) Il y a 8 rectangles ci-dessous.



Si vous deviez en retirer 1, combien en restera t-il?

$8 - 1 = ?$

10) Il y a 11 cercles ci-dessous.



Si vous deviez en retirer 6, combien en restera t-il?

$11 - 6 = ?$

Réponses

1. _____
2. _____
3. _____
4. _____
5. _____
6. _____
7. _____
8. _____
9. _____
10. _____



Utilisez la méthode visuelle pour résoudre chaque problème.

1) Il y a 13 étoiles ci-dessous.



Si vous deviez en retirer 9, combien en restera t-il?

$13 - 9 = ?$

2) Il y a 8 triangles ci-dessous.



Si vous deviez en retirer 3, combien en restera t-il?

$8 - 3 = ?$

3) Il y a 7 triangles ci-dessous.



Si vous deviez en retirer 4, combien en restera t-il?

$7 - 4 = ?$

4) Il y a 6 rectangles ci-dessous.



Si vous deviez en retirer 1, combien en restera t-il?

$6 - 1 = ?$

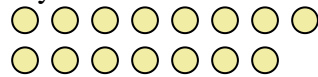
5) Il y a 8 carrés ci-dessous.



Si vous deviez en retirer 6, combien en restera t-il?

$8 - 6 = ?$

6) Il y a 15 cercles ci-dessous.



Si vous deviez en retirer 9, combien en restera t-il?

$15 - 9 = ?$

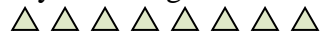
7) Il y a 12 pentagone ci-dessous.



Si vous deviez en retirer 1, combien en restera t-il?

$12 - 1 = ?$

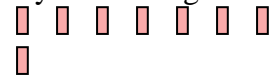
8) Il y a 8 triangles ci-dessous.



Si vous deviez en retirer 5, combien en restera t-il?

$8 - 5 = ?$

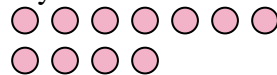
9) Il y a 8 rectangles ci-dessous.



Si vous deviez en retirer 1, combien en restera t-il?

$8 - 1 = ?$

10) Il y a 11 cercles ci-dessous.



Si vous deviez en retirer 6, combien en restera t-il?

$11 - 6 = ?$

Réponses1. 42. 53. 34. 55. 26. 67. 118. 39. 710. 5