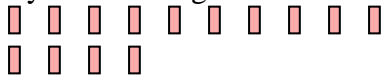




Utilisez la méthode visuelle pour résoudre chaque problème.

Réponses


1) Il y a 14 rectangles ci-dessous.



Si vous deviez en retirer 9, combien en restera t-il?

$14 - 9 = ?$

2) Il y a 10 triangles ci-dessous.



Si vous deviez en retirer 7, combien en restera t-il?

$10 - 7 = ?$

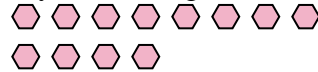
3) Il y a 7 cercles ci-dessous.



Si vous deviez en retirer 6, combien en restera t-il?

$7 - 6 = ?$

4) Il y a 12 hexagones ci-dessous.



Si vous deviez en retirer 5, combien en restera t-il?

$12 - 5 = ?$

5) Il y a 10 pentagone ci-dessous.



Si vous deviez en retirer 4, combien en restera t-il?

$10 - 4 = ?$

6) Il y a 8 carrés ci-dessous.



Si vous deviez en retirer 1, combien en restera t-il?

$8 - 1 = ?$

7) Il y a 13 triangles ci-dessous.



Si vous deviez en retirer 3, combien en restera t-il?

$13 - 3 = ?$

8) Il y a 11 rectangles ci-dessous.



Si vous deviez en retirer 8, combien en restera t-il?

$11 - 8 = ?$


9) Il y a 12 pentagone ci-dessous.



Si vous deviez en retirer 10, combien en restera t-il?

$12 - 10 = ?$

10) Il y a 19 cercles ci-dessous.



Si vous deviez en retirer 1, combien en restera t-il?

$19 - 1 = ?$

1. _____

2. _____

3. _____

4. _____

5. _____

6. _____

7. _____

8. _____

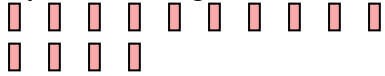
9. _____

10. _____



Utilisez la méthode visuelle pour résoudre chaque problème.

1) Il y a 14 rectangles ci-dessous.



Si vous deviez en retirer 9, combien en restera t-il?

$14 - 9 = ?$

2) Il y a 10 triangles ci-dessous.



Si vous deviez en retirer 7, combien en restera t-il?

$10 - 7 = ?$

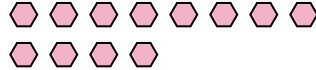
3) Il y a 7 cercles ci-dessous.



Si vous deviez en retirer 6, combien en restera t-il?

$7 - 6 = ?$

4) Il y a 12 hexagones ci-dessous.



Si vous deviez en retirer 5, combien en restera t-il?

$12 - 5 = ?$

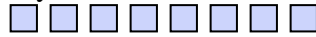
5) Il y a 10 pentagone ci-dessous.



Si vous deviez en retirer 4, combien en restera t-il?

$10 - 4 = ?$

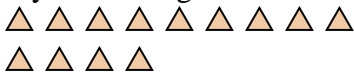
6) Il y a 8 carrés ci-dessous.



Si vous deviez en retirer 1, combien en restera t-il?

$8 - 1 = ?$

7) Il y a 13 triangles ci-dessous.



Si vous deviez en retirer 3, combien en restera t-il?

$13 - 3 = ?$

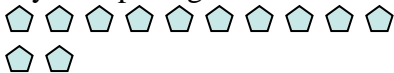
8) Il y a 11 rectangles ci-dessous.



Si vous deviez en retirer 8, combien en restera t-il?

$11 - 8 = ?$

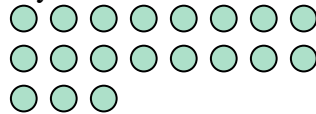
9) Il y a 12 pentagone ci-dessous.



Si vous deviez en retirer 10, combien en restera t-il?

$12 - 10 = ?$

10) Il y a 19 cercles ci-dessous.



Si vous deviez en retirer 1, combien en restera t-il?

$19 - 1 = ?$

Réponses1. 52. 33. 14. 75. 66. 77. 108. 39. 210. 18