



Utilisez la méthode visuelle pour résoudre chaque problème.

Réponses

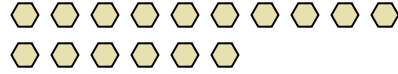
1) Il y a 16 étoiles ci-dessous.



Si vous deviez en retirer 12, combien en restera t-il?

$16 - 12 = ?$

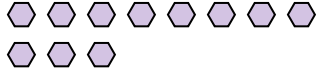
2) Il y a 16 hexagones ci-dessous.



Si vous deviez en retirer 7, combien en restera t-il?

$16 - 7 = ?$

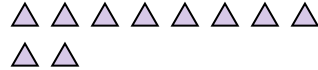
3) Il y a 11 hexagones ci-dessous.



Si vous deviez en retirer 9, combien en restera t-il?

$11 - 9 = ?$

4) Il y a 10 triangles ci-dessous.



Si vous deviez en retirer 1, combien en restera t-il?

$10 - 1 = ?$

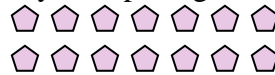
5) Il y a 5 carrés ci-dessous.



Si vous deviez en retirer 2, combien en restera t-il?

$5 - 2 = ?$

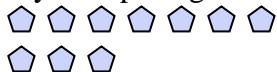
6) Il y a 14 pentagone ci-dessous.



Si vous deviez en retirer 11, combien en restera t-il?

$14 - 11 = ?$

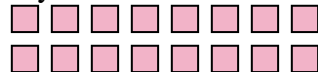
7) Il y a 10 pentagone ci-dessous.



Si vous deviez en retirer 3, combien en restera t-il?

$10 - 3 = ?$

8) Il y a 16 carrés ci-dessous.



Si vous deviez en retirer 11, combien en restera t-il?

$16 - 11 = ?$

9) Il y a 5 pentagone ci-dessous.



Si vous deviez en retirer 4, combien en restera t-il?

$5 - 4 = ?$

10) Il y a 6 carrés ci-dessous.



Si vous deviez en retirer 3, combien en restera t-il?

$6 - 3 = ?$

1. _____

2. _____

3. _____

4. _____

5. _____

6. _____

7. _____

8. _____

9. _____

10. _____



Utilisez la méthode visuelle pour résoudre chaque problème.

1) Il y a 16 étoiles ci-dessous.



Si vous deviez en retirer 12, combien en restera t-il?

$16 - 12 = ?$

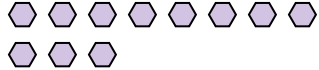
2) Il y a 16 hexagones ci-dessous.



Si vous deviez en retirer 7, combien en restera t-il?

$16 - 7 = ?$

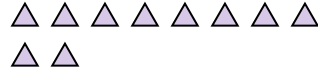
3) Il y a 11 hexagones ci-dessous.



Si vous deviez en retirer 9, combien en restera t-il?

$11 - 9 = ?$

4) Il y a 10 triangles ci-dessous.



Si vous deviez en retirer 1, combien en restera t-il?

$10 - 1 = ?$

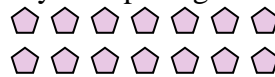
5) Il y a 5 carrés ci-dessous.



Si vous deviez en retirer 2, combien en restera t-il?

$5 - 2 = ?$

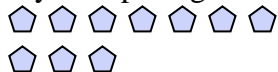
6) Il y a 14 pentagone ci-dessous.



Si vous deviez en retirer 11, combien en restera t-il?

$14 - 11 = ?$

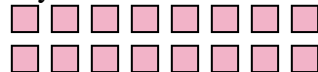
7) Il y a 10 pentagone ci-dessous.



Si vous deviez en retirer 3, combien en restera t-il?

$10 - 3 = ?$

8) Il y a 16 carrés ci-dessous.



Si vous deviez en retirer 11, combien en restera t-il?

$16 - 11 = ?$

9) Il y a 5 pentagone ci-dessous.



Si vous deviez en retirer 4, combien en restera t-il?

$5 - 4 = ?$

10) Il y a 6 carrés ci-dessous.



Si vous deviez en retirer 3, combien en restera t-il?

$6 - 3 = ?$

Réponses1. 42. 93. 24. 95. 36. 37. 78. 59. 110. 3