



Utilisez la méthode visuelle pour résoudre chaque problème.

Réponses

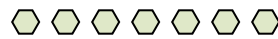
1) Il y a 5 triangles ci-dessous.



Si vous deviez en retirer 3, combien en restera t-il?

$5 - 3 = ?$

2) Il y a 14 hexagones ci-dessous.



Si vous deviez en retirer 8, combien en restera t-il?

$14 - 8 = ?$

3) Il y a 19 hexagones ci-dessous.



Si vous deviez en retirer 13, combien en restera t-il?

$19 - 13 = ?$

4) Il y a 2 cercles ci-dessous.



Si vous deviez en retirer 1, combien en restera t-il?

$2 - 1 = ?$

5) Il y a 12 triangles ci-dessous.



Si vous deviez en retirer 1, combien en restera t-il?

$12 - 1 = ?$

6) Il y a 9 triangles ci-dessous.



Si vous deviez en retirer 3, combien en restera t-il?

$9 - 3 = ?$

7) Il y a 19 cercles ci-dessous.



Si vous deviez en retirer 6, combien en restera t-il?

$19 - 6 = ?$

8) Il y a 13 carrés ci-dessous.



Si vous deviez en retirer 12, combien en restera t-il?

$13 - 12 = ?$

9) Il y a 18 étoiles ci-dessous.



Si vous deviez en retirer 4, combien en restera t-il?

$18 - 4 = ?$

10) Il y a 18 carrés ci-dessous.



Si vous deviez en retirer 6, combien en restera t-il?

$18 - 6 = ?$

1. _____

2. _____

3. _____

4. _____

5. _____

6. _____

7. _____

8. _____

9. _____

10. _____



Utilisez la méthode visuelle pour résoudre chaque problème.

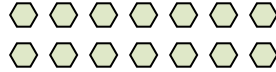
1) Il y a 5 triangles ci-dessous.



Si vous deviez en retirer 3, combien en restera t-il?

$5 - 3 = ?$

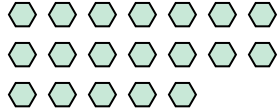
2) Il y a 14 hexagones ci-dessous.



Si vous deviez en retirer 8, combien en restera t-il?

$14 - 8 = ?$

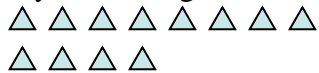
3) Il y a 19 hexagones ci-dessous.



Si vous deviez en retirer 13, combien en restera t-il?

$19 - 13 = ?$

5) Il y a 12 triangles ci-dessous.



Si vous deviez en retirer 1, combien en restera t-il?

$12 - 1 = ?$

4) Il y a 2 cercles ci-dessous.



Si vous deviez en retirer 1, combien en restera t-il?

$2 - 1 = ?$


6) Il y a 9 triangles ci-dessous.



Si vous deviez en retirer 3, combien en restera t-il?

$9 - 3 = ?$

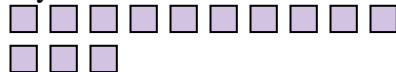
7) Il y a 19 cercles ci-dessous.



Si vous deviez en retirer 6, combien en restera t-il?

$19 - 6 = ?$

8) Il y a 13 carrés ci-dessous.



Si vous deviez en retirer 12, combien en restera t-il?

$13 - 12 = ?$

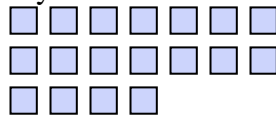
9) Il y a 18 étoiles ci-dessous.



Si vous deviez en retirer 4, combien en restera t-il?

$18 - 4 = ?$

10) Il y a 18 carrés ci-dessous.



Si vous deviez en retirer 6, combien en restera t-il?

$18 - 6 = ?$

Réponses1. 22. 63. 64. 15. 116. 67. 138. 19. 1410. 12