



Utilisez la méthode visuelle pour résoudre chaque problème.

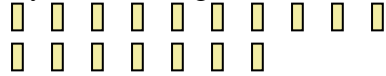
1) Il y a 5 pentagone ci-dessous.



Si vous deviez en retirer 1, combien en restera t-il?

$5 - 1 = ?$

2) Il y a 17 rectangles ci-dessous.



Si vous deviez en retirer 9, combien en restera t-il?

$17 - 9 = ?$

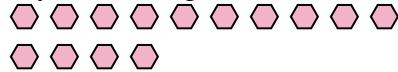
3) Il y a 7 triangles ci-dessous.



Si vous deviez en retirer 5, combien en restera t-il?

$7 - 5 = ?$

4) Il y a 14 hexagones ci-dessous.



Si vous deviez en retirer 5, combien en restera t-il?

$14 - 5 = ?$

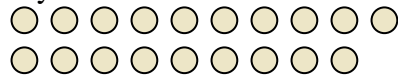
5) Il y a 8 pentagone ci-dessous.



Si vous deviez en retirer 2, combien en restera t-il?

$8 - 2 = ?$

6) Il y a 19 cercles ci-dessous.



Si vous deviez en retirer 7, combien en restera t-il?

$19 - 7 = ?$


7) Il y a 14 rectangles ci-dessous.



Si vous deviez en retirer 13, combien en restera t-il?

$14 - 13 = ?$

8) Il y a 19 cercles ci-dessous.



Si vous deviez en retirer 11, combien en restera t-il?

$19 - 11 = ?$

9) Il y a 8 étoiles ci-dessous.



Si vous deviez en retirer 7, combien en restera t-il?

$8 - 7 = ?$

10) Il y a 13 pentagone ci-dessous.



Si vous deviez en retirer 7, combien en restera t-il?

$13 - 7 = ?$

Réponses

1. _____

2. _____

3. _____

4. _____

5. _____

6. _____

7. _____

8. _____

9. _____

10. _____



Utilisez la méthode visuelle pour résoudre chaque problème.

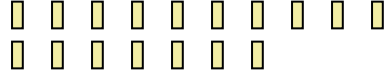
1) Il y a 5 pentagone ci-dessous.



Si vous deviez en retirer 1, combien en restera t-il?

$5 - 1 = ?$

2) Il y a 17 rectangles ci-dessous.



Si vous deviez en retirer 9, combien en restera t-il?

$17 - 9 = ?$

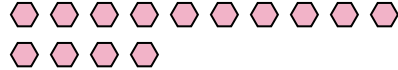
3) Il y a 7 triangles ci-dessous.



Si vous deviez en retirer 5, combien en restera t-il?

$7 - 5 = ?$

4) Il y a 14 hexagones ci-dessous.



Si vous deviez en retirer 5, combien en restera t-il?

$14 - 5 = ?$

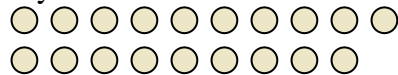
5) Il y a 8 pentagone ci-dessous.



Si vous deviez en retirer 2, combien en restera t-il?

$8 - 2 = ?$

6) Il y a 19 cercles ci-dessous.



Si vous deviez en retirer 7, combien en restera t-il?

$19 - 7 = ?$

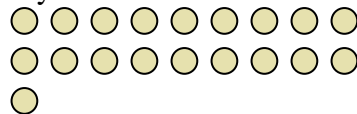
7) Il y a 14 rectangles ci-dessous.



Si vous deviez en retirer 13, combien en restera t-il?

$14 - 13 = ?$

8) Il y a 19 cercles ci-dessous.



Si vous deviez en retirer 11, combien en restera t-il?

$19 - 11 = ?$

9) Il y a 8 étoiles ci-dessous.



Si vous deviez en retirer 7, combien en restera t-il?

$8 - 7 = ?$

10) Il y a 13 pentagone ci-dessous.



Si vous deviez en retirer 7, combien en restera t-il?

$13 - 7 = ?$

Réponses1. 42. 83. 24. 95. 66. 127. 18. 89. 110. 6