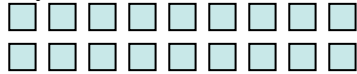




Utilisez la méthode visuelle pour résoudre chaque problème.

Réponses

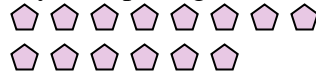
1) Il y a 18 carrés ci-dessous.



Si vous deviez en retirer 12, combien en restera t-il?

$18 - 12 = ?$

2) Il y a 14 pentagone ci-dessous.



Si vous deviez en retirer 6, combien en restera t-il?

$14 - 6 = ?$

3) Il y a 11 étoiles ci-dessous.



Si vous deviez en retirer 8, combien en restera t-il?

$11 - 8 = ?$

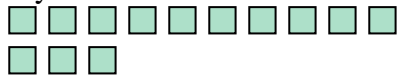
4) Il y a 2 triangles ci-dessous.



Si vous deviez en retirer 1, combien en restera t-il?

$2 - 1 = ?$

5) Il y a 13 carrés ci-dessous.



Si vous deviez en retirer 2, combien en restera t-il?

$13 - 2 = ?$

6) Il y a 7 rectangles ci-dessous.



Si vous deviez en retirer 4, combien en restera t-il?

$7 - 4 = ?$

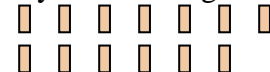
7) Il y a 10 carrés ci-dessous.



Si vous deviez en retirer 2, combien en restera t-il?

$10 - 2 = ?$

8) Il y a 13 rectangles ci-dessous.



Si vous deviez en retirer 1, combien en restera t-il?

$13 - 1 = ?$

9) Il y a 17 étoiles ci-dessous.



Si vous deviez en retirer 6, combien en restera t-il?

$17 - 6 = ?$

10) Il y a 7 étoiles ci-dessous.



Si vous deviez en retirer 2, combien en restera t-il?

$7 - 2 = ?$

1. _____

2. _____

3. _____

4. _____

5. _____

6. _____

7. _____

8. _____

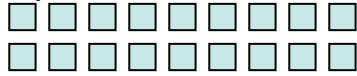
9. _____

10. _____



Utilisez la méthode visuelle pour résoudre chaque problème.

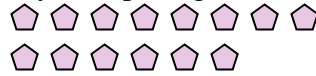
1) Il y a 18 carrés ci-dessous.



Si vous deviez en retirer 12, combien en restera t-il?

$18 - 12 = ?$

2) Il y a 14 pentagone ci-dessous.



Si vous deviez en retirer 6, combien en restera t-il?

$14 - 6 = ?$

3) Il y a 11 étoiles ci-dessous.



Si vous deviez en retirer 8, combien en restera t-il?

$11 - 8 = ?$

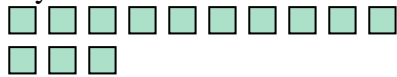
4) Il y a 2 triangles ci-dessous.



Si vous deviez en retirer 1, combien en restera t-il?

$2 - 1 = ?$

5) Il y a 13 carrés ci-dessous.



Si vous deviez en retirer 2, combien en restera t-il?

$13 - 2 = ?$

6) Il y a 7 rectangles ci-dessous.



Si vous deviez en retirer 4, combien en restera t-il?

$7 - 4 = ?$

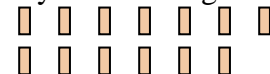
7) Il y a 10 carrés ci-dessous.



Si vous deviez en retirer 2, combien en restera t-il?

$10 - 2 = ?$

8) Il y a 13 rectangles ci-dessous.



Si vous deviez en retirer 1, combien en restera t-il?

$13 - 1 = ?$

9) Il y a 17 étoiles ci-dessous.



Si vous deviez en retirer 6, combien en restera t-il?

$17 - 6 = ?$

10) Il y a 7 étoiles ci-dessous.



Si vous deviez en retirer 2, combien en restera t-il?

$7 - 2 = ?$

Réponses1. 62. 83. 34. 15. 116. 37. 88. 129. 1110. 5