




Utilisez la méthode visuelle pour résoudre chaque problème.

1) Il y a 3 carrés ci-dessous.



Si vous deviez en retirer 2, combien en restera t-il?

$$3 - 2 = ?$$

2) Il y a 8 triangles ci-dessous.



Si vous deviez en retirer 3, combien en restera t-il?

$$8 - 3 = ?$$

3) Il y a 17 étoiles ci-dessous.



Si vous deviez en retirer 13, combien en restera t-il?

$$17 - 13 = ?$$

4) Il y a 14 carrés ci-dessous.



Si vous deviez en retirer 4, combien en restera t-il?

$$14 - 4 = ?$$

5) Il y a 17 pentagone ci-dessous.



Si vous deviez en retirer 11, combien en restera t-il?

$$17 - 11 = ?$$

6) Il y a 17 hexagones ci-dessous.



Si vous deviez en retirer 15, combien en restera t-il?

$$17 - 15 = ?$$

7) Il y a 5 triangles ci-dessous.



Si vous deviez en retirer 2, combien en restera t-il?

$$5 - 2 = ?$$

8) Il y a 8 cercles ci-dessous.



Si vous deviez en retirer 5, combien en restera t-il?

$$8 - 5 = ?$$

9) Il y a 18 étoiles ci-dessous.



Si vous deviez en retirer 8, combien en restera t-il?

$$18 - 8 = ?$$

10) Il y a 3 cercles ci-dessous.



Si vous deviez en retirer 1, combien en restera t-il?

$$3 - 1 = ?$$

## Réponses

1. \_\_\_\_\_

2. \_\_\_\_\_

3. \_\_\_\_\_

4. \_\_\_\_\_

5. \_\_\_\_\_

6. \_\_\_\_\_

7. \_\_\_\_\_

8. \_\_\_\_\_

9. \_\_\_\_\_

10. \_\_\_\_\_



Utilisez la méthode visuelle pour résoudre chaque problème.

1) Il y a 3 carrés ci-dessous.



Si vous deviez en retirer 2, combien en restera t-il?

$3 - 2 = ?$

2) Il y a 8 triangles ci-dessous.



Si vous deviez en retirer 3, combien en restera t-il?

$8 - 3 = ?$

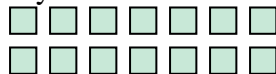
3) Il y a 17 étoiles ci-dessous.



Si vous deviez en retirer 13, combien en restera t-il?

$17 - 13 = ?$

4) Il y a 14 carrés ci-dessous.



Si vous deviez en retirer 4, combien en restera t-il?

$14 - 4 = ?$

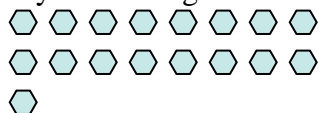
5) Il y a 17 pentagone ci-dessous.



Si vous deviez en retirer 11, combien en restera t-il?

$17 - 11 = ?$

6) Il y a 17 hexagones ci-dessous.



Si vous deviez en retirer 15, combien en restera t-il?

$17 - 15 = ?$

7) Il y a 5 triangles ci-dessous.



Si vous deviez en retirer 2, combien en restera t-il?

$5 - 2 = ?$

8) Il y a 8 cercles ci-dessous.



Si vous deviez en retirer 5, combien en restera t-il?

$8 - 5 = ?$

9) Il y a 18 étoiles ci-dessous.



Si vous deviez en retirer 8, combien en restera t-il?

$18 - 8 = ?$

10) Il y a 3 cercles ci-dessous.



Si vous deviez en retirer 1, combien en restera t-il?

$3 - 1 = ?$

**Réponses**1. 12. 53. 44. 105. 66. 27. 38. 39. 1010. 2