

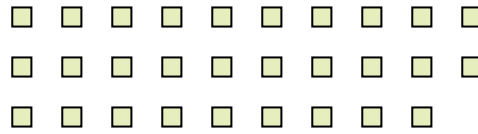


Utilisez les formes pour répondre aux questions.

Ex) Il y a 15 formes ci-dessous. Combien de groupes de 6 pouvez-vous faire? Combien en restera t-il?



1) Il y a 29 formes ci-dessous. Combien de groupes de 8 pouvez-vous faire? Combien en restera t-il?

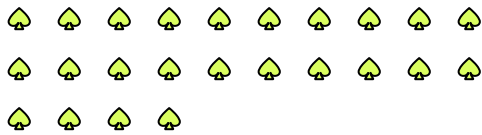


Réponses

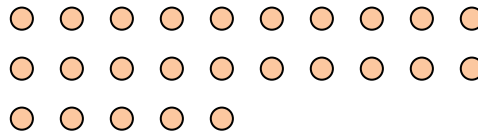
Ex. 2

Ex. 3

2) Il y a 24 formes ci-dessous. Combien de groupes de 9 pouvez-vous faire? Combien en restera t-il?



3) Il y a 25 formes ci-dessous. Combien de groupes de 7 pouvez-vous faire? Combien en restera t-il?



4) Il y a 18 formes ci-dessous. Combien de groupes de 2 pouvez-vous faire? Combien en restera t-il?



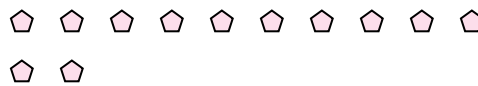
5) Il y a 12 formes ci-dessous. Combien de groupes de 9 pouvez-vous faire? Combien en restera t-il?



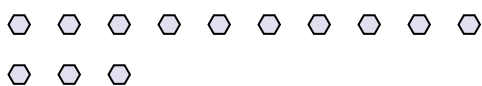
6) Il y a 12 formes ci-dessous. Combien de groupes de 6 pouvez-vous faire? Combien en restera t-il?



7) Il y a 12 formes ci-dessous. Combien de groupes de 3 pouvez-vous faire? Combien en restera t-il?



8) Il y a 13 formes ci-dessous. Combien de groupes de 6 pouvez-vous faire? Combien en restera t-il?



9) Il y a 17 formes ci-dessous. Combien de groupes de 3 pouvez-vous faire? Combien en restera t-il?



1. \_\_\_\_\_

1. \_\_\_\_\_

2. \_\_\_\_\_

2. \_\_\_\_\_

3. \_\_\_\_\_

3. \_\_\_\_\_

4. \_\_\_\_\_

4. \_\_\_\_\_

5. \_\_\_\_\_

5. \_\_\_\_\_

6. \_\_\_\_\_

6. \_\_\_\_\_

7. \_\_\_\_\_

7. \_\_\_\_\_

8. \_\_\_\_\_

8. \_\_\_\_\_

9. \_\_\_\_\_

9. \_\_\_\_\_

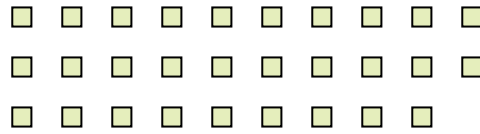


Utilisez les formes pour répondre aux questions.

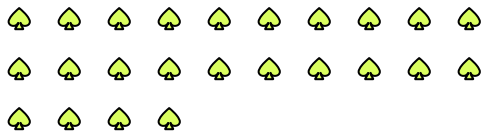
Ex) Il y a 15 formes ci-dessous. Combien de groupes de 6 pouvez-vous faire? Combien en restera t-il?



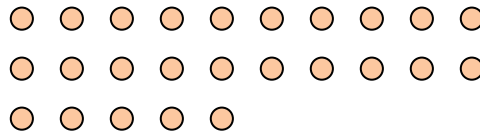
1) Il y a 29 formes ci-dessous. Combien de groupes de 8 pouvez-vous faire? Combien en restera t-il?



2) Il y a 24 formes ci-dessous. Combien de groupes de 9 pouvez-vous faire? Combien en restera t-il?




3) Il y a 25 formes ci-dessous. Combien de groupes de 7 pouvez-vous faire? Combien en restera t-il?



4) Il y a 18 formes ci-dessous. Combien de groupes de 2 pouvez-vous faire? Combien en restera t-il?



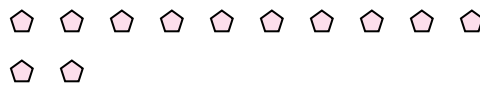
5) Il y a 12 formes ci-dessous. Combien de groupes de 9 pouvez-vous faire? Combien en restera t-il?



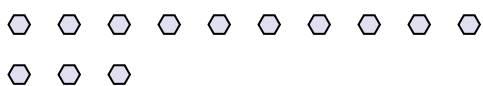
6) Il y a 12 formes ci-dessous. Combien de groupes de 6 pouvez-vous faire? Combien en restera t-il?



7) Il y a 12 formes ci-dessous. Combien de groupes de 3 pouvez-vous faire? Combien en restera t-il?



8) Il y a 13 formes ci-dessous. Combien de groupes de 6 pouvez-vous faire? Combien en restera t-il?



9) Il y a 17 formes ci-dessous. Combien de groupes de 3 pouvez-vous faire? Combien en restera t-il?



Réponses

Ex. 2

Ex. 3

1. 3

1. 5

2. 2

2. 6

3. 3

3. 4

4. 9

4. 0

5. 1

5. 3

6. 2

6. 0

7. 4

7. 0

8. 2

8. 1

9. 5

9. 2