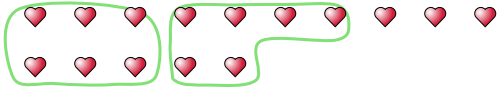




Utilisez les formes pour répondre aux questions.

Ex) Il y a 15 formes ci-dessous. Combien de groupes de 6 pouvez-vous faire? Combien en restera t-il?



1) Il y a 23 formes ci-dessous. Combien de groupes de 4 pouvez-vous faire? Combien en restera t-il?

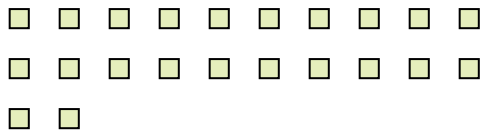


Réponses

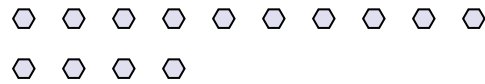
Ex. 2

Ex. 3

2) Il y a 22 formes ci-dessous. Combien de groupes de 9 pouvez-vous faire? Combien en restera t-il?



3) Il y a 14 formes ci-dessous. Combien de groupes de 3 pouvez-vous faire? Combien en restera t-il?



1. \_\_\_\_\_

1. \_\_\_\_\_


2. \_\_\_\_\_

2. \_\_\_\_\_

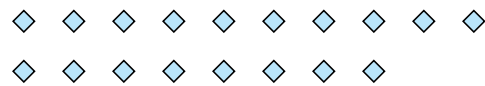
3. \_\_\_\_\_

3. \_\_\_\_\_

4) Il y a 22 formes ci-dessous. Combien de groupes de 2 pouvez-vous faire? Combien en restera t-il?



5) Il y a 18 formes ci-dessous. Combien de groupes de 2 pouvez-vous faire? Combien en restera t-il?




4. \_\_\_\_\_

4. \_\_\_\_\_

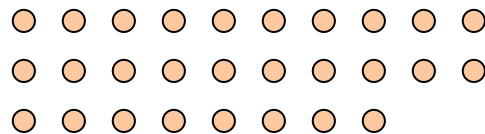
5. \_\_\_\_\_

5. \_\_\_\_\_

6) Il y a 26 formes ci-dessous. Combien de groupes de 2 pouvez-vous faire? Combien en restera t-il?



7) Il y a 28 formes ci-dessous. Combien de groupes de 4 pouvez-vous faire? Combien en restera t-il?



6. \_\_\_\_\_

6. \_\_\_\_\_

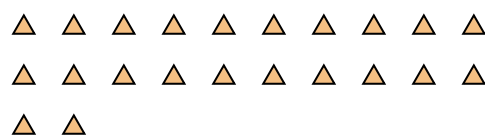
7. \_\_\_\_\_

7. \_\_\_\_\_

8) Il y a 22 formes ci-dessous. Combien de groupes de 5 pouvez-vous faire? Combien en restera t-il?



9) Il y a 22 formes ci-dessous. Combien de groupes de 2 pouvez-vous faire? Combien en restera t-il?



8. \_\_\_\_\_

8. \_\_\_\_\_

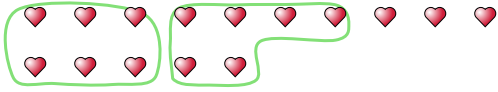
9. \_\_\_\_\_

9. \_\_\_\_\_



Utilisez les formes pour répondre aux questions.

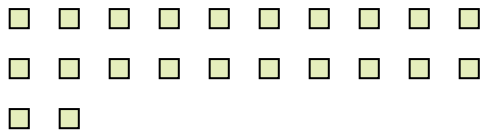
Ex) Il y a 15 formes ci-dessous. Combien de groupes de 6 pouvez-vous faire? Combien en restera t-il?



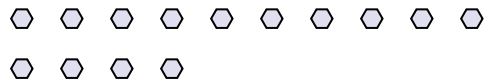
1) Il y a 23 formes ci-dessous. Combien de groupes de 4 pouvez-vous faire? Combien en restera t-il?




2) Il y a 22 formes ci-dessous. Combien de groupes de 9 pouvez-vous faire? Combien en restera t-il?



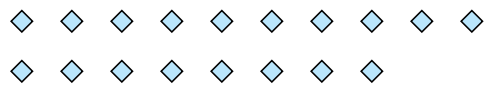
3) Il y a 14 formes ci-dessous. Combien de groupes de 3 pouvez-vous faire? Combien en restera t-il?



4) Il y a 22 formes ci-dessous. Combien de groupes de 2 pouvez-vous faire? Combien en restera t-il?



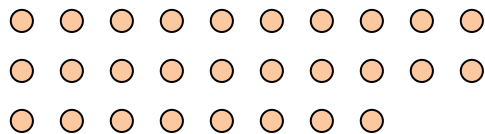
5) Il y a 18 formes ci-dessous. Combien de groupes de 2 pouvez-vous faire? Combien en restera t-il?



6) Il y a 26 formes ci-dessous. Combien de groupes de 2 pouvez-vous faire? Combien en restera t-il?




7) Il y a 28 formes ci-dessous. Combien de groupes de 4 pouvez-vous faire? Combien en restera t-il?



8) Il y a 22 formes ci-dessous. Combien de groupes de 5 pouvez-vous faire? Combien en restera t-il?



9) Il y a 22 formes ci-dessous. Combien de groupes de 2 pouvez-vous faire? Combien en restera t-il?



**Réponses**

Ex. 2

Ex. 3

1. 5

1. 3

2. 2

2. 4

3. 4

3. 2

4. 11

4. 0

5. 9

5. 0

6. 13

6. 0

7. 7

7. 0

8. 4

8. 2

9. 11

9. 0