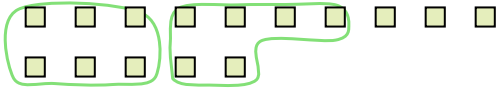





Utilisez les formes pour répondre aux questions.

Ex) Il y a 15 formes ci-dessous. Combien de groupes de 6 pouvez-vous faire? Combien en restera t-il?



1) Il y a 28 formes ci-dessous. Combien de groupes de 6 pouvez-vous faire? Combien en restera t-il?



Réponses

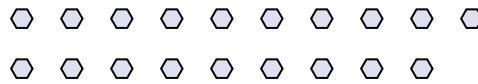
Ex. 2

Ex. 3

2) Il y a 21 formes ci-dessous. Combien de groupes de 9 pouvez-vous faire? Combien en restera t-il?



3) Il y a 19 formes ci-dessous. Combien de groupes de 9 pouvez-vous faire? Combien en restera t-il?



1. _____

1. _____

2. _____

2. _____

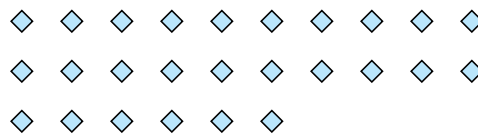
3. _____

3. _____

4) Il y a 14 formes ci-dessous. Combien de groupes de 4 pouvez-vous faire? Combien en restera t-il?



5) Il y a 26 formes ci-dessous. Combien de groupes de 4 pouvez-vous faire? Combien en restera t-il?




4. _____

4. _____


5. _____

5. _____

6) Il y a 18 formes ci-dessous. Combien de groupes de 3 pouvez-vous faire? Combien en restera t-il?



7) Il y a 16 formes ci-dessous. Combien de groupes de 2 pouvez-vous faire? Combien en restera t-il?



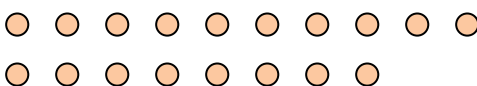
6. _____

6. _____

7. _____

7. _____

8) Il y a 18 formes ci-dessous. Combien de groupes de 7 pouvez-vous faire? Combien en restera t-il?



9) Il y a 11 formes ci-dessous. Combien de groupes de 2 pouvez-vous faire? Combien en restera t-il?



8. _____

8. _____

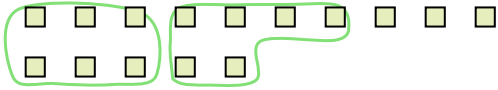
9. _____

9. _____




Utilisez les formes pour répondre aux questions.

Ex) Il y a 15 formes ci-dessous. Combien de groupes de 6 pouvez-vous faire? Combien en restera t-il?



1) Il y a 28 formes ci-dessous. Combien de groupes de 6 pouvez-vous faire? Combien en restera t-il?



Réponses

Ex. 2

Ex. 3

1. 4

1. 4

2. 2

2. 3

3. 2

3. 1

4. 3

4. 2

5. 6

5. 2

6. 6

6. 0

7. 8

7. 0

8. 2

8. 4

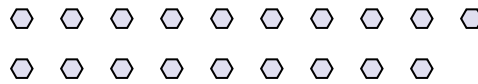
9. 5

9. 1

2) Il y a 21 formes ci-dessous. Combien de groupes de 9 pouvez-vous faire? Combien en restera t-il?



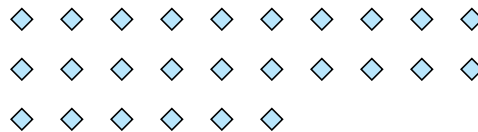
3) Il y a 19 formes ci-dessous. Combien de groupes de 9 pouvez-vous faire? Combien en restera t-il?



4) Il y a 14 formes ci-dessous. Combien de groupes de 4 pouvez-vous faire? Combien en restera t-il?




5) Il y a 26 formes ci-dessous. Combien de groupes de 4 pouvez-vous faire? Combien en restera t-il?



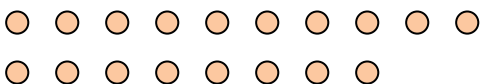
6) Il y a 18 formes ci-dessous. Combien de groupes de 3 pouvez-vous faire? Combien en restera t-il?



7) Il y a 16 formes ci-dessous. Combien de groupes de 2 pouvez-vous faire? Combien en restera t-il?



8) Il y a 18 formes ci-dessous. Combien de groupes de 7 pouvez-vous faire? Combien en restera t-il?



9) Il y a 11 formes ci-dessous. Combien de groupes de 2 pouvez-vous faire? Combien en restera t-il?

