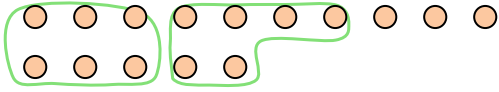


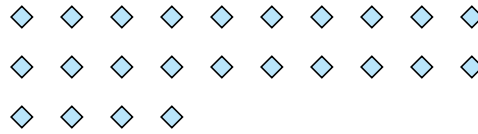


Utilisez les formes pour répondre aux questions.

Ex) Il y a 15 formes ci-dessous. Combien de groupes de 6 pouvez-vous faire? Combien en restera t-il?



1) Il y a 24 formes ci-dessous. Combien de groupes de 6 pouvez-vous faire? Combien en restera t-il?



Réponses

Ex. 2

Ex. 3

1. _____

1. _____

2. _____

2. _____

3. _____

3. _____

4. _____

4. _____

5. _____

5. _____

6. _____

6. _____

7. _____

7. _____


8. _____

8. _____

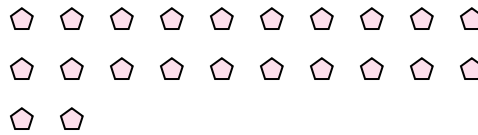
9. _____

9. _____

2) Il y a 21 formes ci-dessous. Combien de groupes de 2 pouvez-vous faire? Combien en restera t-il?



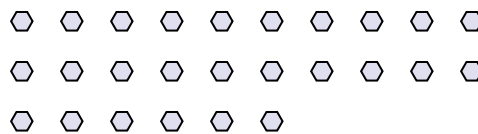
3) Il y a 22 formes ci-dessous. Combien de groupes de 8 pouvez-vous faire? Combien en restera t-il?




4) Il y a 15 formes ci-dessous. Combien de groupes de 5 pouvez-vous faire? Combien en restera t-il?



5) Il y a 26 formes ci-dessous. Combien de groupes de 7 pouvez-vous faire? Combien en restera t-il?



6) Il y a 29 formes ci-dessous. Combien de groupes de 6 pouvez-vous faire? Combien en restera t-il?



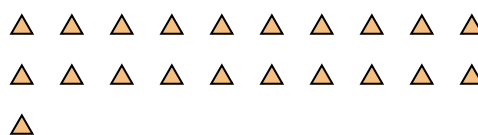
7) Il y a 30 formes ci-dessous. Combien de groupes de 5 pouvez-vous faire? Combien en restera t-il?



8) Il y a 12 formes ci-dessous. Combien de groupes de 5 pouvez-vous faire? Combien en restera t-il?



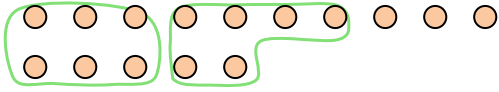
9) Il y a 21 formes ci-dessous. Combien de groupes de 7 pouvez-vous faire? Combien en restera t-il?



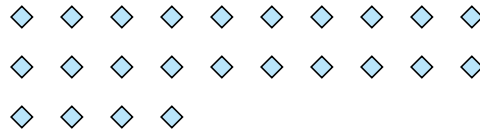


Utilisez les formes pour répondre aux questions.


Ex) Il y a 15 formes ci-dessous. Combien de groupes de 6 pouvez-vous faire? Combien en restera t-il?



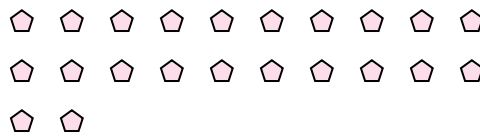
1) Il y a 24 formes ci-dessous. Combien de groupes de 6 pouvez-vous faire? Combien en restera t-il?



2) Il y a 21 formes ci-dessous. Combien de groupes de 2 pouvez-vous faire? Combien en restera t-il?



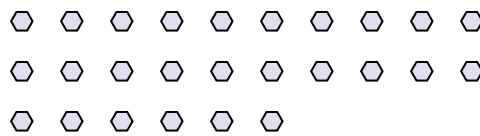
3) Il y a 22 formes ci-dessous. Combien de groupes de 8 pouvez-vous faire? Combien en restera t-il?




4) Il y a 15 formes ci-dessous. Combien de groupes de 5 pouvez-vous faire? Combien en restera t-il?



5) Il y a 26 formes ci-dessous. Combien de groupes de 7 pouvez-vous faire? Combien en restera t-il?



6) Il y a 29 formes ci-dessous. Combien de groupes de 6 pouvez-vous faire? Combien en restera t-il?



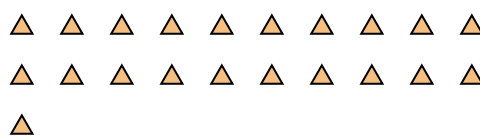
7) Il y a 30 formes ci-dessous. Combien de groupes de 5 pouvez-vous faire? Combien en restera t-il?



8) Il y a 12 formes ci-dessous. Combien de groupes de 5 pouvez-vous faire? Combien en restera t-il?



9) Il y a 21 formes ci-dessous. Combien de groupes de 7 pouvez-vous faire? Combien en restera t-il?



Réponses

Ex. 2

Ex. 3

1. 4

1. 0

2. 10

2. 1

3. 2

3. 6

4. 3

4. 0

5. 3

5. 5

6. 4

6. 5

7. 6

7. 0

8. 2

8. 2

9. 3

9. 0