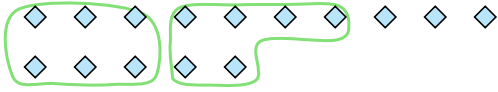




Utilisez les formes pour répondre aux questions.

Ex) Il y a 15 formes ci-dessous. Combien de groupes de 6 pouvez-vous faire? Combien en restera t-il?



1) Il y a 12 formes ci-dessous. Combien de groupes de 5 pouvez-vous faire? Combien en restera t-il?

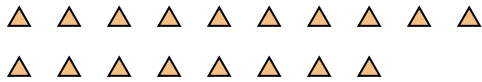


Réponses

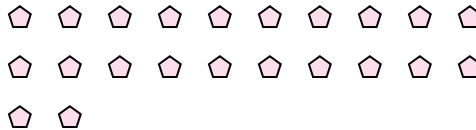
Ex. 2

Ex. 3

2) Il y a 18 formes ci-dessous. Combien de groupes de 2 pouvez-vous faire? Combien en restera t-il?



3) Il y a 22 formes ci-dessous. Combien de groupes de 5 pouvez-vous faire? Combien en restera t-il?



1. _____

1. _____

2. _____

2. _____

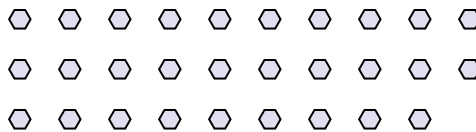
3. _____

3. _____

4) Il y a 10 formes ci-dessous. Combien de groupes de 9 pouvez-vous faire? Combien en restera t-il?



5) Il y a 29 formes ci-dessous. Combien de groupes de 6 pouvez-vous faire? Combien en restera t-il?



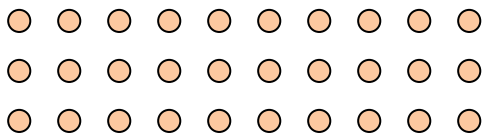
4. _____

4. _____

5. _____

5. _____

6) Il y a 30 formes ci-dessous. Combien de groupes de 7 pouvez-vous faire? Combien en restera t-il?



7) Il y a 29 formes ci-dessous. Combien de groupes de 6 pouvez-vous faire? Combien en restera t-il?



6. _____

6. _____


7. _____

7. _____

8) Il y a 23 formes ci-dessous. Combien de groupes de 7 pouvez-vous faire? Combien en restera t-il?



9) Il y a 25 formes ci-dessous. Combien de groupes de 6 pouvez-vous faire? Combien en restera t-il?



8. _____

8. _____

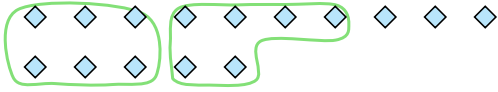
9. _____

9. _____



Utilisez les formes pour répondre aux questions.

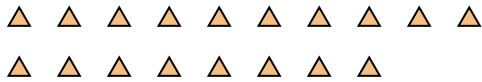
Ex) Il y a 15 formes ci-dessous. Combien de groupes de 6 pouvez-vous faire? Combien en restera t-il?



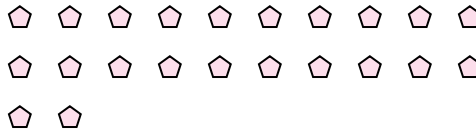
1) Il y a 12 formes ci-dessous. Combien de groupes de 5 pouvez-vous faire? Combien en restera t-il?



2) Il y a 18 formes ci-dessous. Combien de groupes de 2 pouvez-vous faire? Combien en restera t-il?



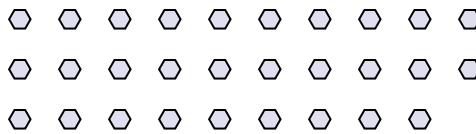
3) Il y a 22 formes ci-dessous. Combien de groupes de 5 pouvez-vous faire? Combien en restera t-il?



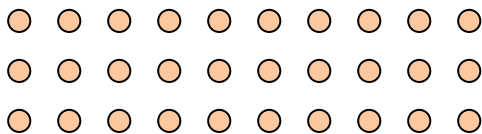
4) Il y a 10 formes ci-dessous. Combien de groupes de 9 pouvez-vous faire? Combien en restera t-il?



5) Il y a 29 formes ci-dessous. Combien de groupes de 6 pouvez-vous faire? Combien en restera t-il?




6) Il y a 30 formes ci-dessous. Combien de groupes de 7 pouvez-vous faire? Combien en restera t-il?




7) Il y a 29 formes ci-dessous. Combien de groupes de 6 pouvez-vous faire? Combien en restera t-il?



8) Il y a 23 formes ci-dessous. Combien de groupes de 7 pouvez-vous faire? Combien en restera t-il?



9) Il y a 25 formes ci-dessous. Combien de groupes de 6 pouvez-vous faire? Combien en restera t-il?



Réponses

Ex. 2

Ex. 3

1. 2

1. 2

2. 9

2. 0

3. 4

3. 2

4. 1

4. 1

5. 4

5. 5

6. 4

6. 2

7. 4

7. 5

8. 3

8. 2

9. 4

9. 1