

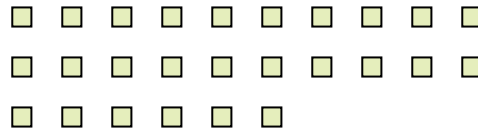


Utilisez les formes pour répondre aux questions.

Ex) Il y a 15 formes ci-dessous. Combien de groupes de 6 pouvez-vous faire? Combien en restera t-il?



1) Il y a 26 formes ci-dessous. Combien de groupes de 2 pouvez-vous faire? Combien en restera t-il?



Réponses

Ex. 2

Ex. 3

1. _____

1. _____

2. _____

2. _____

3. _____

3. _____

4. _____

4. _____

5. _____

5. _____

6. _____

6. _____

7. _____

7. _____

8. _____

8. _____


9. _____

9. _____

2) Il y a 26 formes ci-dessous. Combien de groupes de 3 pouvez-vous faire? Combien en restera t-il?



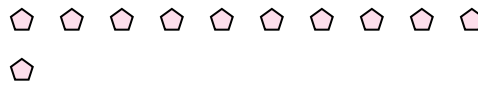
3) Il y a 27 formes ci-dessous. Combien de groupes de 2 pouvez-vous faire? Combien en restera t-il?



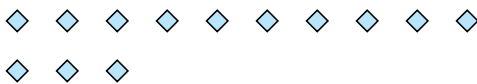
4) Il y a 19 formes ci-dessous. Combien de groupes de 2 pouvez-vous faire? Combien en restera t-il?




5) Il y a 11 formes ci-dessous. Combien de groupes de 8 pouvez-vous faire? Combien en restera t-il?



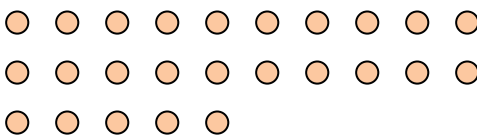
6) Il y a 13 formes ci-dessous. Combien de groupes de 7 pouvez-vous faire? Combien en restera t-il?




7) Il y a 22 formes ci-dessous. Combien de groupes de 2 pouvez-vous faire? Combien en restera t-il?



8) Il y a 25 formes ci-dessous. Combien de groupes de 2 pouvez-vous faire? Combien en restera t-il?



9) Il y a 29 formes ci-dessous. Combien de groupes de 5 pouvez-vous faire? Combien en restera t-il?



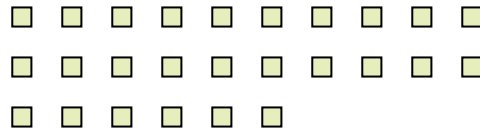


Utilisez les formes pour répondre aux questions.

Ex) Il y a 15 formes ci-dessous. Combien de groupes de 6 pouvez-vous faire? Combien en restera t-il?



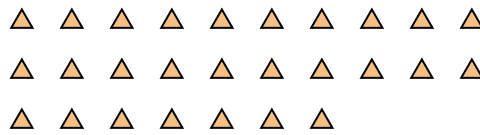
1) Il y a 26 formes ci-dessous. Combien de groupes de 2 pouvez-vous faire? Combien en restera t-il?



2) Il y a 26 formes ci-dessous. Combien de groupes de 3 pouvez-vous faire? Combien en restera t-il?



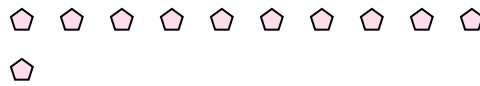
3) Il y a 27 formes ci-dessous. Combien de groupes de 2 pouvez-vous faire? Combien en restera t-il?



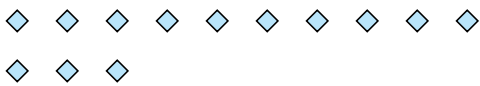
4) Il y a 19 formes ci-dessous. Combien de groupes de 2 pouvez-vous faire? Combien en restera t-il?




5) Il y a 11 formes ci-dessous. Combien de groupes de 8 pouvez-vous faire? Combien en restera t-il?



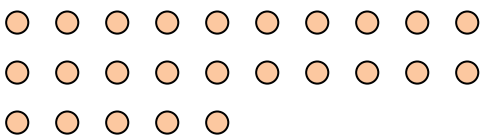
6) Il y a 13 formes ci-dessous. Combien de groupes de 7 pouvez-vous faire? Combien en restera t-il?




7) Il y a 22 formes ci-dessous. Combien de groupes de 2 pouvez-vous faire? Combien en restera t-il?



8) Il y a 25 formes ci-dessous. Combien de groupes de 2 pouvez-vous faire? Combien en restera t-il?



9) Il y a 29 formes ci-dessous. Combien de groupes de 5 pouvez-vous faire? Combien en restera t-il?



Réponses

Ex. 2

Ex. 3

1. 13

1. 0

2. 8

2. 2

3. 13

3. 1

4. 9

4. 1

5. 1

5. 3

6. 1

6. 6

7. 11

7. 0

8. 12

8. 1

9. 5

9. 4