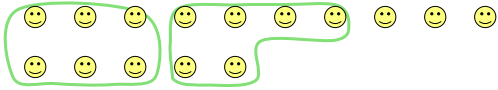


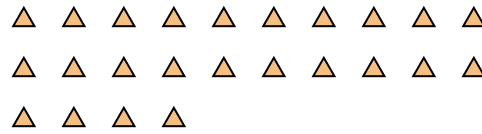


Utilisez les formes pour répondre aux questions.

Ex) Il y a 15 formes ci-dessous. Combien de groupes de 6 pouvez-vous faire? Combien en restera t-il?



1) Il y a 24 formes ci-dessous. Combien de groupes de 6 pouvez-vous faire? Combien en restera t-il?



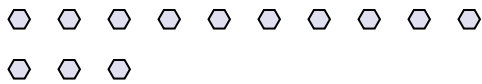
2) Il y a 14 formes ci-dessous. Combien de groupes de 2 pouvez-vous faire? Combien en restera t-il?




3) Il y a 16 formes ci-dessous. Combien de groupes de 6 pouvez-vous faire? Combien en restera t-il?



4) Il y a 13 formes ci-dessous. Combien de groupes de 8 pouvez-vous faire? Combien en restera t-il?



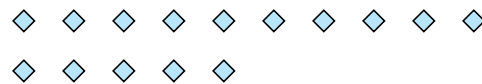
5) Il y a 27 formes ci-dessous. Combien de groupes de 5 pouvez-vous faire? Combien en restera t-il?




6) Il y a 12 formes ci-dessous. Combien de groupes de 3 pouvez-vous faire? Combien en restera t-il?



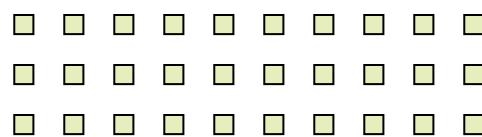
7) Il y a 15 formes ci-dessous. Combien de groupes de 8 pouvez-vous faire? Combien en restera t-il?



8) Il y a 25 formes ci-dessous. Combien de groupes de 8 pouvez-vous faire? Combien en restera t-il?



9) Il y a 30 formes ci-dessous. Combien de groupes de 5 pouvez-vous faire? Combien en restera t-il?



Réponses

Ex. 2

Ex. 3

1. _____

1. _____

2. _____

2. _____

3. _____

3. _____

4. _____

4. _____

5. _____

5. _____

6. _____

6. _____

7. _____

7. _____

8. _____

8. _____

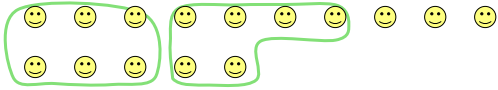
9. _____

9. _____

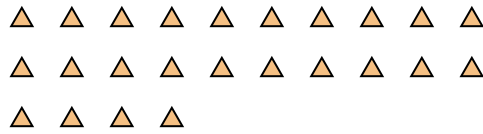


Utilisez les formes pour répondre aux questions.

Ex) Il y a 15 formes ci-dessous. Combien de groupes de 6 pouvez-vous faire? Combien en restera t-il?



1) Il y a 24 formes ci-dessous. Combien de groupes de 6 pouvez-vous faire? Combien en restera t-il?



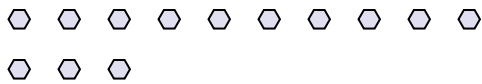
2) Il y a 14 formes ci-dessous. Combien de groupes de 2 pouvez-vous faire? Combien en restera t-il?




3) Il y a 16 formes ci-dessous. Combien de groupes de 6 pouvez-vous faire? Combien en restera t-il?



4) Il y a 13 formes ci-dessous. Combien de groupes de 8 pouvez-vous faire? Combien en restera t-il?



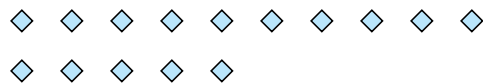
5) Il y a 27 formes ci-dessous. Combien de groupes de 5 pouvez-vous faire? Combien en restera t-il?




6) Il y a 12 formes ci-dessous. Combien de groupes de 3 pouvez-vous faire? Combien en restera t-il?



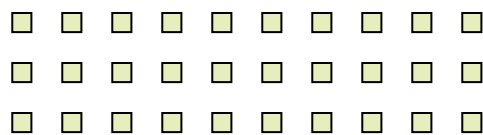
7) Il y a 15 formes ci-dessous. Combien de groupes de 8 pouvez-vous faire? Combien en restera t-il?



8) Il y a 25 formes ci-dessous. Combien de groupes de 8 pouvez-vous faire? Combien en restera t-il?



9) Il y a 30 formes ci-dessous. Combien de groupes de 5 pouvez-vous faire? Combien en restera t-il?



Réponses

Ex. 2

Ex. 3

1. 4

1. 0

2. 7

2. 0

3. 2

3. 4

4. 1

4. 5

5. 5

5. 2

6. 4

6. 0

7. 1

7. 7

8. 3

8. 1

9. 6

9. 0