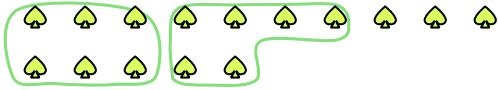


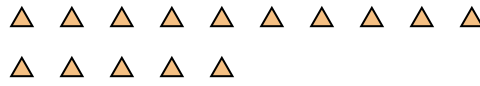


Utilisez les formes pour répondre aux questions.

Ex) Il y a 15 formes ci-dessous. Combien de groupes de 6 pouvez-vous faire? Combien en restera t-il?



1) Il y a 15 formes ci-dessous. Combien de groupes de 5 pouvez-vous faire? Combien en restera t-il?

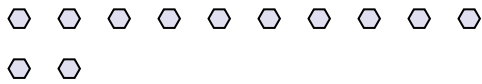


Réponses


Ex. 2

Ex. 3

2) Il y a 12 formes ci-dessous. Combien de groupes de 7 pouvez-vous faire? Combien en restera t-il?



3) Il y a 22 formes ci-dessous. Combien de groupes de 8 pouvez-vous faire? Combien en restera t-il?



1. _____

1. _____

2. _____

2. _____

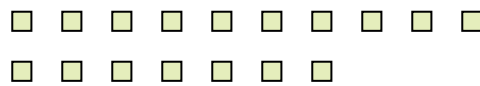
3. _____

3. _____

4) Il y a 26 formes ci-dessous. Combien de groupes de 5 pouvez-vous faire? Combien en restera t-il?



5) Il y a 17 formes ci-dessous. Combien de groupes de 2 pouvez-vous faire? Combien en restera t-il?




4. _____

4. _____

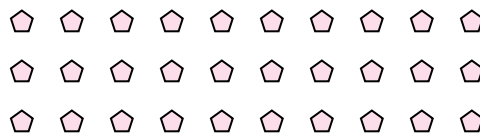
5. _____

5. _____

6) Il y a 29 formes ci-dessous. Combien de groupes de 6 pouvez-vous faire? Combien en restera t-il?



7) Il y a 30 formes ci-dessous. Combien de groupes de 3 pouvez-vous faire? Combien en restera t-il?



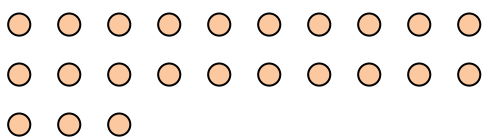
6. _____

6. _____

7. _____

7. _____

8) Il y a 23 formes ci-dessous. Combien de groupes de 7 pouvez-vous faire? Combien en restera t-il?



9) Il y a 16 formes ci-dessous. Combien de groupes de 2 pouvez-vous faire? Combien en restera t-il?



8. _____

8. _____

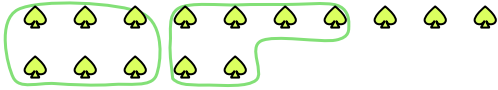
9. _____

9. _____

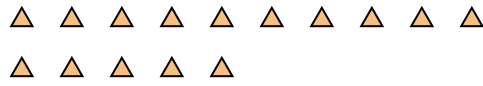


Utilisez les formes pour répondre aux questions.

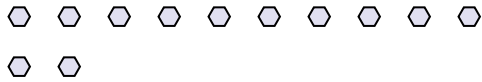
Ex) Il y a 15 formes ci-dessous. Combien de groupes de 6 pouvez-vous faire? Combien en restera t-il?




1) Il y a 15 formes ci-dessous. Combien de groupes de 5 pouvez-vous faire? Combien en restera t-il?



2) Il y a 12 formes ci-dessous. Combien de groupes de 7 pouvez-vous faire? Combien en restera t-il?



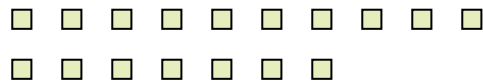
3) Il y a 22 formes ci-dessous. Combien de groupes de 8 pouvez-vous faire? Combien en restera t-il?



4) Il y a 26 formes ci-dessous. Combien de groupes de 5 pouvez-vous faire? Combien en restera t-il?



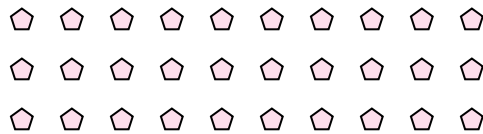
5) Il y a 17 formes ci-dessous. Combien de groupes de 2 pouvez-vous faire? Combien en restera t-il?



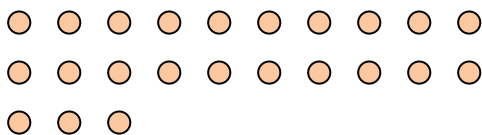
6) Il y a 29 formes ci-dessous. Combien de groupes de 6 pouvez-vous faire? Combien en restera t-il?



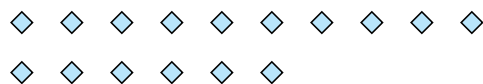
7) Il y a 30 formes ci-dessous. Combien de groupes de 3 pouvez-vous faire? Combien en restera t-il?



8) Il y a 23 formes ci-dessous. Combien de groupes de 7 pouvez-vous faire? Combien en restera t-il?



9) Il y a 16 formes ci-dessous. Combien de groupes de 2 pouvez-vous faire? Combien en restera t-il?



Réponses

Ex. 2

Ex. 3

1. 3

1. 0

2. 1

2. 5

3. 2

3. 6

4. 5

4. 1

5. 8

5. 1

6. 4

6. 5

7. 10

7. 0

8. 3

8. 2

9. 8

9. 0