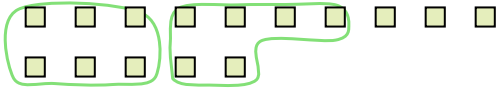




Utilisez les formes pour répondre aux questions.

Ex) Il y a 15 formes ci-dessous. Combien de groupes de 6 pouvez-vous faire? Combien en restera t-il?



1) Il y a 24 formes ci-dessous. Combien de groupes de 3 pouvez-vous faire? Combien en restera t-il?



Réponses

Ex. 2

Ex. 3

2) Il y a 10 formes ci-dessous. Combien de groupes de 9 pouvez-vous faire? Combien en restera t-il?



3) Il y a 14 formes ci-dessous. Combien de groupes de 6 pouvez-vous faire? Combien en restera t-il?



1. _____

1. _____


2. _____

2. _____

3. _____

3. _____

4) Il y a 27 formes ci-dessous. Combien de groupes de 5 pouvez-vous faire? Combien en restera t-il?



5) Il y a 22 formes ci-dessous. Combien de groupes de 6 pouvez-vous faire? Combien en restera t-il?



4. _____

4. _____

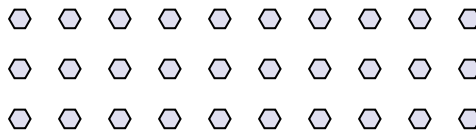
5. _____

5. _____

6) Il y a 13 formes ci-dessous. Combien de groupes de 6 pouvez-vous faire? Combien en restera t-il?



7) Il y a 30 formes ci-dessous. Combien de groupes de 6 pouvez-vous faire? Combien en restera t-il?



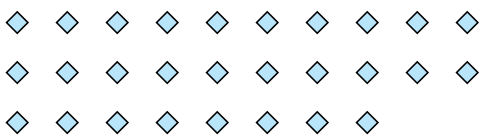
6. _____

6. _____

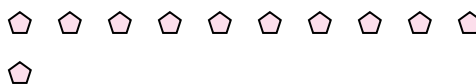
7. _____

7. _____

8) Il y a 28 formes ci-dessous. Combien de groupes de 3 pouvez-vous faire? Combien en restera t-il?



9) Il y a 11 formes ci-dessous. Combien de groupes de 2 pouvez-vous faire? Combien en restera t-il?



8. _____

8. _____

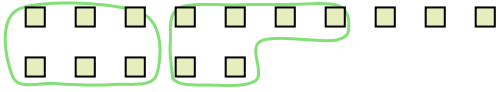
9. _____

9. _____



Utilisez les formes pour répondre aux questions.

Ex) Il y a 15 formes ci-dessous. Combien de groupes de 6 pouvez-vous faire? Combien en restera t-il?




1) Il y a 24 formes ci-dessous. Combien de groupes de 3 pouvez-vous faire? Combien en restera t-il?




2) Il y a 10 formes ci-dessous. Combien de groupes de 9 pouvez-vous faire? Combien en restera t-il?



3) Il y a 14 formes ci-dessous. Combien de groupes de 6 pouvez-vous faire? Combien en restera t-il?



4) Il y a 27 formes ci-dessous. Combien de groupes de 5 pouvez-vous faire? Combien en restera t-il?



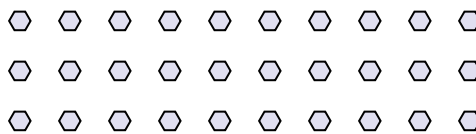
5) Il y a 22 formes ci-dessous. Combien de groupes de 6 pouvez-vous faire? Combien en restera t-il?



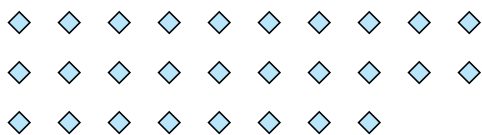
6) Il y a 13 formes ci-dessous. Combien de groupes de 6 pouvez-vous faire? Combien en restera t-il?



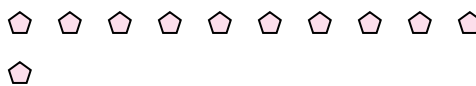
7) Il y a 30 formes ci-dessous. Combien de groupes de 6 pouvez-vous faire? Combien en restera t-il?



8) Il y a 28 formes ci-dessous. Combien de groupes de 3 pouvez-vous faire? Combien en restera t-il?



9) Il y a 11 formes ci-dessous. Combien de groupes de 2 pouvez-vous faire? Combien en restera t-il?



Réponses

Ex. 2

Ex. 3

1. 8

1. 0

2. 1

2. 1

3. 2

3. 2

4. 5

4. 2

5. 3

5. 4

6. 2

6. 1

7. 5

7. 0

8. 9

8. 1

9. 5

9. 1