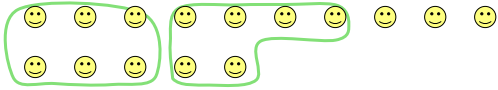





Utilisez les formes pour répondre aux questions.

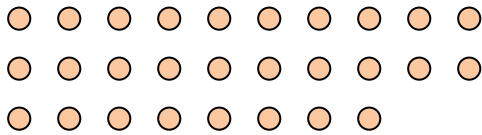
Ex) Il y a 15 formes ci-dessous. Combien de groupes de 6 pouvez-vous faire? Combien en restera t-il?




1) Il y a 26 formes ci-dessous. Combien de groupes de 4 pouvez-vous faire? Combien en restera t-il?



2) Il y a 28 formes ci-dessous. Combien de groupes de 2 pouvez-vous faire? Combien en restera t-il?



3) Il y a 23 formes ci-dessous. Combien de groupes de 3 pouvez-vous faire? Combien en restera t-il?




4) Il y a 20 formes ci-dessous. Combien de groupes de 6 pouvez-vous faire? Combien en restera t-il?



5) Il y a 30 formes ci-dessous. Combien de groupes de 4 pouvez-vous faire? Combien en restera t-il?



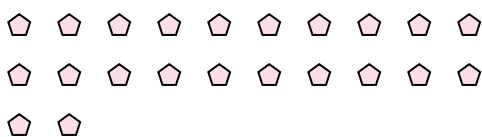
6) Il y a 25 formes ci-dessous. Combien de groupes de 5 pouvez-vous faire? Combien en restera t-il?



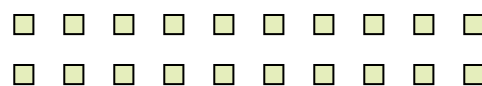
7) Il y a 10 formes ci-dessous. Combien de groupes de 7 pouvez-vous faire? Combien en restera t-il?



8) Il y a 22 formes ci-dessous. Combien de groupes de 9 pouvez-vous faire? Combien en restera t-il?



9) Il y a 20 formes ci-dessous. Combien de groupes de 2 pouvez-vous faire? Combien en restera t-il?



Réponses

Ex. 2

Ex. 3

1. \_\_\_\_\_

1. \_\_\_\_\_

2. \_\_\_\_\_

2. \_\_\_\_\_

3. \_\_\_\_\_

3. \_\_\_\_\_

4. \_\_\_\_\_

4. \_\_\_\_\_

5. \_\_\_\_\_

5. \_\_\_\_\_

6. \_\_\_\_\_

6. \_\_\_\_\_

7. \_\_\_\_\_

7. \_\_\_\_\_

8. \_\_\_\_\_

8. \_\_\_\_\_

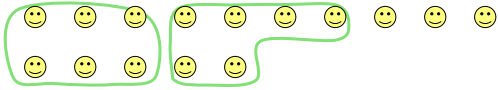
9. \_\_\_\_\_

9. \_\_\_\_\_




Utilisez les formes pour répondre aux questions.

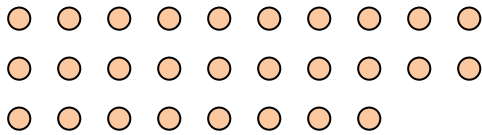
Ex) Il y a 15 formes ci-dessous. Combien de groupes de 6 pouvez-vous faire? Combien en restera t-il?




1) Il y a 26 formes ci-dessous. Combien de groupes de 4 pouvez-vous faire? Combien en restera t-il?



2) Il y a 28 formes ci-dessous. Combien de groupes de 2 pouvez-vous faire? Combien en restera t-il?



3) Il y a 23 formes ci-dessous. Combien de groupes de 3 pouvez-vous faire? Combien en restera t-il?




4) Il y a 20 formes ci-dessous. Combien de groupes de 6 pouvez-vous faire? Combien en restera t-il?



5) Il y a 30 formes ci-dessous. Combien de groupes de 4 pouvez-vous faire? Combien en restera t-il?



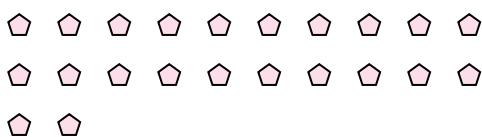
6) Il y a 25 formes ci-dessous. Combien de groupes de 5 pouvez-vous faire? Combien en restera t-il?



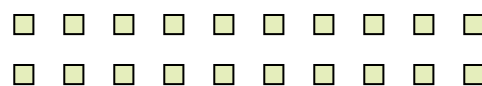
7) Il y a 10 formes ci-dessous. Combien de groupes de 7 pouvez-vous faire? Combien en restera t-il?



8) Il y a 22 formes ci-dessous. Combien de groupes de 9 pouvez-vous faire? Combien en restera t-il?



9) Il y a 20 formes ci-dessous. Combien de groupes de 2 pouvez-vous faire? Combien en restera t-il?



**Réponses**

Ex. 2

Ex. 3

1. 6

1. 2

2. 14

2. 0

3. 7

3. 2

4. 3

4. 2

5. 7

5. 2

6. 5

6. 0

7. 1

7. 3

8. 2

8. 4

9. 10

9. 0