

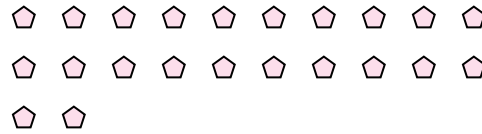


Utilisez les formes pour répondre aux questions.

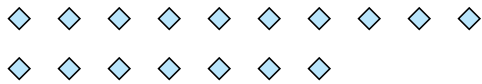
Ex) Il y a 15 formes ci-dessous. Combien de groupes de 6 pouvez-vous faire? Combien en restera t-il?




1) Il y a 22 formes ci-dessous. Combien de groupes de 8 pouvez-vous faire? Combien en restera t-il?



2) Il y a 17 formes ci-dessous. Combien de groupes de 8 pouvez-vous faire? Combien en restera t-il?




3) Il y a 10 formes ci-dessous. Combien de groupes de 3 pouvez-vous faire? Combien en restera t-il?




4) Il y a 17 formes ci-dessous. Combien de groupes de 4 pouvez-vous faire? Combien en restera t-il?



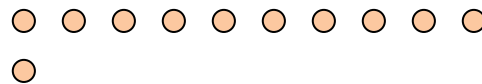
5) Il y a 23 formes ci-dessous. Combien de groupes de 6 pouvez-vous faire? Combien en restera t-il?



6) Il y a 23 formes ci-dessous. Combien de groupes de 9 pouvez-vous faire? Combien en restera t-il?



7) Il y a 11 formes ci-dessous. Combien de groupes de 2 pouvez-vous faire? Combien en restera t-il?



8) Il y a 21 formes ci-dessous. Combien de groupes de 5 pouvez-vous faire? Combien en restera t-il?



9) Il y a 17 formes ci-dessous. Combien de groupes de 9 pouvez-vous faire? Combien en restera t-il?



Réponses

Ex. 2

Ex. 3

1. _____

1. _____

2. _____

2. _____

3. _____

3. _____

4. _____

4. _____

5. _____

5. _____

6. _____

6. _____

7. _____

7. _____

8. _____

8. _____

9. _____

9. _____

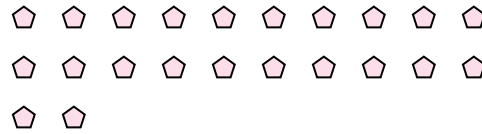


Utilisez les formes pour répondre aux questions.

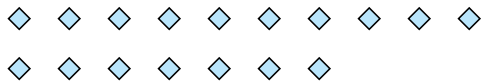
Ex) Il y a 15 formes ci-dessous. Combien de groupes de 6 pouvez-vous faire? Combien en restera t-il?




1) Il y a 22 formes ci-dessous. Combien de groupes de 8 pouvez-vous faire? Combien en restera t-il?



2) Il y a 17 formes ci-dessous. Combien de groupes de 8 pouvez-vous faire? Combien en restera t-il?




3) Il y a 10 formes ci-dessous. Combien de groupes de 3 pouvez-vous faire? Combien en restera t-il?




4) Il y a 17 formes ci-dessous. Combien de groupes de 4 pouvez-vous faire? Combien en restera t-il?



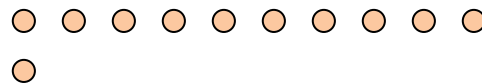
5) Il y a 23 formes ci-dessous. Combien de groupes de 6 pouvez-vous faire? Combien en restera t-il?



6) Il y a 23 formes ci-dessous. Combien de groupes de 9 pouvez-vous faire? Combien en restera t-il?



7) Il y a 11 formes ci-dessous. Combien de groupes de 2 pouvez-vous faire? Combien en restera t-il?



8) Il y a 21 formes ci-dessous. Combien de groupes de 5 pouvez-vous faire? Combien en restera t-il?



9) Il y a 17 formes ci-dessous. Combien de groupes de 9 pouvez-vous faire? Combien en restera t-il?



Réponses

Ex. 2

Ex. 3

1. 2

1. 6

2. 2

2. 1

3. 3

3. 1

4. 4

4. 1

5. 3

5. 5

6. 2

6. 5

7. 5

7. 1

8. 4

8. 1

9. 1

9. 8