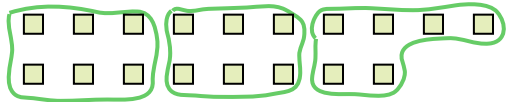





Utilisez les formes pour répondre aux questions.

Réponses

Ex) Combien de groupes de 6 pouvez-vous faire avec les 18 formes ci-dessous?

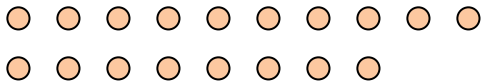


1) Combien de groupes de 8 pouvez-vous faire avec les 24 formes ci-dessous?




Ex. 3

2) Combien de groupes de 6 pouvez-vous faire avec les 18 formes ci-dessous?



3) Combien de groupes de 4 pouvez-vous faire avec les 20 formes ci-dessous?



1. _____

2. _____

3. _____

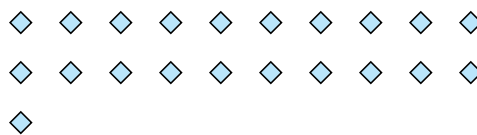
4. _____

5. _____

4) Combien de groupes de 5 pouvez-vous faire avec les 35 formes ci-dessous?



5) Combien de groupes de 7 pouvez-vous faire avec les 21 formes ci-dessous?



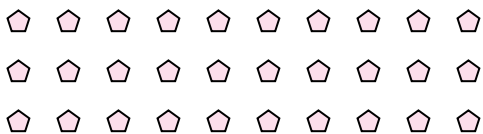
6. _____

7. _____

8. _____

9. _____

6) Combien de groupes de 3 pouvez-vous faire avec les 30 formes ci-dessous?




7) Combien de groupes de 5 pouvez-vous faire avec les 15 formes ci-dessous?




10. _____

11. _____

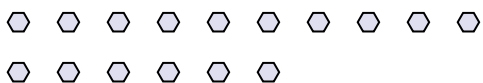
8) Combien de groupes de 6 pouvez-vous faire avec les 30 formes ci-dessous?



9) Combien de groupes de 7 pouvez-vous faire avec les 28 formes ci-dessous?



10) Combien de groupes de 4 pouvez-vous faire avec les 16 formes ci-dessous?



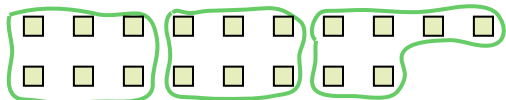
11) Combien de groupes de 3 pouvez-vous faire avec les 12 formes ci-dessous?






Utilisez les formes pour répondre aux questions.

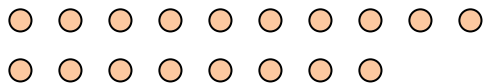
Ex) Combien de groupes de 6 pouvez-vous faire avec les 18 formes ci-dessous?



1) Combien de groupes de 8 pouvez-vous faire avec les 24 formes ci-dessous?



2) Combien de groupes de 6 pouvez-vous faire avec les 18 formes ci-dessous?



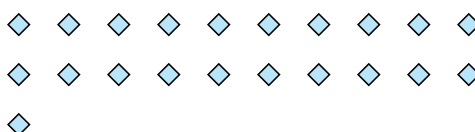
3) Combien de groupes de 4 pouvez-vous faire avec les 20 formes ci-dessous?



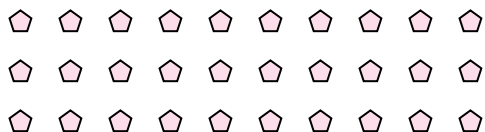
4) Combien de groupes de 5 pouvez-vous faire avec les 35 formes ci-dessous?



5) Combien de groupes de 7 pouvez-vous faire avec les 21 formes ci-dessous?



6) Combien de groupes de 3 pouvez-vous faire avec les 30 formes ci-dessous?




7) Combien de groupes de 5 pouvez-vous faire avec les 15 formes ci-dessous?



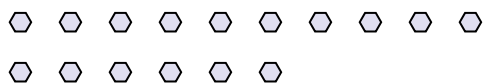
8) Combien de groupes de 6 pouvez-vous faire avec les 30 formes ci-dessous?



9) Combien de groupes de 7 pouvez-vous faire avec les 28 formes ci-dessous?



10) Combien de groupes de 4 pouvez-vous faire avec les 16 formes ci-dessous?



11) Combien de groupes de 3 pouvez-vous faire avec les 12 formes ci-dessous?



Réponses

Ex. 3

1. 3

2. 3

3. 5

4. 7

5. 3

6. 10

7. 3

8. 5

9. 4

10. 4

11. 4